

Ara treballarem el número 60.

FITXA 17. La família del 60

Nom _____

Data _____

- 60 ▶ seixanta
- 61 ▶ seixanta-u
seixanta-una
- 62 ▶ seixanta-dos
seixanta-dues
- 63 ▶ seixanta-tres
- 64 ▶ seixanta-quatre
- 65 ▶ seixanta-cinc
- 66 ▶ seixanta-sis
- 67 ▶ seixanta-set
- 68 ▶ seixanta-vuit
- 69 ▶ seixanta-nou

0	1	2	3	4	5	6	7	8	9
10	11	12	13	14	15	16	17	18	19
20	21	22	23	24	25	26	27	28	29
30	31	32	33	34	35	36	37	38	39
40	41	42	43	44	45	46	47	48	49
50	51	52	53	54	55	56	57	58	59
60	61	62	63	64	65	66	67	68	69
70	71	72	73	74	75	76	77	78	79
80	81	82	83	84	85	86	87	88	89
90	91	92	93	94	95	96	97	98	99



1 Fes servir adhesius de barretes i forma aquests nombres.

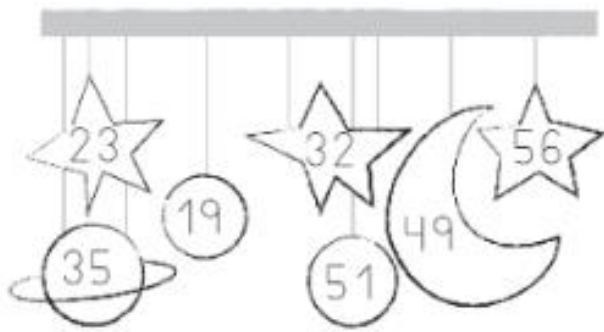
seixanta-set


seixanta-cinc


cinquanta-sis


cinquanta-set


2 Observa els nombres i pinta:



 Té 3 unitats.

 Té 5 desenes.

 Té 3 desenes.

 Té 9 unitats.

3 Completa:

40	41	42	43	44	45	46	47	48	49
+ 10	+ 10	+ 10	+ 10	+ 10	+ 10	+ 10	+ 10	+ 10	+ 10
50									

4 Escriu el nombre anterior i el posterior.

<input type="text"/> — 50 — <input type="text"/>	<input type="text"/> — 52 — <input type="text"/>	<input type="text"/> — 56 — <input type="text"/>
<input type="text"/> — 54 — <input type="text"/>	<input type="text"/> — 58 — <input type="text"/>	<input type="text"/> — 51 — <input type="text"/>

5 Escriu cada nombre al seu lloc.

36 - 54 - 28 - 59 - 52 - 14

<input type="text"/> <input type="text"/> <input type="text"/>		<input type="text"/> <input type="text"/> <input type="text"/>
MÉS PETITS QUE 50		MÉS GRANS QUE 50