


MATEMÀTIQUES

Problemes 1

1.

Al zoo pesen els animals.
Quants quilos pesa el tigre menys
que el rinoceront?



1. Comprén.


Pregunta: _____

Dades: _____

2. Pensa què cal fer.

- una suma.
- una resta.
- una resta i una suma.

3. Calcula.



Solució:

2.

Al restaurant del meu poble preparen el saló
per a la celebració d'una boda. Hi han col·locat
110 taules amb 5 cadires cada una.
Quantes persones hi podran seure?

1. Comprén.


Pregunta: _____

Dades: _____

2. Pensa què cal fer.

- una suma.
- una resta i una suma.
- una multiplicació.


3. Calcula.



Solució:

3.

Carles vol saber quant costen les sabates d'esport. El dependent li ha dit que costen el triple que les sabates de carrer. Quant costen les sabates d'esport?



1. Comprén.


Pregunta: _____

Dades: _____

2. Pensa què cal fer.

- una multiplicació.
- una suma.
- una resta i una suma.

3. Calcula.



Solució:

4.

La germana de David té 8 caixes de bombons com aquesta. Quants bombons té la germana de David?



1. Comprén.


Pregunta: _____

Dades: _____

2. Pensa què cal fer.

- una suma.
- una suma i una multiplicació.
- una multiplicació.

3. Calcula.



Solució:

MATEMÀTIQUES

Problemes 2

1.

Cal carregar tots aquests paquets en parts iguals en 4 camions. Quants paquets es carregaran en cada camió?



1. Comprén.

Pregunta: _____

Dades: _____


2. Pensa què cal fer.

una suma.

una resta.

una divisió.

3. Calcula.



Solució: _____

2.

En un llibre de paisatges hi ha 2.976 fotografies. En cada pàgina del llibre hi ha 12 fotografies. Quantes pàgines té aquest llibre?

1. Comprén.

Pregunta: _____

Dades: _____


2. Pensa què cal fer.

una suma.

una divisió.

una multiplicació.

3. Calcula.



Solució: _____

3.

Ivan ha pagat 280 € per tota la compra. Quant li ha costat l'abric?



1. Comprén.

Pregunta: _____

Dades: _____


2. Pensa què cal fer.

una suma i una resta.

una divisió.

una multiplicació.

3. Calcula.



Solució:

4.

En una llibreria hi havia 2.735 llibres. Aquest mes han venut 289 llibres i han comprat 549 llibres nous. Quants llibres hi ha a la llibreria?

1. Comprén.

Pregunta: _____

Dades: _____


2. Pensa què cal fer.

una suma.

una divisió.

una resta i una suma.

3. Calcula.



Solució:
