



Maria Àngel Nati César Yaiza Lara  
Pau  
Irene Celia Selena  
Omar  
Lluc

Anais Jan Alexandra Juan Nataly  
Luca Júlia C. Lucas Júlia P. Tànit  
Àlex Ander

**SOM LA CLASSE PEDRAFORCA**

# Instruccions

- Aquestes feinetes estan pensades per fer-les durant tota la setmana.
- No hi ha pressa, tens molt de temps, no correis.
- Si a casa tens impressora, pots imprimir i fer les fitxes. Si no en tens, pots copiar l'exercici en un full o llibreta i anar fent.
- Hi ha exercicis molt divertits que tenen aquest dibuix 🍀. Anima't a compartir les teves respostes amb la resta de companys/es. Ho pots fer a l'apartat "comentaris" 💬.

Hola companys i companyes de la classe de 2n! Com esteu? Doncs jo molt bé perquè el dia 19 va ser el meu aniversari. Sabeu quants anys he fet? 34 primaveres. I, tot i que seguim confinats a casa, ha sigut un aniversari molt especial perquè ha sigut el primer amb el Quiu.



També estic molt contenta perquè em vaig poder menjar el primer gelat d'aquest any. Mmm... Era boníssim!

Sempre me'l demano de "Kinder Bueno". Però també m'agrada molt de llet merengada, coco, nata, vainilla, tarta de formatge o llimona.

Els que porten molta xocolata no m'agraden gens 😞.



# Completa les frases

- El dia del meu aniversari m'agrada fer .....  
.....
- M'agradaria rebre pel meu aniversari.....  
.....
- El gelat que més m'agrada és .....  
.....
- Vull anar a prendre un gelat amb.....  
perquè .....

# Què hem entès?

## Llegeix i contesta

- Portem moltes setmanes llegint moltíssim, així que aquesta setmana et proposo una activitat de lectura, però amb molt poques lletres.

¿'atreveixes?

- Instruccions:
  1. Observa amb molta cura la imatge. Hi ha molts detalls, fixa't-hi bé!
  2. Contesta les preguntes.
- Així de fàcil! Som-hi!

Què hem entès?  
Llegeix i contesta



1. Quin preu té la fruita?



\_\_\_\_\_

2. A quin telèfon has de trucar si vols comprar peixe?

\_\_\_\_\_

3. Quin any va obrir la peixateria?

\_\_\_\_\_

4. Quantes botifarres hi ha a la xarcuteria?

\_\_\_\_\_

5. Quins dies es fa la festa del mercat?



\_\_\_\_\_



6. Quins números tenen les parades?



\_\_\_\_\_

7. Quants globus hi ha? \_\_\_\_\_

8. Quantes persones esperen per comprar? \_\_\_\_\_

9. Com creus que es diu la fruiteria? \_\_\_\_\_

10. Si fossis amo d'una carnisseria, quin nom li posaries?

\_\_\_\_\_



11. Per què creus que els clients no porten bosses de plàstic?

\_\_\_\_\_

# Frases trencades i “l”/“r”

1. Aquesta setmana us proposem que jugueu a aquest joc:

<https://recursosjoaprencacasa.cruilla.cat/1-2EP-catala-frase-trencada/>

Ens servirà per practicar l'ordre de les parts d'una oració.

2. Aquesta vegada practicarem les paraules que van amb “l” i “r”.

<https://clic.xtec.cat/projects/aventura/nivell1/01cic/jcllc.js/index.html>

# Els números ordinals

1. Completa la taula:

<b>Ordinal</b>	<b>Es llegeix</b>
1r	
	segon
3r	
4t	
	cinquè
	sisè
7è	
	vuitè
9è	
10è	

# Els números ordinals

2. Completa el dibuix:

tercer

quart

novè

1r

2n

5è

6è

10è

# El missatge secret

1. Fes les operacions. Després, escriu la lletra que correspon i trobaràs el missatge secret:

$340 - 240 = \boxed{100} \boxed{E}$

$65 - 15 = \boxed{\phantom{00}} \boxed{\phantom{00}}$

$B = 10 \quad C = 36$

$I = 500 \quad N = 250$

$15 + 10 = \boxed{\phantom{00}} \boxed{\phantom{00}}$

$70 + 30 = \boxed{\phantom{00}} \boxed{\phantom{00}}$

$180 - 60 = \boxed{\phantom{00}} \boxed{\phantom{00}}$

$375 - 350 = \boxed{\phantom{00}} \boxed{\phantom{00}}$

$200 - 170 = \boxed{\phantom{00}} \boxed{\phantom{00}}$

$599 - 499 = \boxed{\phantom{00}} \boxed{\phantom{00}}$

$125 + 125 = \boxed{\phantom{00}} \boxed{\phantom{00}}$

$18 + 18 = \boxed{\phantom{00}} \boxed{\phantom{00}}$

$599 - 589 = \boxed{\phantom{00}} \boxed{\phantom{00}}$

$49 - 24 = \boxed{\phantom{00}} \boxed{\phantom{00}}$

$112 + 88 = \boxed{\phantom{00}} \boxed{\phantom{00}}$

$250 + 250 = \boxed{\phantom{00}} \boxed{\phantom{00}}$

$D = 50 \quad E = 100 \quad T = 25$

$O = 200 \quad S = 120 \quad U = 30$

$475 - 225 = \boxed{\phantom{00}} \boxed{\phantom{00}}$

$15 + 15 = \boxed{\phantom{00}} \boxed{\phantom{00}}$

100   25   120   30   250   10   200   250

50   100   25   100   36   25   500   30

# Multipliquem

1. Relaciona:

$3 \times 3 \bullet$

$\bullet 3 + 3 + 3 + 3$

$2 \times 5 \bullet$

$\bullet 2 + 2 + 2 + 2 + 2$

$3 \times 4 \bullet$

$\bullet 4 + 4 + 4 + 4 + 4$

$4 \times 5 \bullet$

$\bullet 3 + 3 + 3$

2. Completa la taula:

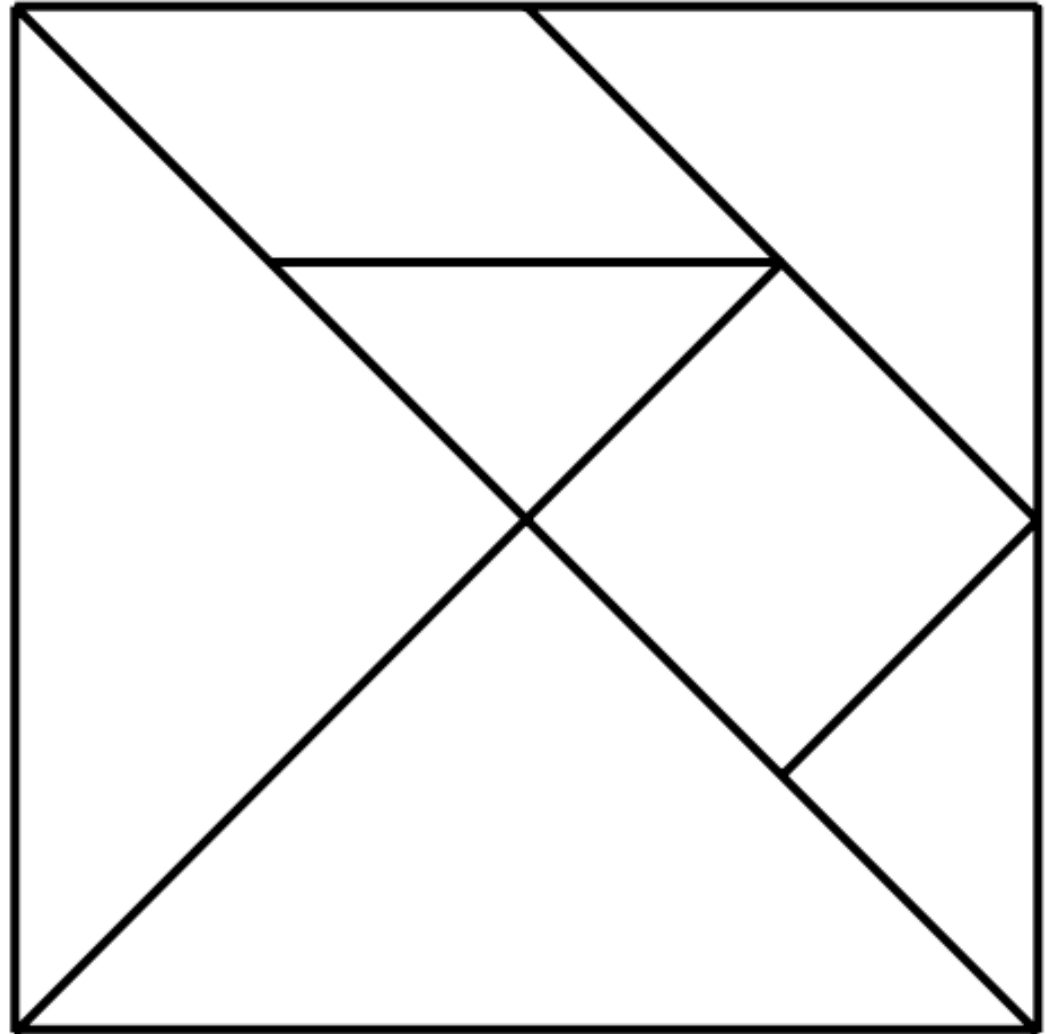
3 vegades 2	$2 + 2 + 2$	$2 \times 3$
2 vegades 2		
6 vegades 2		
5 vegades 3		
3 vegades 3		
4 vegades 3		

# El repte de la setmana (1) Tangram

1. Amb el tangram que vas construir la setmana passada ordena les peces de la més petita a la més gran. Fes una foto i me l'envies al correu.
2. Després, fes aquestes figures:
  - Amb els dos triangles petits construeix un triangle.
  - Amb els dos triangles petits construeix un quadrat.
3. Dibuixa les figures de l'exercici anterior i pinta-les.

# El repte de la setmana (1) Tangram

Si la setmana passada no vas poder construir el tangram, aquí et deixo una plantilla perquè et sigui més fàcil.





# El repte de la setmana (2) 🍀

2. Observa i pinta cada peça.

La peça vermella és a sota i al centre.

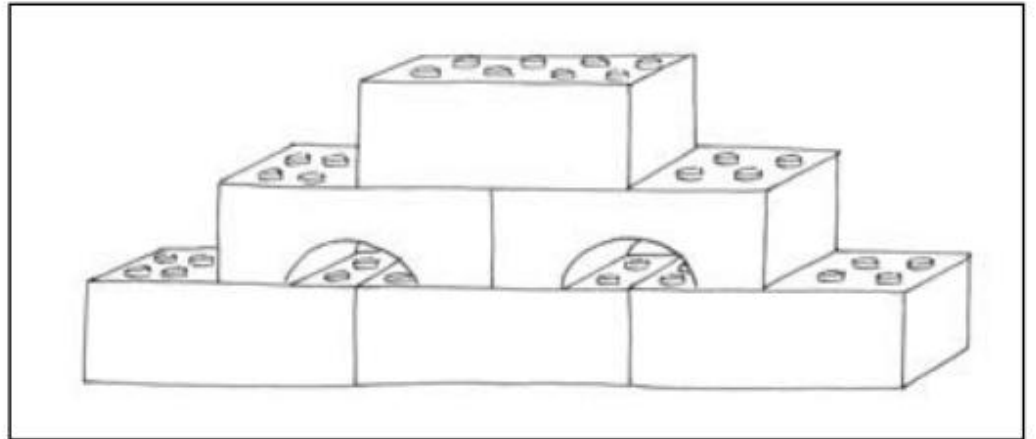
La peça blava és a dalt de tot.

La peça marró és a la dreta de la vermella.

La peça verda és a sobra de la marró.

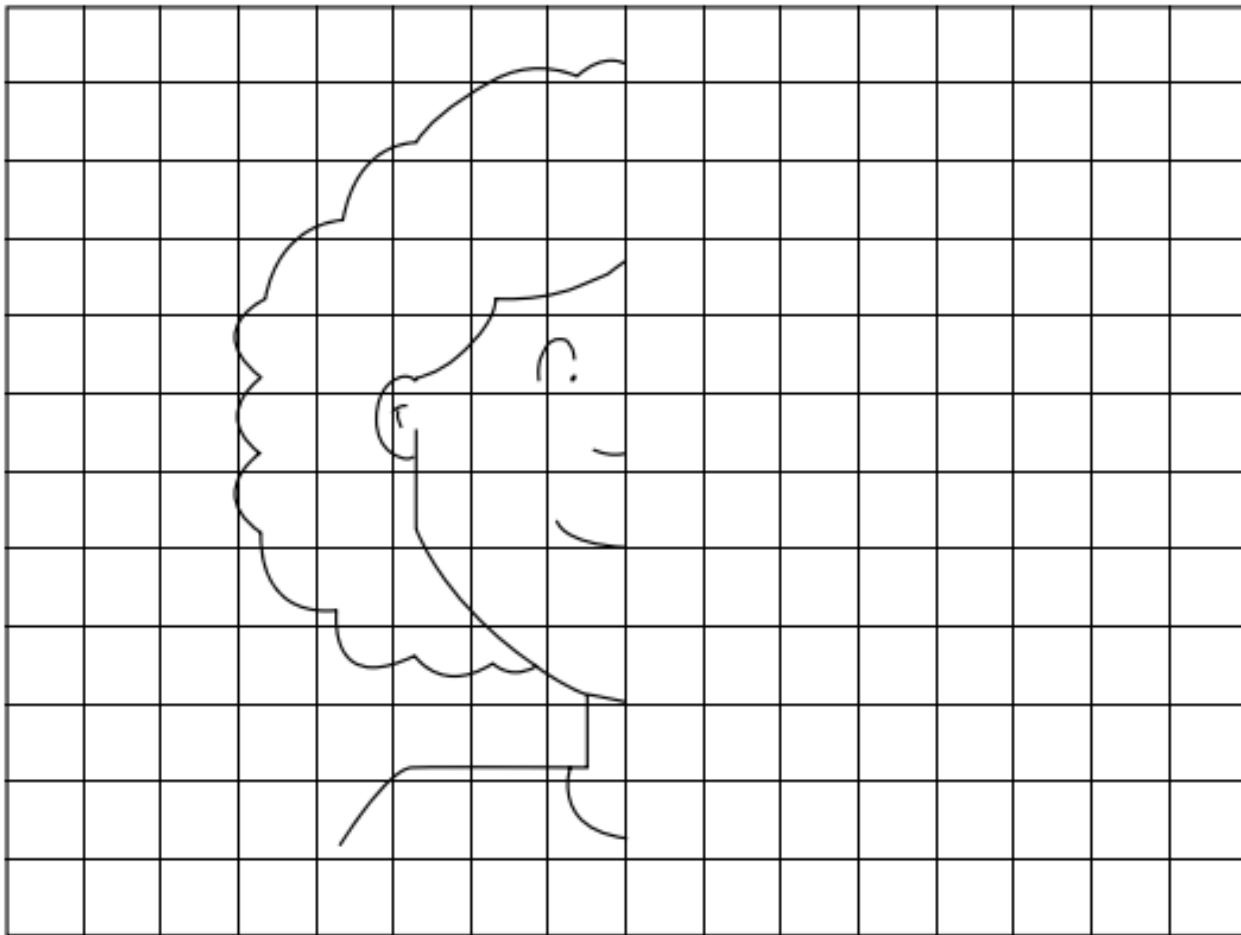
La peça rosa és a l'esquerra de la vermella.

La peça groga és al costat de la verda.




# El repte de la setmana (3)

- Completa el dibuix de manera simètrica i pinta'l:



Troba les 7 diferències



# PENSAMENTS

(Aquesta feineteta l'hem de fer al final de la setmana)

- Pensa en els colors del semàfor. Els canviaries?  
Quins colors posaries?
- Pensa en un animal exòtic, que no el pots trobar a prop de casa. T'agradaria tenir-lo de mascota?
- Pensa en una tasca de les feines de casa que t'agradi fer. Per què?
- Pensa en un objecte que no t'agradi. Pot ser qualsevol cosa del món. Per què no t'agrada?

Fins la propera  
setmana!

