

Nombres de set xifres: descomposició

Nom _____ Data _____

Recorda

Els nombres de set xifres són els nombres de la classe dels milions.

1 unitat de milió = 1.000.000 unitats ► 1 U. de milió = 1.000.000 U

1.000.000 es llegeix un milió.

1. Completa.

- 1 U. de milió = _____ U
- 2 U. de milió = _____ U
- 4 U. de milió = _____ U
- 5 U. de milió = _____ U
- 6 U. de milió = _____ U
- 7 U. de milió = _____ U
- 8 U. de milió = _____ U
- 9 U. de milió = _____ U

2. Relaciona.

2.000.000

8.000.000

5.000.000

7.000.000

9.000.000

vuit milions

dos milions

set milions

cinc milions

nou milions

3. Completa la descomposició de cada nombre.

2.154.763

- 2 U. de milió + 1 CM + 5 DM + _____ UM + _____ C + _____ D + _____ U
- 2.000.000 + 100.000 + _____ + _____ + _____ + _____ + _____

6.385.291

- _____ U. de milió + _____ CM + _____ DM + _____ UM + _____ C + _____ D + _____ U
- _____ + _____ + _____ + _____ + _____ + _____ + _____

8.427.428

- _____
- _____

Nombres de set xifres: lectura i escriptura

Nom _____ Data _____

Recorda

- Per exemple, el número 2.300.095 es llegeix dos milions tres-cents mil noranta-cinc.
- Per exemple, el número cinc milions vint-i-cinc mil set-cents s'escriu 5.025.700.

1. Escriu com es llegeixen.

- 1.670.590 ▶ _____
- 2.456.300 ▶ _____
- 5.700.095 ▶ _____
- 8.090.460 ▶ _____
- 9.008.067 ▶ _____

2. Escriu amb xifres.

- Tres milions cinc-cents vint-i-cinc mil nou-cents vuitanta. ▶
- Quatre milions devuit mil set-cents trenta-quatre. ▶
- Sis milions nou mil vuit-cents noranta-cinc. ▶
- Set milions setanta-nou mil nou. ▶
- Nou milions nou-cents vint mil quinze. ▶

3. Observa els nombres i escriu com es llegeixen.

3.890.750	8.500.799	5.076.084	9.006.060	7.006.003
-----------	-----------	-----------	-----------	-----------

- El nombre que té 9 U. de milió.
 ▶ _____
- El nombre que té 7 U. de milió.
 ▶ _____
- El nombre que té 8 U. de milió.
 ▶ _____

Nombres de set xifres: comparació

Nom _____ Data _____

Recorda

Per comparar nombres de set xifres, es comparen successivament les unitats de diferent ordre (unitats de milió, centenars de miler, desenes de miler, unitats de miler, etc.).

1. Ordena els nombres i utilitza el signe corresponent.

De menor a major

2.890.000 ○ ○




3.900.000 2.990.000

De major a menor

8.200.000 ○ ○

8.200.002 9.200.000

3. Observa el nombre d'habitants de cada poble i contesta.



- Quins pobles tenen més d'un milió tres-cents mil habitants?

- Quins pobles tenen menys d'un milió tres-cents cinquanta mil habitants?
