







Completa la taula posant atenció a les desenes i unitats del nombre del davant i a les del nombre del darrera. Sense córrer!

1		3	4	5	6	7	8	9	10
11	12	13	14	15	16	17		19	20
21	22	23		25	26	27	28	29	30
31	32	33	34	35		37	38		40
41	42	43	44	45	46	47		49	50

La classe **Tagament** està formada per **24** alumnes. Pensem i calculem!

Quantes nenes hi ha a la classe de 1r.? .....

I quants nens?.....

Quants alumnes aneu a dinar a casa?.....

Per saber quants alumnes es queden a casa a dinar a l'escola, has de restar o sumar?.....

Quants es queden doncs?.....

Quants especialistes tenim? (Castellà...) .....

Quantes classes fem fora de la nostra aula?.....