

NOM I COGNOM:

REPTES MATEMÀTICS

CICLE INICIAL (1R)

Podeu fer servir material manipulatiu, fer servir les operacions que coneixeu (suma i resta, vertical i horitzontal), utilitzar les estratègies que vulgueu (com la recta numèrica, dibuixar...) o fer ús del càlcul mental.


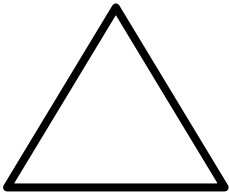




Sandra i Mireia

Escola Àgora (curs 2019-2020)

REPASSEM...?

Relaciona:



QUINES COSES TENS A CASA AMB FORMA DE...

CUB:

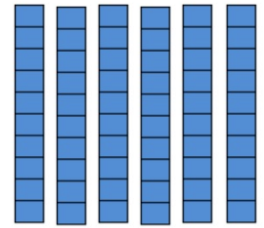
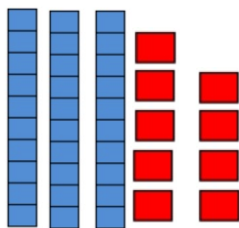
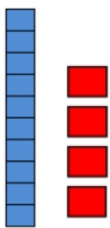
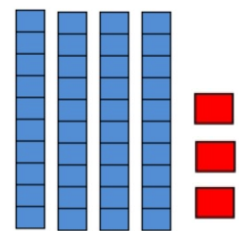
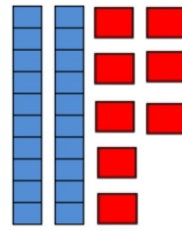
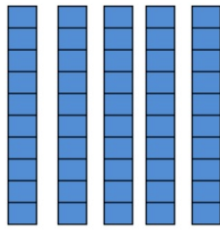
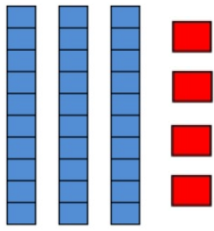
PIRÀMIDE:

ESFERA:

PRISMA:

CILINDRE:

UNITATS I DESENES: ESCRIU ELS NÚMEROS DINS DEL RECTANGLE.



MÉS GRAN QUE (>), MÉS PETIT QUE (<) O IGUAL (=)

$27 \square 21$

$93 \square 89 + 1$

$19 \square 13$

$14 \square 18 - 4$

$11 \square 16$

$28 \square 20 + 7$

$71 \square 77$

$35 \square 15 + 14$

$90 \square 91$

$66 \square 33 + 33$

$82 \square 89$

$51 \square 10 + 18$

$47 \square 47$

$18 \square 19 - 2$

$54 \square 50$

$20 \square 24 - 3$