



RELACIONA CADA QUANTITAT AMB EL SEU DOBLE:



14



10

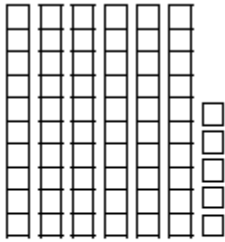


6

COMPLETA:

4 DESENES i 8 UNITATS	48	40 + 8
DESENES i UNITATS	71	
DESENES i UNITATS		30 + 6
2 DESENES i 8 UNITATS		

DIBUIXA I COMPLETA.




_____ DESENES i _____ UNITATS

$60 + 5 = \underline{\hspace{2cm}}$



5 DESENES i 6 UNITATS

_____ + _____ = _____

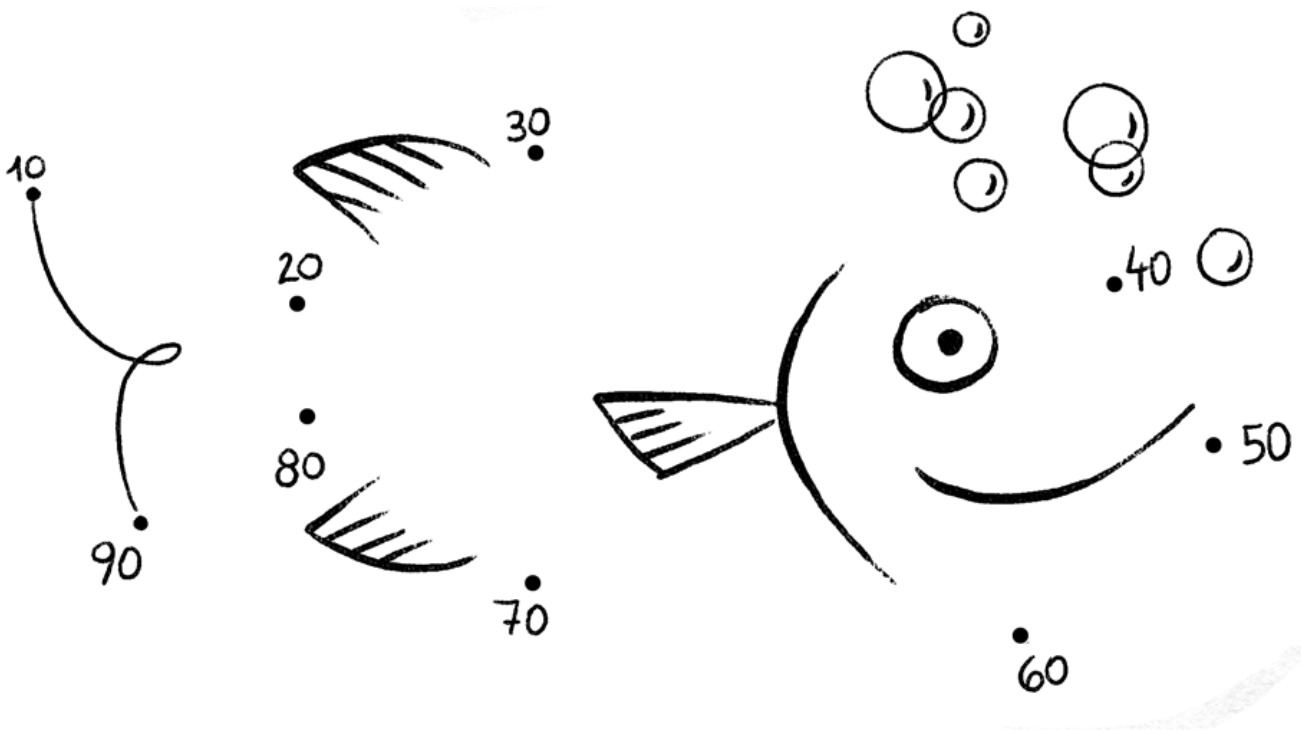


_____ DESENES i 8 UNITATS

$50 + \underline{\hspace{2cm}} = \underline{\hspace{2cm}}$

SAPS COMPTAR DE 10 EN 10?

UNEIX ELS NÚMEROS PER COMPLETAR EL DIBUIX.




CALCULA QUANTS CÈNTIMS HI HA:



HI HA _____ CÈNTIMS.

SI VOLS, POTS FER AQUÍ ELS TEUS
CÀLCULS:



HI HA _____ CÈNTIMS.

SI VOLS, POTS FER AQUÍ ELS TEUS
CÀLCULS:

**FES AQUESTES SUMES. DESPRÉS, POTS COMPROVAR EL
RESULTAT AMB LA CALCULADORA.**

$$\begin{array}{r} 10 \\ 50 \\ + 10 \\ \hline \\ \hline \end{array}$$

$$\begin{array}{r} 35 \\ 23 \\ + 10 \\ \hline \\ \hline \end{array}$$

$$\begin{array}{r} 49 \\ 10 \\ + 10 \\ \hline \\ \hline \end{array}$$

$$\begin{array}{r} 21 \\ 14 \\ + 32 \\ \hline \\ \hline \end{array}$$

MATEMÀTIQUES 1R: Setmana 22-29 de maig 2020

$$\begin{array}{r} 32 \\ 11 \\ + 16 \\ \hline \\ \hline \end{array}$$

$$\begin{array}{r} 45 \\ 12 \\ + 12 \\ \hline \\ \hline \end{array}$$

$$\begin{array}{r} 61 \\ 7 \\ + 1 \\ \hline \\ \hline \end{array}$$

$$\begin{array}{r} 20 \\ 21 \\ + 23 \\ \hline \\ \hline \end{array}$$

ESCRIU < > 0 =

56 ___ 96 65 ___ 65 47 ___ 74 15 ___ 14

58 ___ 23 69 ___ 47 34 ___ 45 68 ___ 32

36 ___ 36 76 ___ 45 51 ___ 55 60 ___ 60