

treballem a l'estiu!



4 7

Nom: _____



1 Llegeix aquest text:

Molts pobles nòmades traginen les seves cases i les munten allà on s'estableixen. Això és el que fan, per exemple, els mongols. Però, saps quins passos cal seguir per **muntar un ger**?

Primer cal col·locar tots els mobles a la zona que serà l'interior de l'habitatge: l'estufa al centre, els baguls, els estris de cuina, etc. Si no es fa d'aquesta manera, després no passaran per la porta.

Després es fixen les parets, que estan fetes d'un entramat de fustes, i els travessers que formen la teulada. Només queda encaixar la porta i l'estructura de la casa ja estarà acabada.

Tot seguit es folren les parets amb diverses capes de feltre, una tela feta amb pèl d'animal. D'aquesta manera, s'aconsegueix aïllar la tenda del fred.

Per acabar, es cobreix tota la tenda amb una gran tela impermeable i es lliga tot amb cordes, per evitar que se l'emporti el vent. I ja està! A dins s'hi està ben calentó.

2 Marca l'oració que resumeixi millor el contingut del text:

- Han construït un edifici de trenta plantes.
- Instal·laran una planta d'electrodomèstics al meu poble.
- Ja he regat les plantes.

3 Numera aquestes il·lustracions segons els passos que es descriuen al text:



4 Fixa't en aquestes paraules i subratlla l'entrada que trobaries al diccionari:

camell
camella
camells
camelles

freds
fred
fredes
freda

agricultora
agricultores
agricultors
agricultor

àrids
àrida
àrides
àrid



Nom: _____ Data: _____

1 Llegeix aquest text:

Sabies que les papallones poden ser un menjar molt gustós? Almenys per a alguns animals, com ara els ocells, les musaranyes, els eriçons i les aranyes.

Per **evitar que se les mengin**, les papallones han desenvolupat diferents trucs: algunes papallones emeten un **so agut** per espantar els animals que s'hi acosten. En sentir-lo, els seus depredadors se n'allunyen i les deixen tranquil·les.


Altres espècies de papallones tenen a les ales uns **ulls falsos** que s'il·luminen quan se senten amenaçades. D'aquesta manera semblen animals més grans.

Un altre sistema de defensa és el camuflament o el mimetisme, pel qual algunes espècies imiten el color de les flors o de les fulles o bé volen en ziga-zaga arran de terra i prenen el color de la terra per tal de passar inadvertides.

2 Completa amb les dades del text:

Hi ha diversos animals que s'alimenten de papallones: _____,
_____, _____ i _____.

3 Completa l'esquema del text:



Emetre un so agut. _____

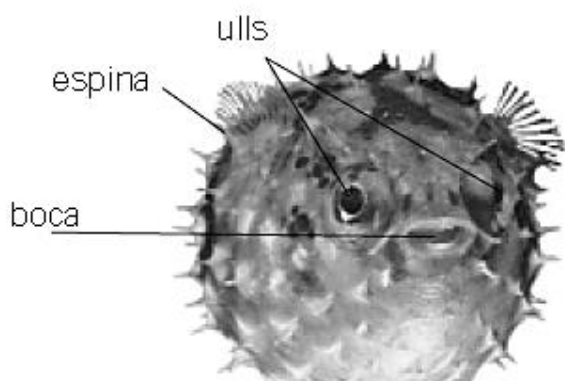
4 Escriu un resum del text utilitzant l'esquema anterior.



Estranys i meravellosos

Alguns peixos no tenen forma de peix! Fan servir les seves formes estranyes per camuflar-se o per espantar els peixos més grossos.

▼ El peix eriçó espanta els seus enemics engolint aigua i inflant-se com un globus!



▲ El drac de foc obre les seves llargues aletes com si fossin ventalls i té el cos ratllat. D'aquesta manera avisa els altres que té espines verinoses.

Les rajades

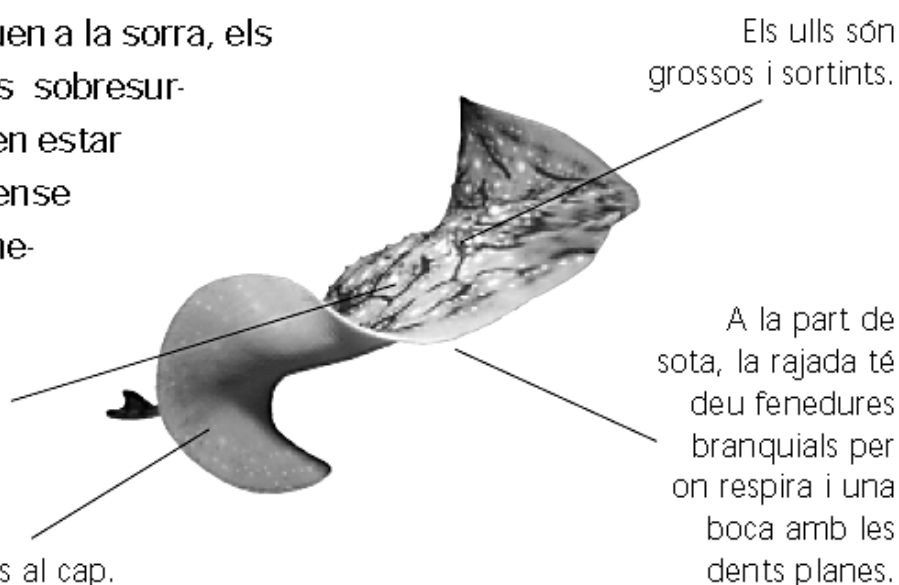
Les rajades són uns peixos molt corrents. Hi ha més de 400 tipus diferents de rajades, però la majoria són aplanades i tenen forma de rombe.

Les rajades són uns dels nedadors més elegants del mar. Quan fan batre les seves grans aletes, «volen» com si fossin grans ocells submarins. Fent aquest moviment, les rajades aixequen grans núvols de sorra que posen al descobert els crancs, un dels seus menjars favorits.

Quan les rajades s'amaguen a la sorra, els seus ulls grossos i sortints sobresurten. D'aquesta manera poden estar a l'aguait de les preses sense que les molestin els seus enemics.

Els dibuixos com remolins que té a la pell, ajuden l'animal a amagar-se quan jeu a la sorra.

Les aletes pectorals estan unides al cap.



1 Marca, en cada cas, la resposta correcta:

- | | |
|---|---|
| a) Els peixos més petits fan: | b) Els peixos: |
| <input type="checkbox"/> 25 mil·límetres de llarg | <input type="checkbox"/> tenen tots el cap punxegut i el cos llis |
| <input type="checkbox"/> 9 o 10 mil·límetres de llarg | <input type="checkbox"/> tenen formes molt diferents |
| <input type="checkbox"/> 3 mil·límetres quan neixen | <input type="checkbox"/> tenen ales |
| c) El peix més gran és: | d) Les rajades es camuflen: |
| <input type="checkbox"/> el tauró | <input type="checkbox"/> assimilant-se a un tros d'alga |
| <input type="checkbox"/> la balena | <input type="checkbox"/> amagant-se a la sorra dels fons marins |
| <input type="checkbox"/> el tauró balena | <input type="checkbox"/> inflant-se com un globus |

2 Explica com s'han camuflat els animals de les fotografies:



1. _____
2. _____
3. _____

VOCABULARI



3 Explica què vol dir l'expressió **estar a l'aguait**.



Calcula:

$119 \quad | \quad 21$

$158 \quad | \quad 73$



$239 \quad | \quad 52$

$387 \quad | \quad 91$

$179 \quad | \quad 21$

$198 \quad | \quad 62$

$159 \quad | \quad 43$

$179 \quad | \quad 31$




$180 \quad | \quad 42$

$270 \quad | \quad 43$

$264 \quad | \quad 31$

$380 \quad | \quad 42$




$281 \quad | \quad 65$

$172 \quad | \quad 34$

$490 \quad | \quad 52$

$112 \quad | \quad 21$





PROBLEMES

1. Els organitzadors d'un concert han venut 479 entrades com aquesta. Després de pagar 735 € als músics, quants diners els han quedat?



|

|

2. L'Antoni ha comprat una nevera per 919€. N'ha pagat 91 euros d'entrada i la resta ho pagarà en 9 terminis mensuals. Quants euros paga cada mes?

|

|



3. Demà en Victor i la Sandra participaran en una maratón. Quants metres hauran de córrer en total?



|

|

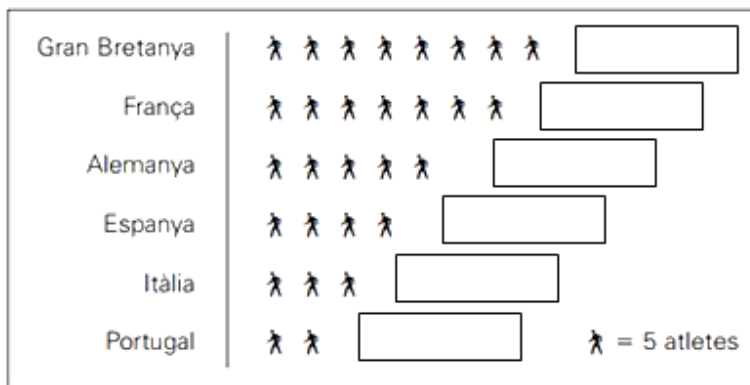
4. Un atleta ha corregut 4.000 m en l'entrenament d'aquest matí, i 5 km en el de la tarda. Quants metres ha corregut durant el dia? *Calcula-ho tot en metres.*

|

|

Els atletes

A uns campionats esportius hi assisteixen atletes de diversos països. El diagrama (Quadre) ens mostra la participació següent:



Escriu el número d'atletes totals darrera de cada fila.

Fixa-t'hi bé per que **cada dibuixet equival a 5 atletes**.

Entre tots:

Quants atletes són ?

Calcula i respon: **Qui té més atletes ?**

- Gran Bretanya o Espanya-Itàlia i Portugal junts ?

- Alemanya i Itàlia juntes o França i Portugal junts ?

Si cada Atleta corre **mil metres**.

- Quants metres **han corregut els atletes espanyols** ?

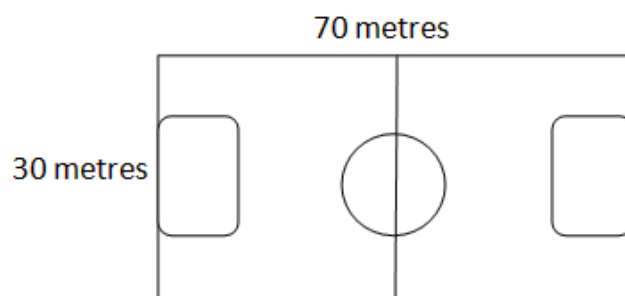
- I els **atletes francesos** ?

- I **entre tots**, quants metres haurien fet ?

Mirant al gràfic. Quin país creus que pot guanyar **més** curses ?


Si anessin tots als jocs olímpics: qui creus que **guanyaria menys medalles** ?

Si un atleta fes **10 voltes** a aquest camp de futbol: **quants metres hauria recorregut**:



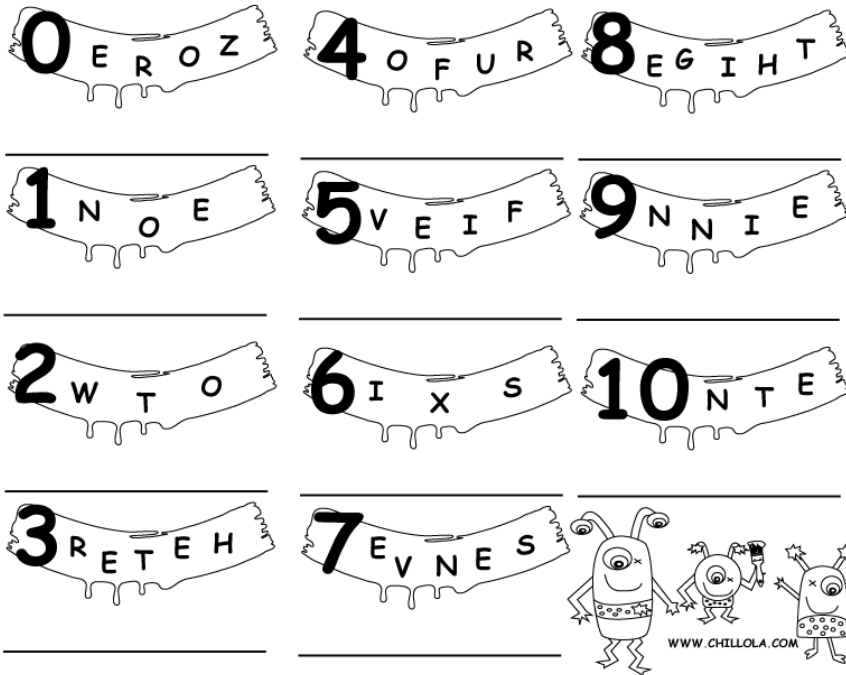
Calcula-ho

REDACCIÓ: UN DIA DE LES VACANCES D'ESTIU!!!




*Pensa en el que has fet durant **un** dia d'aquestes vacances d'estiu i escriu-ho.* El text l'hauràs de llegir davant de tot el grup. Recorda que les frases han de seguir un ordre i tenir sentit. Fes servir els **connectors i l'ortografia** (br, bl, nv, mb, -ava, vaig, hi havia, ja, jo, ju, ge, gi...).

Numbers



- 11 TWENTY
- 13 FOURTEEN
- 15 ELEVEN
- 12 EIGHTEEN
- 14 SIXTEEN
- 20 FIFTEEN
- 18 TWELVE
- 16 THIRTEEN
- 19 SEVENTEEN
- 17 NINETEEN



100 eighty 10 twenty
 forty 40 sixty 90
 30 ninety 70 seventy
 one hundred fifty 20
 60 thirty 50 ten 80

22	twenty-two
24	
33	
37	
45	
49	
50	
56	
61	
64	
72	
73	
86	
87	
92	
99	

Days of the week



NOYMDA YSTRDAAU HTDURSYA

YFIDRA NDUASY

EDWSNEYAD UDETSAY

MONDAY TUESDAY WEDNESDAY THURSDAY FRIDAY SATURDAY SUNDAY

Find the seven days:

Q D Y G E R G G W H
 S O T Y Y K T E N U
 A T H U R S D A Y P
 T W K J E N K A Y P
 U X Y P E S D A A K
 R O A S P N D L Y C
 D L D U U N V A Q Q
 A A I S O I W J Y O
 Y B R M Y P S F G J
 W F F R S H N G G P



what's the order?

1 2 3 4

5 6 7 8

9 10 11 12

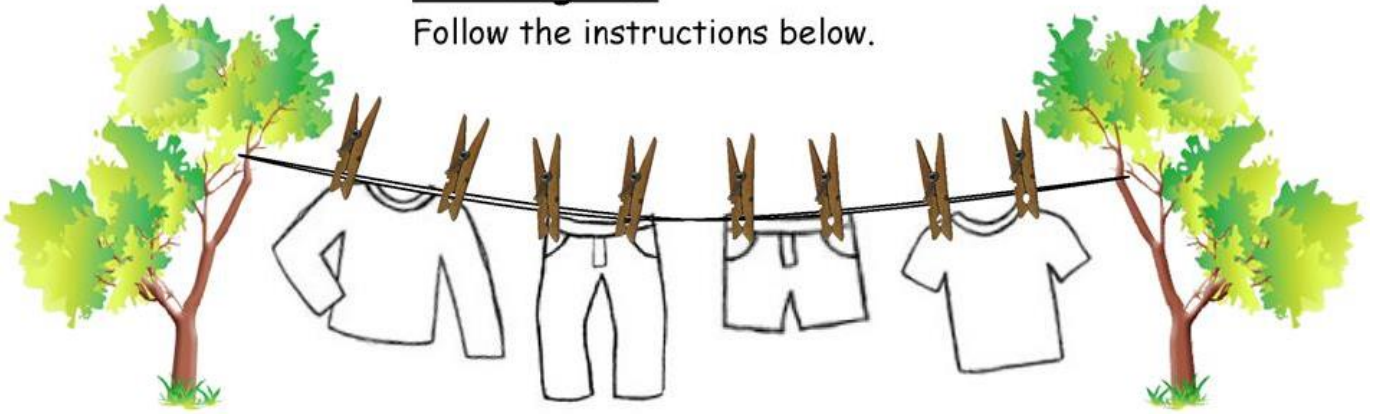
January	June	July	September
October	November	August	February
May	March	April	December

What time is it?

1:00	one o'clock	4:00		2:45	
2:15	quarter past two	7:45		5:15	
3:30	half past three	9:15		8:00	
4:45	quarter to five	2:30		6:45	
6:15		1:15		4:15	
7:30		5:45		1:45	

Clothing line

Follow the instructions below.



Colour the t-shirt blue.	Colour the socks green.
Colour the skirt pink.	Colour the trousers yellow.
Colour the jumper red.	Colour the shirt purple.
Colour the shoes orange.	Colour the hat black.
Colour the shorts white.	

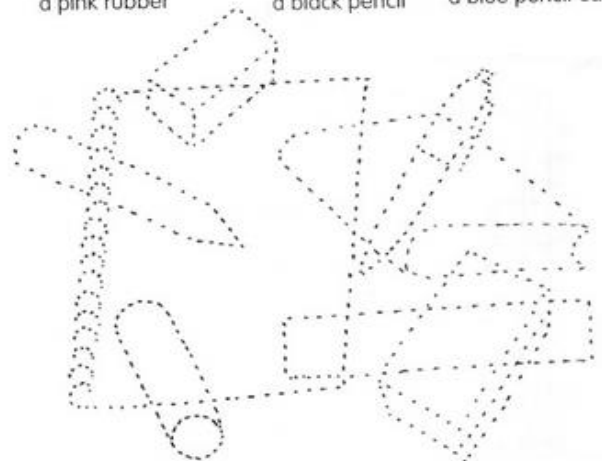
Find nine colours → ↓


g	w	z	n	y	o	n	r	o	m	b	p
a	b	g	r	e	y	h	g	r	e	e	n
x	l	r	k	l	t	j	m	a	q	w	v
p	u	r	p	l	e	y	u	n	k	g	f
j	e	v	e	o	c	p	x	g	r	e	d
k	f	d	b	w	h	i	t	e	i	s	n
g	b	o	s	d	g	n	k	r	q	x	z
m	v	b	l	a	c	k	h	v	e	n	j

a brown ruler
red glue
a pink rubber

a green pen
a yellow book
a black pencil

a purple notebook
a blue pencil case





1. Yellow 2. Red 3. Green 4. Orange 5. Purple 6. Brown