


DEURES D'ESTIU

primer



Nom: _____

Nom: _____ Data: _____



El gat de la Lola

La Lola té un gat. El gat es diu Puc i és de color marró amb la cua blanca.

Al coll, en Puc porta un llacet vermell amb un picarol petit. Tothom sap on s'amaga en Puc pel soroll del seu picarol.

Cada matí en Puc beu llet i menja pinso.

Un cop al mes, la Lola porta en Puc al veterinari.



Contesta les preguntes.

1. Què té la Lola?

2. Com es diu el seu gat?

3. Com és en Puc?

4. Què porta en Puc al coll?

5. Com sap la gent on és en Puc?

6. Què beu i menja en Puc cada matí?

7. On va en Puc un cop al mes?

Nom: _____

Data: _____



La festa.

Avui és l'aniversari de la Mariona.

La Mariona fa set anys i la seva mare li ha preparat una festa sorpresa a casa.

A la festa vénen les seves amigues Paula i Lola. La Mariona està contenta perquè li han fet molts regals.



Contesta les preguntes.

1. De qui és l'aniversari?


2. Quants anys fa la Mariona?

3. Qui li prepara una festa?

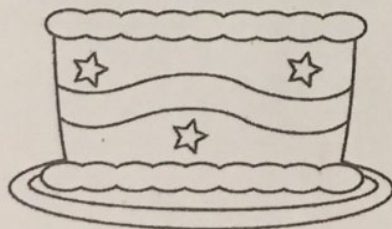
4. On fan la festa?

5. Qui ve a la festa?

6. Per què està contenta la Mariona?



Pinta el pastís de la Mariona i dibuixa les espelmes que necessitis.



Nom:

Data:

50 anys
1965-2015
Creació

Cicle Inicial Petits textos de comprensió lectora



Agost
2 3 4 5 6 7 8
9 10 11 12 13 14 15
16 17 18 19 20 21 22
23 24 25 26 27 28 29
30 31

Juliol

di.	dt.	dc.	di.	dv.	ds.	dg.
5	6	7	1	2	3	4
12	13	14	8	9	10	11
19	20	21	15	16	17	18
26	27	28	22	23	24	25
			29	30	31	

OBSERVA I RESPON

- 1) Quants dies té el mes de Juliol?
.....
- 2) Escriu els números de tots els dimecres d'aquest mes.
.....
- 3) Si el meu aniversari és el dia 1 de juliol, serà un dilluns?
.....
- 4) Quants diumenges té aquest mes de juliol?
.....

Nom:

Data:

Cicle Inicial

Petits textos de comprensió lectora

Llegeix, pensa i ordena

Col·loca els encenalls sobre la samarreta, omplint el dibuix que has fet.

Passa la planxa calenta per sobre del paper.

Treu el full de paper i...sorpresa! veuràs el dibuix estampat.

Agafa el llapis i fes un dibuix a la samarreta..

Separa per colors els encenalls (punta que surt del plastidecor).

Agafa plastidecors de diferents colors i fes punta.

Cobreix amb un full de paper el dibuix que has acabat d'omplir



50
es
eres

Nom: _____



Data: _____

Llegeix i respon.

Història d'una pilota

Quan la pilota va sortir de la fàbrica va anar a parar a una botiga d'esports. Allà s'avorria molt. Una pilota no està feta per estar-se quieta, sinó per a botar, rodolar i moure's molt.



Un dia va entrar a la botiga l'entrenadora d'un equip de futbol. Tot d'una la pilota es va trobar sobre la gespa verda entremig de les cames dels jugadors. Al principi s'ho va passar molt bé, però després es va anar fent gran i la van arraconar.

Sort que quan ja era vella li van regalar a un nen. El nen la cuidava i l'estimava molt.

La pilota va tornar a ser feliç.

1. On va anar la pilota quan va sortir de la fàbrica?

2. Per a què està feta una pilota?

3. Què li va passar quan es va fer gran?

4. Què feia el nen quan li van regalar la pilota?


5. Què faries tu si et regalen una pilota?

Nom: _____



Data: _____

Veig, veig...



Una cosa que comença per la lletra....

f _____

r _____

ll _____

g _____

b _____

c _____

s _____

t _____




INVENTA. Escriv 3 frases sobre el dibuix.

• _____

• _____

• _____

Nom: _____



Data: _____

Llegeix i respon.

L'hipopòtam

L'hipopòtam està tot el dia dins l'aigua perquè no li agrada passar calor. Neda i busseja molt bé.

Pot arribar a pesar quatre mil quilos.

Menja fulles i herba, per això és un animal herbívor. Té una boca molt gran amb unes dents molt poderoses. Cada dia pot arribar a empassar-se cent cinquanta quilos de menjar!

Les potes, que han d'aguantar molt de pes, són curtes, però molt fortes.

Es banya amb aigua i fang: el fang li protegeix la pell de les picades de les bestioles.



1. On està tot el dia l'hipopòtam?

2. Què fa molt bé?

3. Quant pot arribar a pesar?

4. Què menja cada dia?

5. Amb què es banya?

Nome: _____



Data: _____

Ordena la seqüència i després explica la història.



LLENGUA

Nom:

Pinta l'opció correcta:

1. M'agrada molt la camisa blanca/blanc.
2. Jo tinc un coixí blava/blau molt gran.
3. El meu cotxe és blanc/blanca.
4. La Paula porta un vestit groc/groga molt bonic.
5. Porta'm la llibreta vermell/vermella.
6. He menjat un plàtan groga/groc molt bó.
7. La mare ha comprat una falda blau/blava.
8. El Josep ha pintat un cercle vermell/vermella.

Dibuixa i escriu.

.....

LLENGUA

F. X. Ja
e5 eReS
Cresol

Nom:.....


Pinta i escriu:



..... camisa



..... pilota



..... cotxe



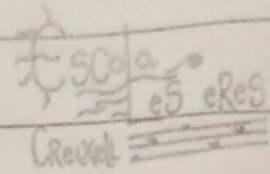
..... jersei



..... motxilla

Nom: _____

MATEMÀTIQUES

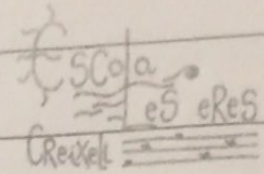


Escriu el nombre del davant i darrera

_____ , 35 , _____	_____ , 21 , _____
_____ , 48 , _____	_____ , 31 , _____
_____ , 28 , _____	_____ , 38 , _____
_____ , 30 , _____	_____ , 40 , _____
_____ , 49 , _____	_____ , 29 , _____
_____ , 50 , _____	_____ , 27 , _____
_____ , 34 , _____	_____ , 32 , _____
_____ , 23 , _____	_____ , 57 , _____
_____ , 54 , _____	_____ , 44 , _____
_____ , 42 , _____	_____ , 46 , _____
_____ , 41 , _____	_____ , 55 , _____
_____ , 33 , _____	_____ , 39 , _____
_____ , 56 , _____	_____ , 47 , _____
_____ , 43 , _____	_____ , 25 , _____
_____ , 36 , _____	_____ , 24 , _____

Nom: _____

MATEMÀTIQUES



Escriu el nombre del davant i darrera

_____ , 25 , _____	_____ , 26 , _____
_____ , 46 , _____	_____ , 34 , _____
_____ , 54 , _____	_____ , 32 , _____
_____ , 37 , _____	_____ , 27 , _____
_____ , 47 , _____	_____ , 29 , _____
_____ , 52 , _____	_____ , 53 , _____
_____ , 42 , _____	_____ , 33 , _____
_____ , 55 , _____	_____ , 41 , _____
_____ , 49 , _____	_____ , 48 , _____
_____ , 39 , _____	_____ , 44 , _____
_____ , 24 , _____	_____ , 57 , _____
_____ , 35 , _____	_____ , 50 , _____
_____ , 36 , _____	_____ , 20 , _____
_____ , 22 , _____	_____ , 23 , _____
_____ , 58 , _____	_____ , 40 , _____

Nom: _____

MATEMÀTIQUES

Dibuixa la quantitat

42 = _____

25 = _____

23 = _____

10 = _____


44 = _____

36 = _____

41 = _____

59 = _____

Nome: _____





Data: _____

Completa la tavola numerica

91									100
	82							89	
		73					78		
			64			67			
					56				
				45					
			34			37			
		23					28		
	12							19	
1									10



Nombre: _____



Fecha: _____

1 Suma:

$$\begin{array}{r} \text{DU} \\ 14 \\ + 2 \\ \hline \square \end{array}$$

$$\begin{array}{r} \text{DU} \\ 25 \\ + 3 \\ \hline \square \end{array}$$

$$\begin{array}{r} \text{DU} \\ 33 \\ + 16 \\ \hline \square \end{array}$$

$$\begin{array}{r} \text{DU} \\ 47 \\ + 31 \\ \hline \square \end{array}$$

$$\begin{array}{r} \text{DU} \\ 53 \\ + 12 \\ \hline \square \end{array}$$

$$\begin{array}{r} \text{DU} \\ 62 \\ + 15 \\ \hline \square \end{array}$$

2 Coloca y suma:

$$\begin{array}{r} 16 + 1 \\ \text{DU} \\ \square \\ + \square \\ \hline \square \end{array}$$

$$\begin{array}{r} 25 + 4 \\ \text{DU} \\ \square \\ + \square \\ \hline \square \end{array}$$

$$\begin{array}{r} 43 + 5 \\ \text{DU} \\ \square \\ + \square \\ \hline \square \end{array}$$

$$\begin{array}{r} 51 + 16 \\ \text{DU} \\ \square \\ + \square \\ \hline \square \end{array}$$

$$\begin{array}{r} 12 + 66 \\ \text{DU} \\ \square \\ + \square \\ \hline \square \end{array}$$

$$\begin{array}{r} 43 + 34 \\ \text{DU} \\ \square \\ + \square \\ \hline \square \end{array}$$

Nome: _____



Data: _____

1 Restar:

$$\begin{array}{r} \boxed{DU} \\ 37 \\ - 4 \\ \hline \square \end{array}$$

$$\begin{array}{r} \boxed{DU} \\ 24 \\ - 12 \\ \hline \square \end{array}$$

$$\begin{array}{r} \boxed{DU} \\ 46 \\ - 3 \\ \hline \square \end{array}$$

$$\begin{array}{r} \boxed{DU} \\ 58 \\ - 21 \\ \hline \square \end{array}$$

$$\begin{array}{r} \boxed{DU} \\ 63 \\ - 22 \\ \hline \square \end{array}$$

$$\begin{array}{r} \boxed{DU} \\ 75 \\ - 34 \\ \hline \square \end{array}$$

2 Coloca a resta:

$$\begin{array}{r} 68 - 42 \\ \boxed{DU} \\ \square \\ - \square \\ \hline \square \end{array}$$

$$\begin{array}{r} 43 - 21 \\ \boxed{DU} \\ \square \\ - \square \\ \hline \square \end{array}$$

$$\begin{array}{r} 64 - 33 \\ \boxed{DU} \\ \square \\ - \square \\ \hline \square \end{array}$$

$$\begin{array}{r} 78 - 6 \\ \boxed{DU} \\ \square \\ - \square \\ \hline \square \end{array}$$

$$\begin{array}{r} 89 - 40 \\ \boxed{DU} \\ \square \\ - \square \\ \hline \square \end{array}$$

$$\begin{array}{r} 97 - 52 \\ \boxed{DU} \\ \square \\ - \square \\ \hline \square \end{array}$$

Nom _____ Data _____

1 Observa la fila d'animals i completa:



Va el primer _____



Va el _____

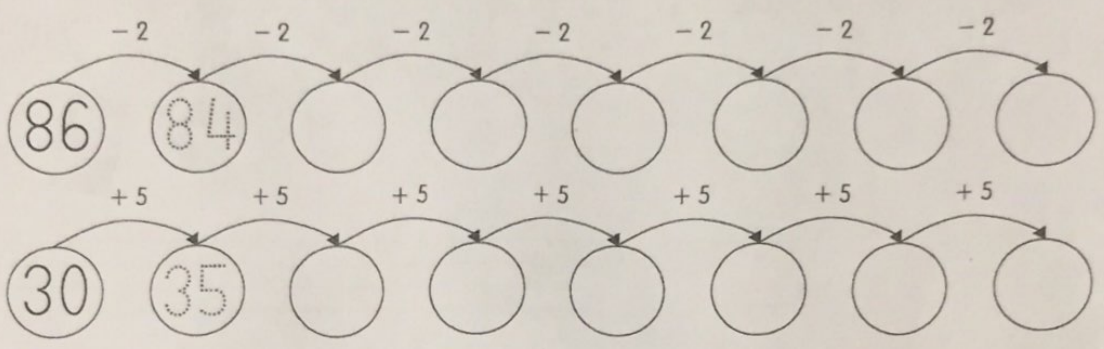


Va la _____



Va el _____

2 Completa les sèries.



3 Col·loca i suma:

$42 + 32 + 13$	$25 + 40 + 4$	$16 + 2 + 51$
$\begin{array}{r} \square \\ \square \\ + \square \\ \hline \square \end{array}$	$\begin{array}{r} \square \\ \square \\ + \square \\ \hline \square \end{array}$	$\begin{array}{r} \square \\ \square \\ + \square \\ \hline \square \end{array}$

4 Col·loca els nombres i calcula:

$47 - 23$	$32 + 46$	$53 + 15$	$68 - 33$
$\begin{array}{r} \square \\ - \square \\ \hline \square \end{array}$	$\begin{array}{r} \square \\ + \square \\ \hline \square \end{array}$	$\begin{array}{r} \square \\ + \square \\ \hline \square \end{array}$	$\begin{array}{r} \square \\ - \square \\ \hline \square \end{array}$

5 Llegeix el problema i resol:


L'Arnau té 15 llapis. La Neus té 4 llapis menys que l'Arnau. Quants llapis té la Neus?



$$\begin{array}{r} \square \\ \circ \square \\ \hline \square \end{array}$$

Té _____

L'Ernest ha comprat 46 sacs grans i 23 sacs petits. Quants sacs ha comprat en total?



$$\begin{array}{r} \square \\ \circ \square \\ \hline \square \end{array}$$

Ha comprat _____

Nom _____ Data _____

1 *Escriu el mes anterior i el mes següent.*

2 *Completa les sèries.*

Suma'n 5

50	55			70						
----	----	--	--	----	--	--	--	--	--	--

Resta'n 2

98	96			90

3 *Col·loca els nombres i suma:*

$52 + 16$	$45 + 4$	$52 + 7$	$61 + 6$
$\begin{array}{r} \square \\ + \square \\ \hline \square \end{array}$	$\begin{array}{r} \square \\ + \square \\ \hline \square \end{array}$	$\begin{array}{r} \square \\ + \square \\ \hline \square \end{array}$	$\begin{array}{r} \square \\ + \square \\ \hline \square \end{array}$


4 Col·loca els nombres i resta:

56 - 32	47 - 14	39 - 27	58 - 46
□	□	□	□
- □	- □	- □	- □
□	□	□	□

5 Llegeix i resol:

En un jardí hi ha 25 geranis i 32 petúnies. Quantes plantes hi ha en total?


	□
○	□
	□



Hi ha _____

En una pastisseria hi ha 48 brioixos i 16 pastissos menys que brioixos. Quants pastissos hi ha?

	□
○	□
	□

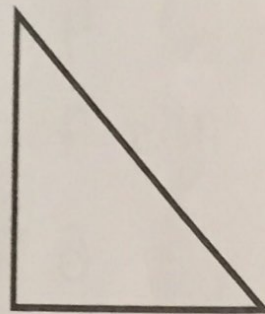


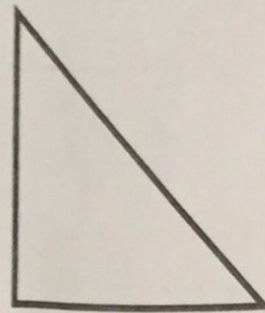
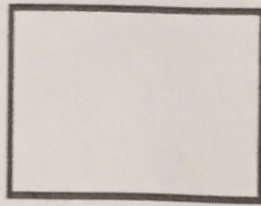


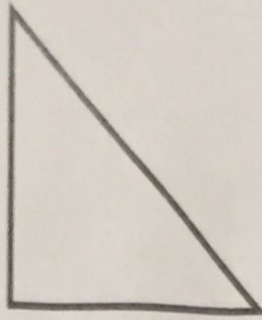



Hi ha _____

Nom: _____


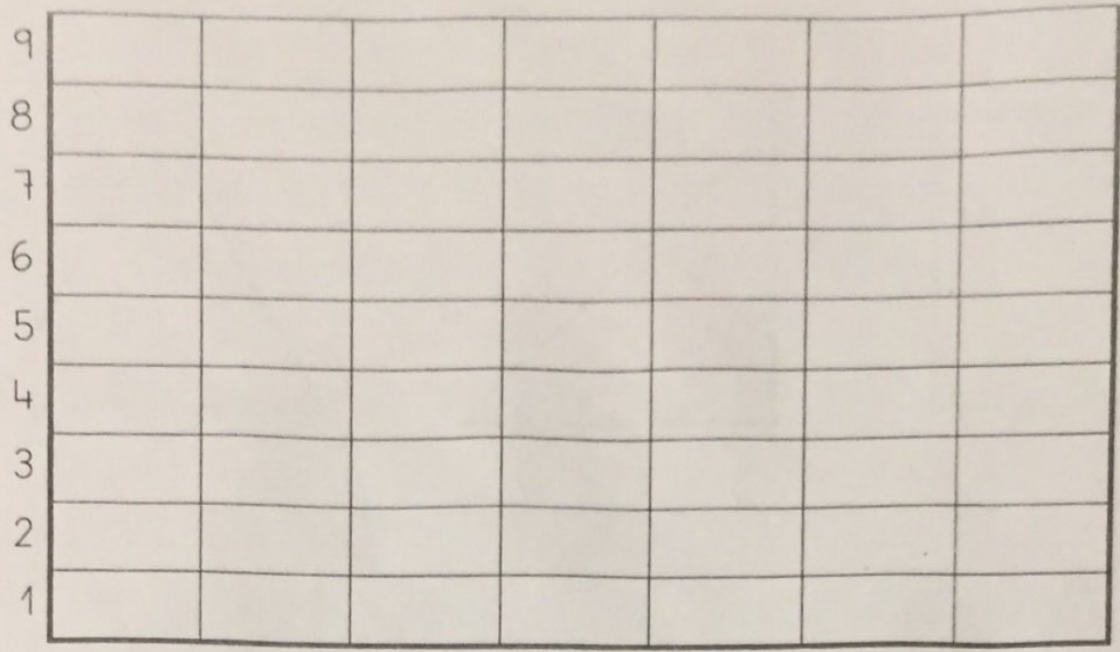
MATEMÀTIQUES

Pinta de blau els triangles, de verd els quadrats i de vermell els rectangles



GRÀFICA

Nom:



4




5



7



2



6



3



8