




ENTREGA: fins el 8 de juny

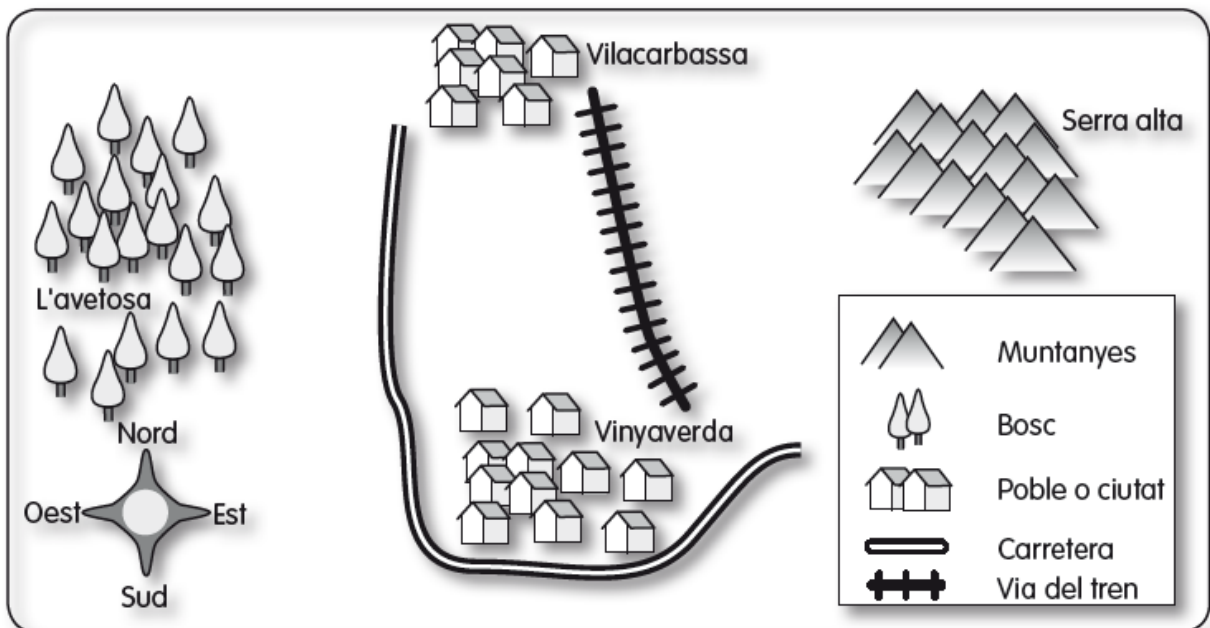


PAISATGES

1.- **Escriu cada nom al seu lloc** Penya-segat Illa Platja Afluent Vall Muntanya



2.- **Observa i respon**



- En quin punt cardinal es troba Vilacarbassa? _____
- Com es pot anar d'un poble a un altre? _____
- On es troba L'ayetosa? _____

3.- Completa

penya-segats	punts cardinals	muntanyes	costa	valls
sud	oest	serralades	platges	est

Recordo les idees principals

- Les _____ són elevacions del terreny. Si les muntanyes estan agrupades formen _____.
- Les _____ són terrenys plans situats entre les muntanyes.
- Els paisatges de _____ estan banyats pel mar.
- Els terrenys alts i rocosos de les costes són els _____ i els plans coberts de sorra o de pedres són les _____.
- En els mapes trobem els _____ que són nord, _____, _____ i _____.

TENIM CURA DEL MEDI

1.- Observa i respon



- Explica com la vaca depèn del medi. La vaca necessita _____ per respirar, _____ per alimentar-se i _____ per beure.
- Per què el pagès necessita la vaca? _____


2.- Observa els dibuixos i explica el que hi passa



A. Al bosc viuen molts micos.

B. _____

C. _____



D. Molts peixos viuen al riu.

E. _____

F. _____

3.- Escriu alguna cosa per evitar...

- La contaminació de l'aigua:

- La contaminació de l'aire:

- La desaparició d'alguns animals i plantes:



Si vols treballar una mica més

<https://clic.xtec.cat/projects/medici/localit2/jclic.js/index.html>