




ENTREGA: fins l'1 de juny




SUMES

1.- Quantes peces tenen aquests trencaclosques?
Observa'ls i calcula-ho



$$\begin{array}{r} \\ 238 \\ + 143 \\ \hline \end{array}$$




Tenen peces.



$$\begin{array}{r} \\ 182 \\ + 143 \\ \hline \end{array}$$


Tenen peces.

2.- Quants maons tenen aquestes cases?
Observa-les i calcula-ho



$$\begin{array}{r} 190 \\ + 85 \\ \hline \end{array}$$

Tenen maons.



$$\begin{array}{r} 209 \\ + 85 \\ \hline \end{array}$$

Tenen maons.

COMPARACIÓ DE NOMBRES DE 3 XIFRES

1.- Compara els nombres i escriu els signes

$<$, $>$ o $=$

465 ○ 380

362 ○ 342

194 ○ 197

234 ○ 168

322 ○ 325

157 ○ 157

285 ○ 385

494 ○ 498

65 ○ 111

487 ○ 388

125 ○ 125


295 ○ 259



2.- Busca i encercla aquests nombres a cada grup de vagons:

— El nombre més gran.

- - - El nombre més petit.



3.- Observa el dibuix i escriu cada preu

- L'objecte més barat ►
- L'objecte més car ►
- L'objecte que val més de 129 € i menys de 194 € ►



LA MULTIPLICACIÓ I LA SUMA

1.- Relaciona cada suma amb la multiplicació corresponent

$3 + 3 + 3 + 3 + 3$

$8 + 8$

$9 + 9 + 9$

$2 + 2 + 2 + 2 + 2 + 2$


2×6

9×3

8×2

3×5

2 Quants llaços hi ha? Completa les operacions.



$\square + \square + \square + \square = \square$

$\square \times \square = \square$

Hi ha _____

3 Quantes papallones hi ha? Completa les operacions.



$\square + \square + \square + \square + \square = \square$

$\square \times \square = \square$

Hi ha _____

4 Quantes marietes hi ha? Completa les operacions.




$\square + \square + \square = \square$

$\square \times \square = \square$

Hi ha _____

5 Quantes tasses hi ha a l'armari? Completa les operacions.



$\square + \square + \square + \square = \square$

$\square \times \square = \square$

Hi ha _____

PROBLEMES

1.- Escriu amb un nombre la dada de cada notícia

	
S'han fitxat cinc-cents quaranta-cinc nous jugadors.	S'han recollit cinc-cents tres gossos abandonats.
====	====

◻ ◀ ◻ ▶

2.- Resol aquests problemes

En una cursa de sacs hi ha 470 participants, dels quals 235 són nenes, i la resta, nens. Quants nens hi han participat?

	◻
○	◻
<hr/>	
	◻



Hi han participat

Durant la cursa han eliminat 190 participants. Quants participants han arribat a la meta?

	◻
○	◻
<hr/>	
	◻



Hi han arribat



Si vols treballar una mica més

<https://vedoque.com/juegos/juego.php?j=dados>