


Matemàtiques



Els nombres del 20 al 29


1. Quants n'hi ha? Compta i completa.



desenes unitats

$$\square + \square = \square$$


D	U



desenes unitats

$$\square + \square = \square$$

D	U



desenes unitats

$$\square + \square = \square$$

D	U



desenes unitats

$$\square + \square = \square$$

D	U




desenes unitats

$$\square + \square = \square$$

D	U

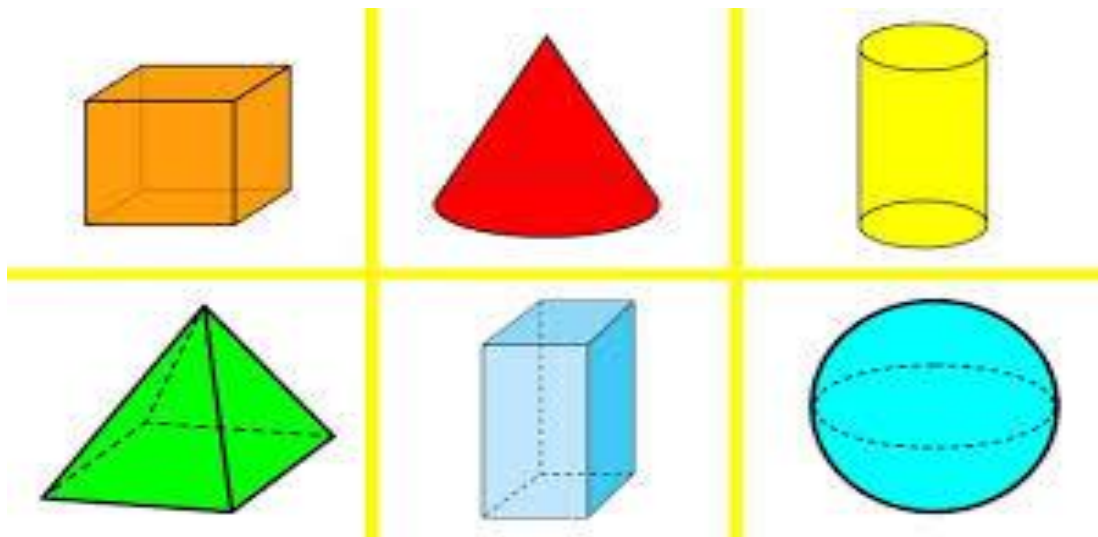
Els cossos geomètrics



Aquesta setmana us proposo que remeneu per casa tot buscant **cossos geomètrics** i en feu una exposició amb ells.

Podem exposar-los a sobre o dins de capses, taules, mantes o cartons diferents i fer cartells ben bonics amb el nom del cos geomètric que correspon.

Recorda'ls:



CUB	CON	CILINDRE
PIRÀMIDE	PRISMA	ESFERA

Per triar i classificar aquests objectes, fixa't en aquestes coses:

- Rodola o no?
- Té costats o no?
- Quants costats té?
- Té cares planes? Quantes?
- Quina forma tenen les seves cares planes?

Quan tinguis feta la teva exposició i els altres exercicis pots fer una foto i enviar-ho al correu: primer.floresta@gmail.com fins el **dilluns 11 de maig**. Recorda d'acompanyar la teva exposició de rètols ben bonics!!

