




MATEMÀTIQUES


Desenes i unitats

1 Fes grups de 10. Després, completa les operacions:




___ desenes + ___ unitats

___ + ___ = ___




___ desenes + ___ unitats

___ + ___ = ___



___ desenes + ___ unitats

___ + ___ = ___



___ desenes + ___ unitats

___ + ___ = ___

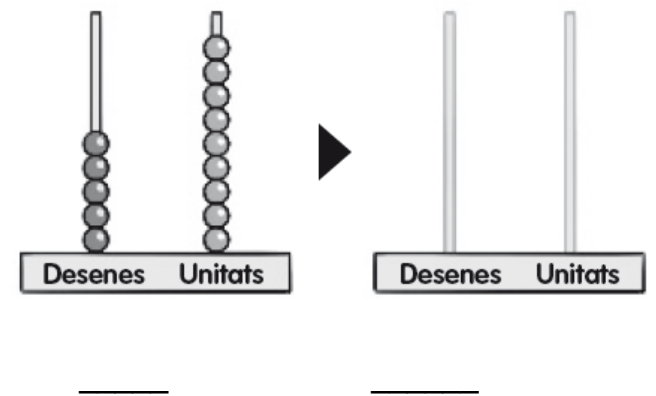
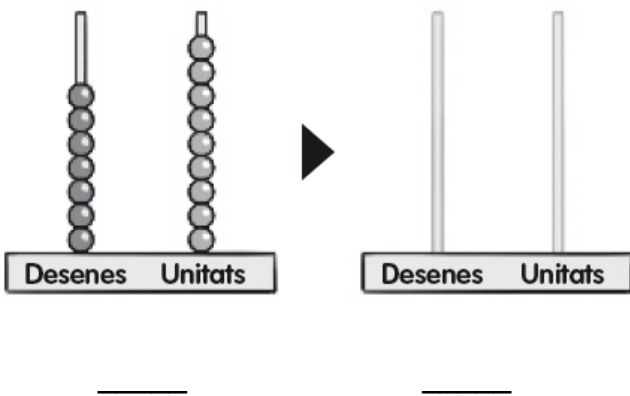
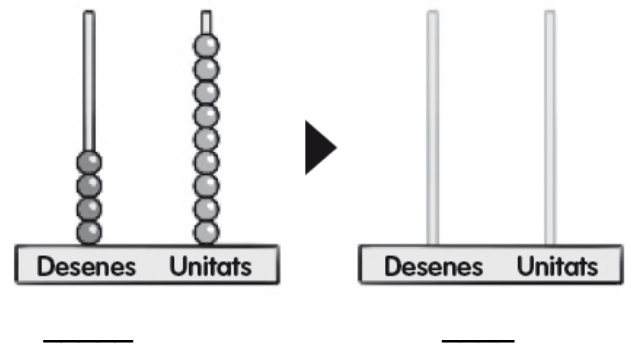
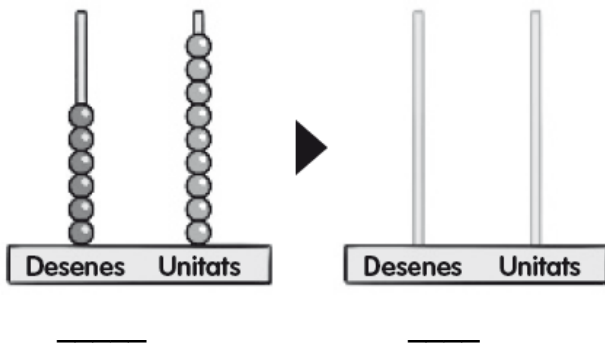
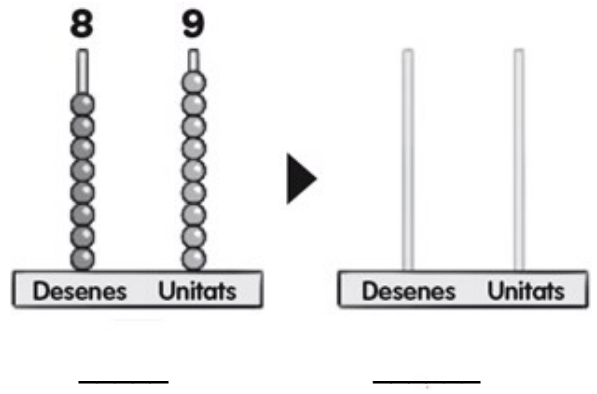
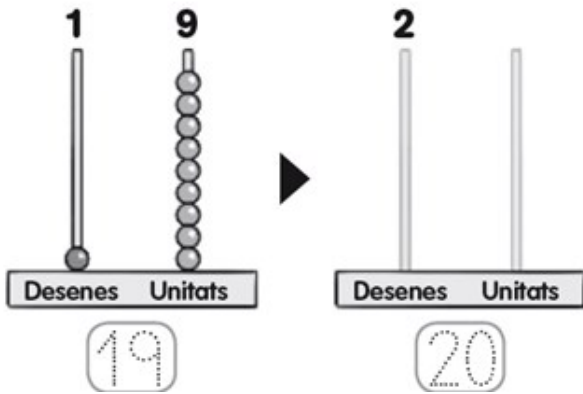


___ desenes + ___ unitats

___ + ___ = ___

Els nombres fins al 99

1 Afegeix 1 unitat a cada àbac i representa el nombre que en resulta:



2 Escriu el nombre anterior i el nombre posterior als següents:

29 ◀ 30 ▶ _

_ ◀ 49 ▶ _

_ ◀ 59 ▶ _

_ ◀ 90 ▶ _

_ ◀ 20 ▶ _

_ ◀ 79 ▶ _

Sumes sense portar-ne fins al 99

1 Llegeix els problemes i fes les operacions:

En Pau ha comprat 36 cromos. El seu oncle li ha regalat 53 cromos més. Quants en té en total?

La Júlia va acollir 42 bolets. Avui ha collit 25 bolets més. Quants bolets ha collit en total?

L'Andreu tenia 85 avions. El seu pare n'hi ha donat 13 avions. Quants avions té en total?

L'Aina ha comprat 64 avellanes. Ha trobat 34 avellanes més. Quantes avellanes té en total?