

**Proves d'accés a cicles formatius de grau mitjà de formació professional inicial,
d'ensenyaments d'arts plàstiques i disseny, i d'ensenyaments esportius 2018**

Competència social i ciutadana

Sèrie 1

Dades de la persona aspirant

Cognoms i nom

DNI

Qualificació



1. Observeu el planisferi físic i relacioneu els números que hi apareixen amb els noms dels pics proposats al costat. Escriviu el número corresponent dins les caselles.

[1 punt: 0,25 punts per cada relació]



- Everest
- Elbrús
- mont Denali (McKinley)
- Kilimanjaro

2. Observeu el mapa polític d'Europa i relacioneu els números que hi apareixen amb els noms dels països proposats al costat. Escriviu el número corresponent dins les caselles.


[1 punt: 0,25 punts per cada relació]



- Romania
- Finlàndia
- Països Baixos
- Islàndia

3. Observeu el mapa físic d'Espanya i relacioneu els números que hi apareixen amb els noms dels rius proposats al costat. Escriviu el número corresponent dins les caselles.

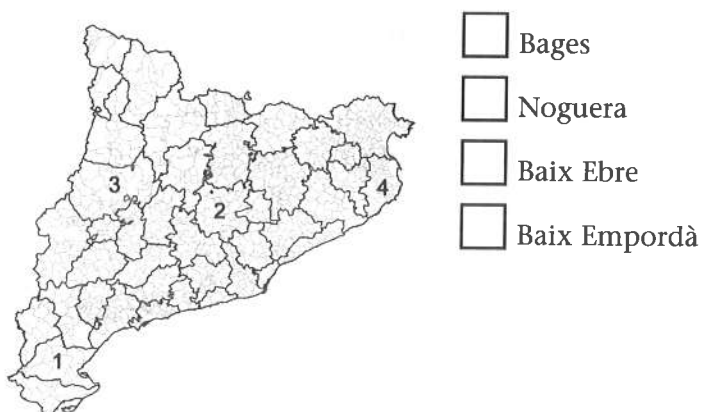
[1 punt: 0,25 punts per cada relació]



- el Miño
- l'Ebre
- el Xúquer
- el Guadalquivir

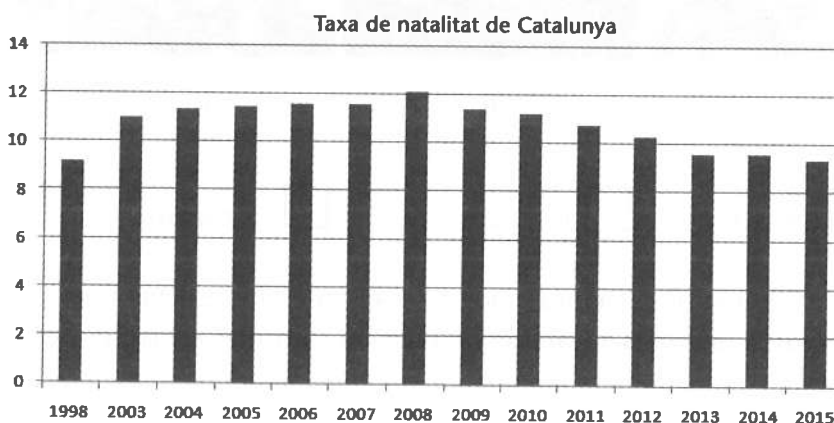
4. Observeu el mapa comarcal de Catalunya i relacioneu els números que hi apareixen amb els noms de comarques proposats al costat. Escriviu el número corresponent dins les caselles.

[1 punt: 0,25 punts per cada relació]



5. Estudieu la informació del gràfic de barres següent, referent a la taxa de natalitat de Catalunya, i indiqueu si les frases de sota són vertaderes (V) o falses (F). Escriviu la lletra V o F dins les caselles.

[1 punt: 0,25 punts per cada cas]



- La taxa de natalitat s'utilitza en demografia per a indicar el nombre de nascuts vius durant un any per cada deu mil habitants.
- En els darrers anys sembla que la natalitat a Catalunya està disminuint.
- El 1998 va ser l'any amb més naixements del període que mostra el gràfic.
- L'any 2008 van néixer a Catalunya 12 nadons per cada miler d'habitants.

6. Relacioneu el personatge amb els diferents esdeveniments històrics. Escriviu la lletra corresponent (A, B, C o D) dins les caselles.

[1 punt: 0,25 punts per cada relació]

A) Mahatma Gandhi B) Lenin C) Benito Mussolini D) Nelson Mandela

- Revolució Russa Apartheid a Sud-àfrica
- Independència de l'Índia Segona Guerra Mundial

7. Completeu les frases següents encerclant les expressions apropiades.

[1 punt: 0,25 punts per cada apartat]

- El cap de l'Estat espanyol és el rei / el president / el primer ministre / el delegat del Govern.
- A Catalunya s'escullen els diputats al Parlament per sufragi censatari / universal / nacional.
- A les eleccions generals, els ciutadans de l'Estat espanyol elegeixen els seus representants a l'ajuntament / als tribunals de justícia / al Congrés dels Diputats / a la policia.
- Els tres grans poders d'un estat democràtic són el judicial, l'executiu i el militar / el comunicatiu / el legislatiu / l'autonòmic.

8. Relacioneu les imatges amb el nom del personatge històric adient. Escriviu la lletra corresponent (A, B, C o D) dins les caselles que hi ha al costat de cada nom.

[1 punt: 0,25 punts per cada relació]



A

B

C

D

M. Luther King

J. F. Kennedy

F. Castro

J. Stalin

9. Ordeneu de més antic (1) a més modern (4) els diferents esdeveniments històrics de l'edat contemporània referents a Catalunya. Escriviu el número corresponent (1, 2, 3 o 4) dins les caselles.

[1 punt: 0,25 punts per cada cas]

Mancomunitat de Catalunya

Esclat de la Guerra Civil

Proclamació de la Segona República

Dictadura de Franco

10. Relacioneu els noms dels països colonials —metròpolis— següents amb el de les seves colònies. Escriviu la lletra corresponent (A, B, C o D) dins les caselles. Es poden repetir les lletres.

[1 punt: 0,25 punts per cada relació]

A) Anglaterra B) França C) Estats Units D) Espanya

Algèria

Colòmbia

Cambodja

Austràlia



Institut
d'Estudis
Catalans