





Activitat 1: Juguem a cartes!

La Júlia i en Marc són companys de classe. Avui a la tarda juguen a cartes amb nombres i després van a la biblioteca.

Tots dos juguen a fer parelles de cartes i formen aquests nombres de dues xifres:



1.1 A quina d'aquestes sèries els nombres s'han ordenat del més petit al més gran?

23, 36, 71, 82

23, 36, 82, 71

36, 23, 71, 82

82, 71, 36, 23

1.2 En Marc escull 4 cartes i escriu el nombre de 4 xifres que es pot expressar així: $3.000 + 600 + 70 + 1$. Quin és aquest nombre?

3.167


3.617

3.671

3.716

Activitat 1: Juguem a cartes!

1.3 La Júlia té 4 cartes:



La Júlia escull 3 d'aquestes cartes per formar el nombre de 3 xifres més petit possible. Quin és aquest nombre?


Escriu-lo aquí:

1.4 En Marc ha escrit aquestes quatre frases. Marca amb una X si les frases següents són verdaderes o falses:

	Verdadera	Falsa
La meitat de 4 és 2.		
El doble de 12 és 6.		
El triple de 4 és 12.		
La meitat de 3 és 6.		

Activitat 1: Juguem a cartes!

- 1.5** En Marc i la Júlia volen saber quantes cartes tenen entre tots dos. Observa el que diuen:



És cert que entre tots dos tenen 9 cartes?

Sí

No

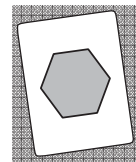



Explica com ho has resolt.

.....

.....

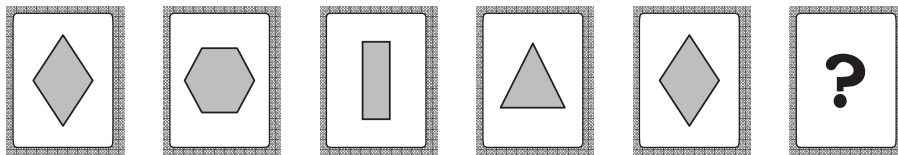
.....

- 1.6** La Júlia gira les cartes i observa que cadascuna té una figura geomètrica. Quina carta té dibuixat un rectangle?

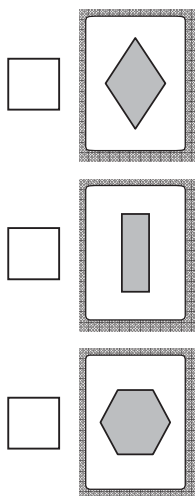


Activitat 1: Juguem a cartes!





1.7 Amb les cartes, en Marc fa la sèrie següent:



Quina carta continuarà la sèrie?

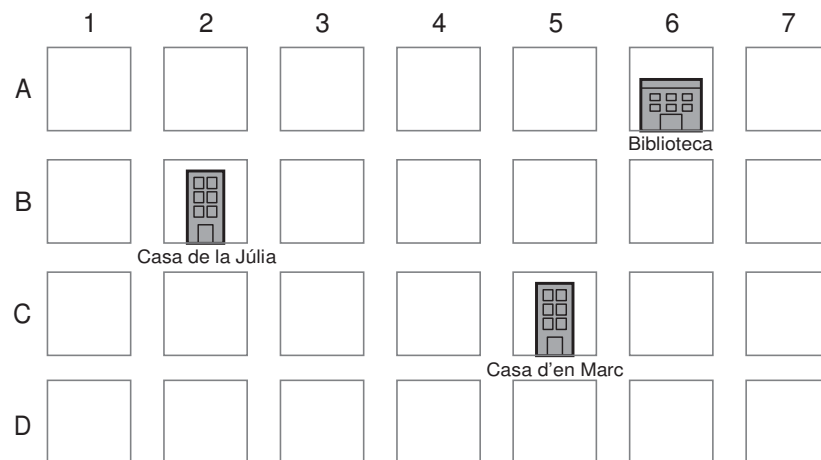


1.8 La Júlia fa servir la taula següent per descriure figures. Marca amb una X si les expressions són verdaderes o falses.

	Verdadera	Falsa
 Aquesta figura té quatre costats.		
 Aquesta figura té dos vèrtexs.		
 Aquesta figura té tots els seus angles rectes.		
 Aquesta figura té tots els seus costats iguals.		

Activitat 2: Anem a la biblioteca!

Al plànol s'ha marcat on es troben la biblioteca, la casa de la Júlia i la casa d'en Marc. La biblioteca és a la casella A6.



2.1 Quina casa està més a prop de la biblioteca, la casa d'en Marc o la de la Júlia?

- La d'en Marc.
- La de la Júlia.

Com ho saps? Fixa't en el plànol i després explica la teva resposta.

.....

.....

.....

2.2 A la biblioteca hi ha aquest cartell. Quin és l'horari de la biblioteca?

- De les 4 a les 6 de la tarda
- De les 5 a les 7 de la tarda
- De les 6 a les 8 de la tarda
- De les 7 a les 9 de la tarda

