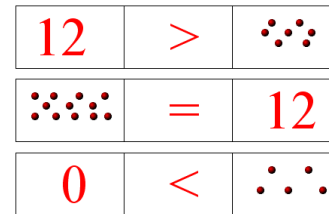
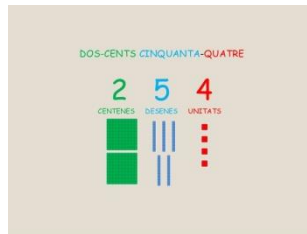



# ESCOLA TIBIDABO

C/ Joaquim Valls, 10.  
Tel. 933.594.745

[www.escolatibidabo.cat](http://www.escolatibidabo.cat)



<p>1-Busca un nombre que:</p> <ul style="list-style-type: none"> <li>• tingui una desena</li> <li>• sigui <math>&gt; 10</math> i més <math>&lt;</math> que 15</li> <li>• la suma de les seves xifres és 2</li> </ul>	<p>2-Busca un nombre que:</p> <ul style="list-style-type: none"> <li>• <math>&lt;</math> que 50</li> <li>• <math>&gt;</math> que 40</li> <li>• té 5 unitats</li> </ul>
<p>3-Busca un nombre que:</p> <ul style="list-style-type: none"> <li>• que la suma de les seves xifres sigui 8</li> <li>• sigui un nombre més gran que 79</li> <li>• sigui un nombre més petit que 81</li> </ul>	<p>4-Busca un nombre que:</p> <ul style="list-style-type: none"> <li>• que tingui la mateixa quantitat de desenes que d'unitats</li> <li>• que tingui la desena més gran possible</li> <li>• sigui <math>&lt;</math> que 100</li> </ul>
<p>5-Busca un nombre que:</p> <ul style="list-style-type: none"> <li>• el seu resultat sigui la suma de <math>2+2+2</math></li> <li>• o el seu resultat sigui la multiplicació de <math>2 \times 3</math></li> </ul>	<p>6-Busca un nombre que:</p> <ul style="list-style-type: none"> <li>• el seu nombre aproximat sigui 30</li> <li>• la suma de les seves xifres sigui 10</li> </ul>
<p>7-Busca un nombre que:</p> <ul style="list-style-type: none"> <li>• sigui el doble de <math>4+1</math></li> <li>• no té cap unitat</li> </ul>	<p>8-Busca un nombre que:</p> <ul style="list-style-type: none"> <li>• el seu resultat sigui <math>(3+4)-(6-4)</math></li> <li>• és <math>&lt;</math> que 10</li> </ul>

# ESCOLA TIBIDABO

C/ Joaquim Valls, 10.  
Tel. 933.594.745

[www.escolatibidabo.cat](http://www.escolatibidabo.cat)

<p>9-Busca un nombre que:</p> <ul style="list-style-type: none"><li>• <math>&lt; 60 &gt;</math> que 30</li><li>• les seves xifres sumen 8 • té cinc desenes</li></ul>	<p>10-Busca un nombre que:</p> <ul style="list-style-type: none"><li>• les seves desenes sigui superior a les seves unitats</li><li>• sigui <math>&gt;</math> que 50 i <math>&lt;</math> que 60</li><li>• la resta de les seves xifres és 2</li></ul>
<p>11-Busca un nombre que:</p> <ul style="list-style-type: none"><li>• que no tingui cap unitat</li><li>• que sigui el doble d'una desena</li></ul>	<p>12-Busca un nombre que:</p> <ul style="list-style-type: none"><li>• La suma de les seves xifres és el doble que el de les seves desenes</li><li>• És un nombre <math>&gt;</math> que 20</li><li>• El seu nombre aproximat és 30</li></ul>
<p>13-Busca un nombre que:</p> <ul style="list-style-type: none"><li>• <math>&gt;</math> de 5</li><li>• <math>&lt;</math> que 12</li><li>• no té cap desena</li><li>• <math>3+ = 10</math></li></ul>	<p>14-Busca un nombre que:</p> <ul style="list-style-type: none"><li>• <math>&lt;</math> que 100</li><li>• que la suma de les seves xifres sigui 11</li><li>• que tingui més de 7 desenes i menys que 9</li><li>• les seves unitats siguin inferior a les seves desenes</li></ul>
<p>15-Busca un nombre que:</p> <ul style="list-style-type: none"><li>• no tingui cap unitat</li><li>• que no tingui cap desena</li><li>• que no tingui cap centena</li><li>• que sigui <math>&lt;</math> que 7</li></ul>	<p>16-Busca un nombre que:</p> <ul style="list-style-type: none"><li>• <math>&gt;</math> que 90</li><li>• que la suma de les seves unitats, desenes i centenes sigui igual que 1</li></ul>

# ESCOLA TIBIDABO

C/ Joaquim Valls, 10.  
Tel. 933.594.745

[www.escolatibidabo.cat](http://www.escolatibidabo.cat)