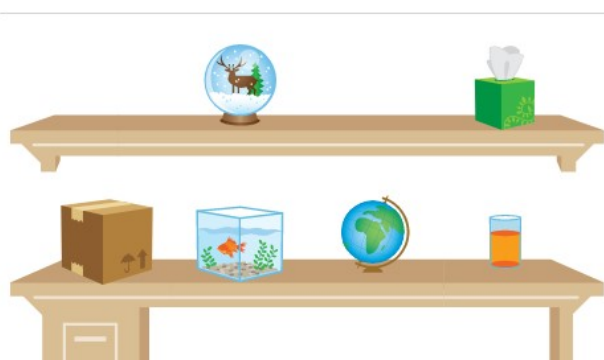
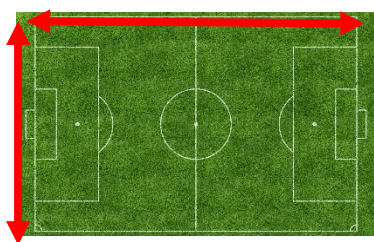


## ACTIVITATS DE REPÀS DE MATEMÀTIQUES


1. El gessamí de la Terrassa d'en Felip fa uns quants mesos feia **73 centímetres** i, ara, fa el **doble**. **Quants centímetres d'alçada té ara el gessamí?**
2. El nostre planeta està format per **tres quartes parts d'aigua**. La resta és terra. **Què vol dir això, que hi ha més aigua que terra o que hi ha més terra que aigua?**
3. **Selecciona tots els objectes que tinguin forma de cub.**



4. Un camp de futbol fa **100 metres de llargada** i **64 metres d'amplada**. **Quin perímetre té?**



5. En un gratacel cada planta fa **3 metres d'altura**. Si l'edifici té **25 plantes**, **quina és l'altura total de l'edifici?** Expressa-la en metres.



6. En una representació de teatre es van col·locar **7 files** de **9 cadires** al costat esquerre i **7 files de 8 cadires** al costat dret d'una sala. **Quantes cadires s'hi van col·locar en total?**
7. En un concert benèfic van vendre **34.897 entrades** de **dilluns a divendres** i **10.543, dissabte**. Si van posar **50.000 entrades** a la venda, **quantes se'n poden comprar encara?**
8. A la biblioteca del barri de l'Esteve cada soci té un carnet. En total són **8.400 socis**. Tenint en compte que hi ha el **doble de carnets d'adults que d'infants**, **quants carnets hi ha de cada?**



9. Al menjador de l'escola hi ha **29 taules** i a cada taula caben **4 persones**. Si hi mengen **92 alumnes**, **quantes taules ocuparan?** En sobrarà alguna?



10. En Guillem ha obert un bric de llet d'**1 litre** i se n'ha begut  **$\frac{1}{4}$  de litre**. **Quanta llet queda al bric?**

