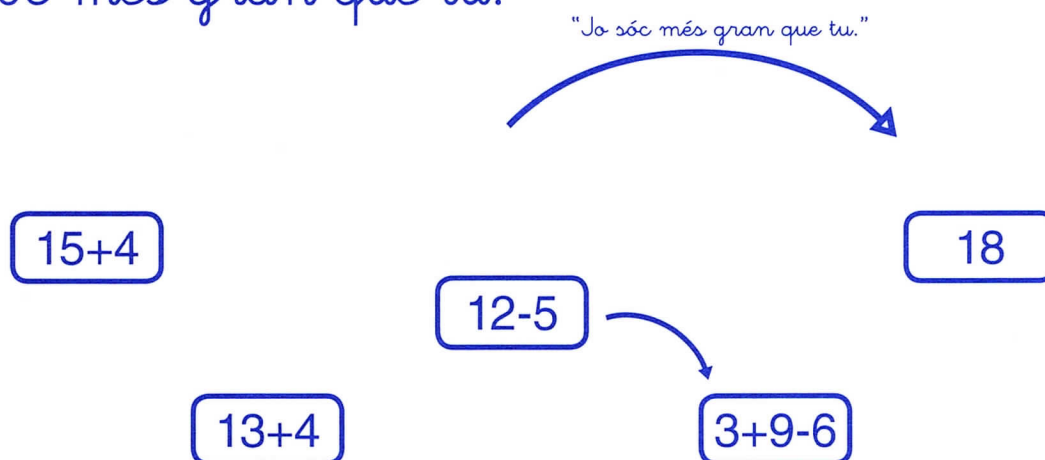


1 A cada fila, encercla el número o el resultat més petit.

15	18	19	13	16
$10+4$	$3+10$	$11+4$	$12+0$	
$7+8$	17	$11+3$	10	$6+6$

2 Compara els resultats de les operacions.

Dibuixa amb un color totes les fletxes que diguin: "Jo sóc més gran que tu."



► Les relacions entre números també poden expressar-se amb un d'aquests tres signes:

\equiv IGUAL QUE

$>$ MÉS GRAN QUE

$<$ MÉS PETIT QUE

3 Escriu el signe segons convingui.

$10+5$ ○ 12

$19-4$ ○ 12

$12+6$ ○ 15

$12-2$ ○ 10

$8+5$ ○ 13


$10+7$ ○ 19

$16+6$ ○ 15


$18-5$ ○ 16

$12+2$ ○ 14

► Tenim aquestes joguines.



1 Cada nen o nena escull dues joguines que juntes valen 30 euros.



2 Pinta el sac que costa menys diners.

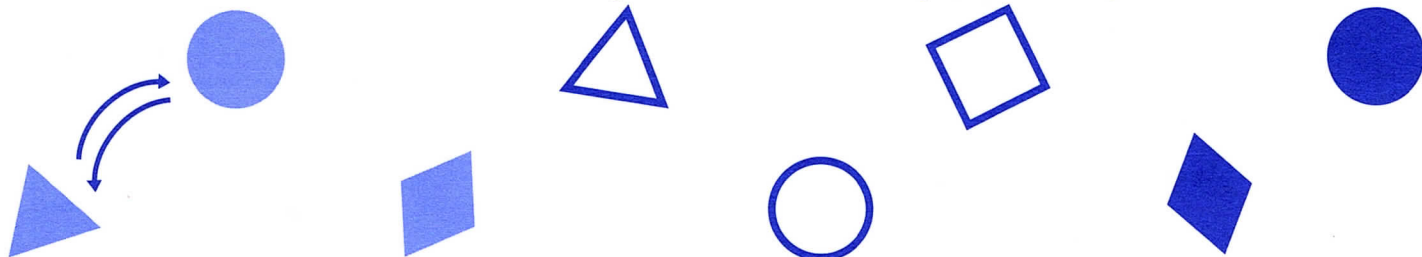


▶ Les fletxes diuen: "Jo sóc del mateix color que tu."

"Jo sóc del mateix color que tu"



① Amb el mateix color, fes totes les fletxes possibles.



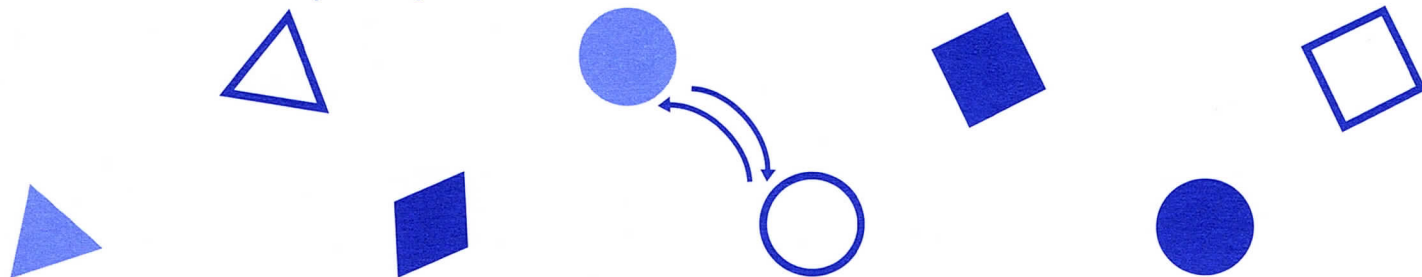
▶ Ara el missatge serà: "Jo tinc la mateixa forma que tu."

"Jo tinc la mateixa forma que tu"



② Fes totes les fletxes possibles.

Hi ha sempre fletxes d'anada i tornada? _____



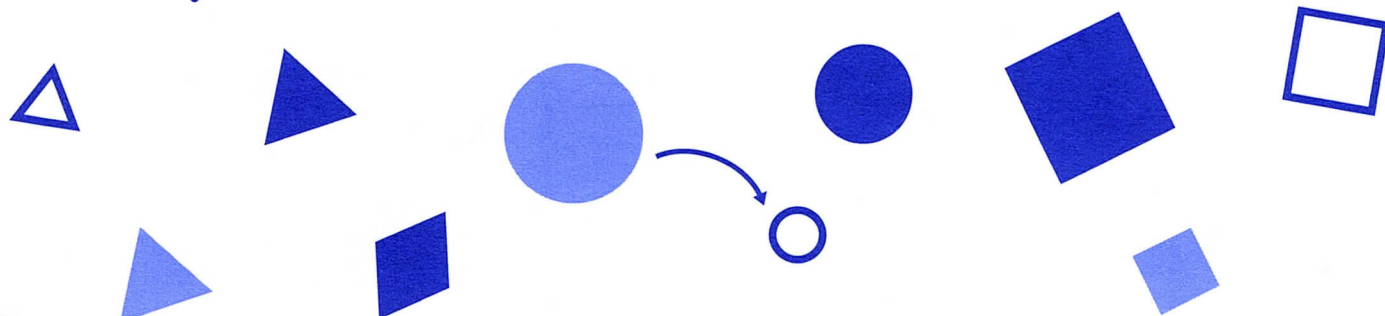
▶ Ara el missatge serà: "Jo sóc com tu però més gran."

"Jo sóc com tu però més gran"



③ Fes totes les fletxes possibles.

Hi ha fletxes d'anada i tornada? _____



1 Completa la taula:



Esquemes

Números Paraules

	42	
		Trenta-cinc
		Cinquanta

1 Completa aquestes sèries amb l'operació que indica cada fletxa.

$+2$

20

$+3$

21 48

$+5$

20

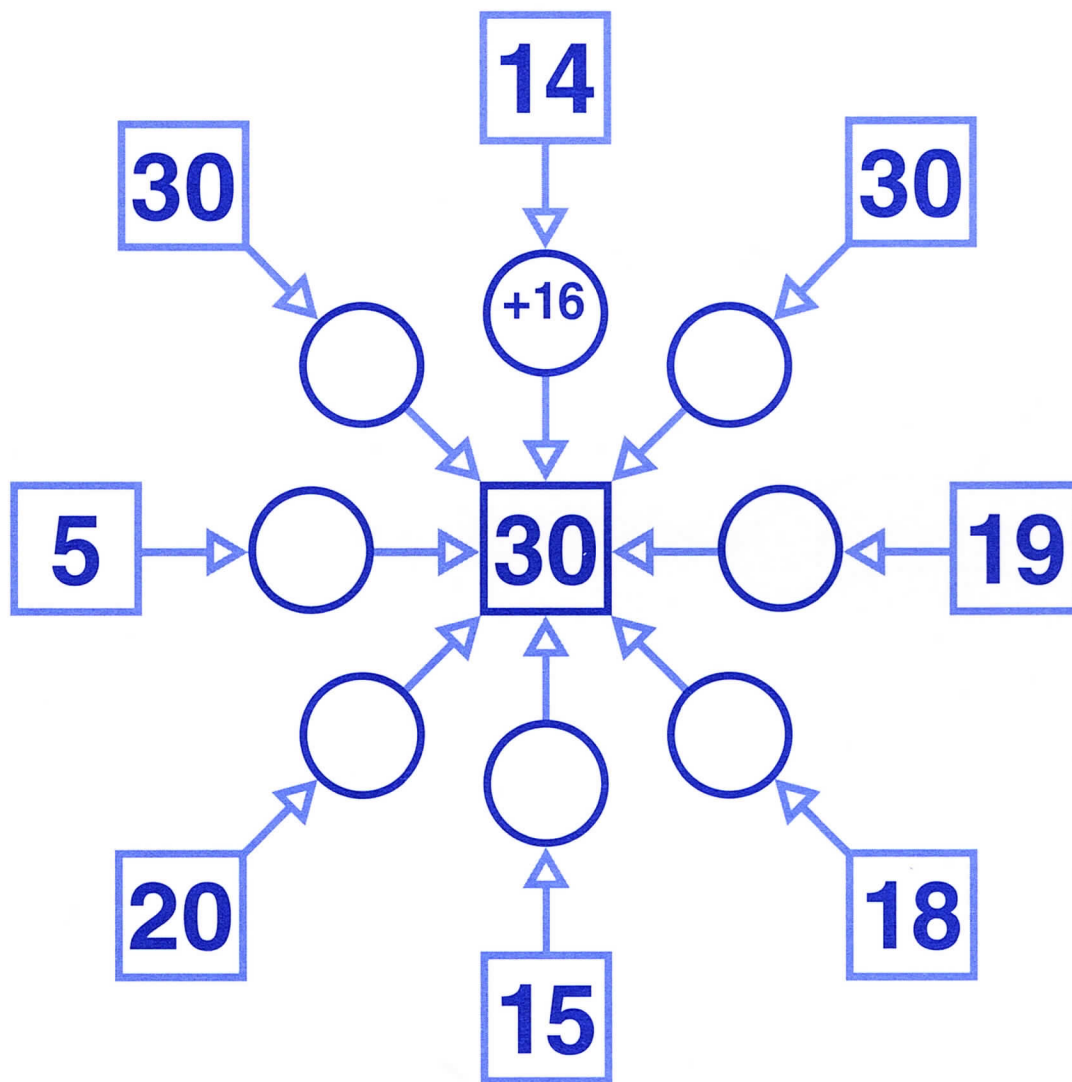
$+5$

21

-2

50 30

- 1 Calcula mentalment i escriu les operacions necessàries perquè el resultat de totes les màquines sigui 30.



- 2 Dictat de números:
Escriu amb números les quantitats que et dicten.

Seven empty speech bubble shapes arranged horizontally for writing the dictated numbers.

- 1 Observa el signe que hi ha a la cantonada i fes totes les operacions.

+	6	10	8	4
7	13			
2				
4				
0				

-	2	6	3	0
6	4			
10				
5				
12				

+	2		4	
1		7		11
	6			
5				15
8	10			18

-		2		
5	2			5
10	7		9	
13			12	
	0	1	13	

2. Llegeix i respon:

El Marc i l'Anna volen fer un mural d'animals.

El Marc s'ha encarregat de buscar imatges de mamífers i ha aconseguit 8 fotos en què apareixen gossos, cavalls, óssos, tigres...

L'Anna, per la seva banda, ha trobat 6 fotos d'aus i 5 de peixos.

- Què volen fer els nens?

- Qui ha trobat més fotos?

- De quin tipus d'animal hi haurà més fotos al mural?

- Escriu una pregunta que puguis resoldre utilitzant totes les dades.




2 Cal respondre preguntes de comprensió sobre el text. Després, s'ha d'inventar i escriure una pregunta que es pugui resoldre operant amb les dades de l'enunciat.

Llegeix i comprèn

1. Llegeix i uneix:

A la nevera hi havia 20 imants i se'n van trencar 8.



Quants n'he de fer encara?

Tinc 20 € a la guardiola i 7 € a la butxaca.



Quants n'hi ha en total?

Hi ha 10 ànecs nedant a l'estany i 5 dormen.



Quants en queden?

A la meua llibreta hi ha 35 problemes. Ja n'he fet 20.



Quants diners tinc?

1 Cal fer una lectura comprensiva per unir cada enunciat amb la pregunta corresponent.