


# Si vols passar-t'ho bé pots fer aquests reptes:

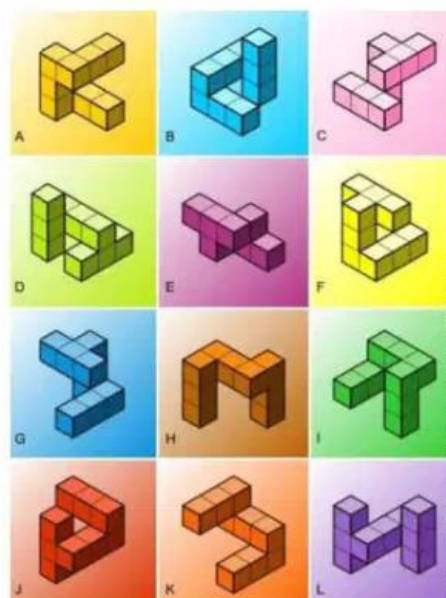
1. Un faraó va ordenar construir un gran cub amb 27 cubs petits.

També va ordenar que tota la part exterior, inclosa la base, fos pintada de color vermell.

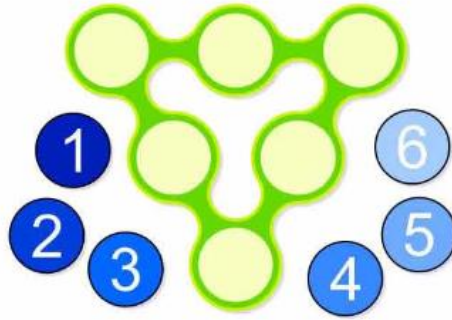
Un cop acabat, sabeu quants cubs petits van ser pintats de vermell només per dues cares?



2. Cada imatge té una parella igual. Pots trobar quines són les sis parelles?



3.



**A TRIANGLES MÀGICS**

Col·loca els nombres de l' 1 al 6 en els cercles de tal manera que sumant els tres que estan en línia sumin sempre 9.


Sabries fer-ho també per a que sumin 10?

I per a que sumin 11?

I per a que sumin 12?



A) Sóc un número de tres xifres. La suma de les tres xifres que em componen té com a resultat 18. La primera xifra és la meitat que la segona i un terç de la tercera. Saps quin número sóc?

4.



SOLUCIÓ: \_\_\_\_

# I per últim us proposem aquests jeroglífics...



---

La pròxima setmana us donarem  
la resposta.