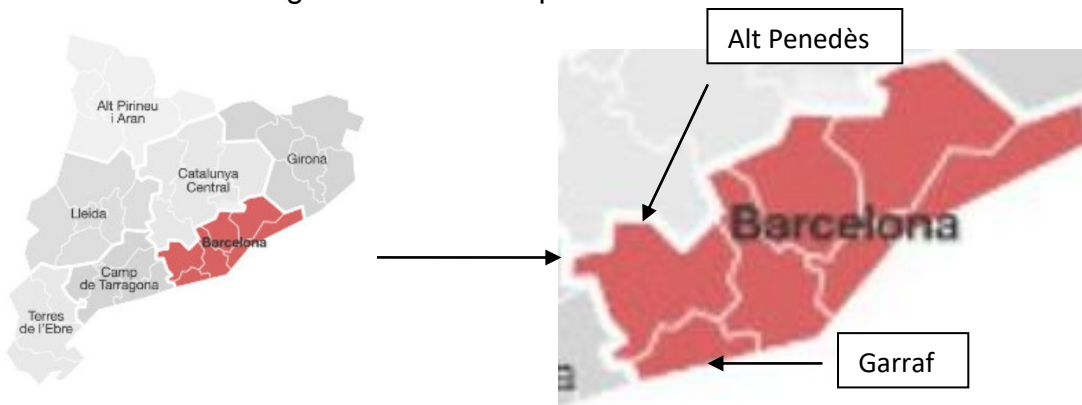


Desconfinament: Canvi de fase?

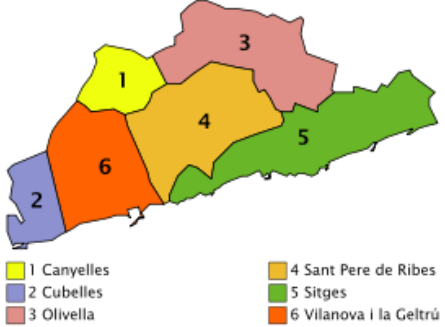

Com ja heu vist en l'altra activitat que en aquests moments es parla del mapa de regions sanitàries. És el mapa que agrupa les poblacions que s'aniran desconfinant en el mateix moment. El motiu és l'organització sanitària compartida en cada zona sanitària és a dir, com es solucionen les situacions de salut de la població dels llocs que estan en el mateix grup. Aquestes regions ja estan acostumades a treballar juntes quan es necessita organitzar els seus hospitals, centres de salut, metges,... per això ara es desconfinen a la vegada. En aquest enllaç les pots veure totes:


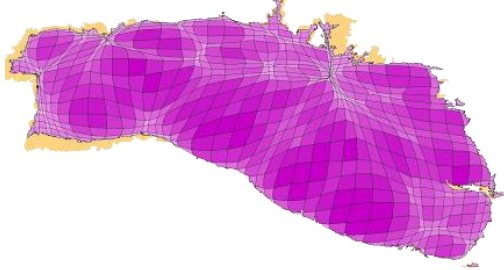
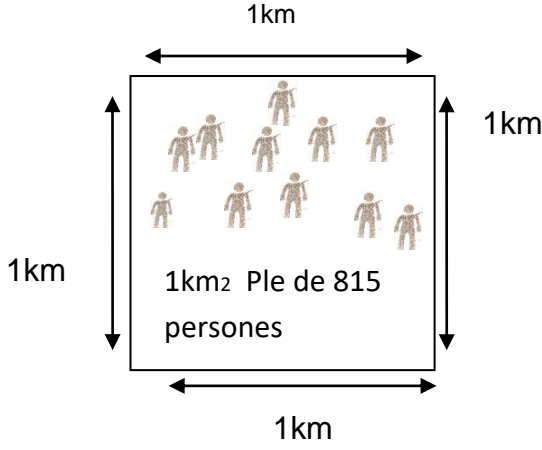
<https://catsalut.gencat.cat/ca/coneix-catsalut/catsalut-territori/>

La nostra regió sanitària és aquesta:



En aquesta regió sanitària hi ha la nostra comarca, el Garraf, que ha viscut una situació diferent a la de les altres regions sanitàries. El Garraf no s'ha desconfinat amb la seva zona, ho ha fet junt amb l'Alt Penedès. Un dels motius és la **quantitat de població** que tenim i com omplim el **territori** que tenim, és així:

| | | |
|-------------------------|--------------------------|--|
| <p>Comarca</p> | <p>Garraf</p> | <p>La formen sis pobles i un d'ells és Sant Pere de Ribes. La capital és Vilanova i la Geltrú</p>  <ul style="list-style-type: none"> 1 Canyelles 2 Cubelles 3 Olivella 4 Sant Pere de Ribes 5 Sitges 6 Vilanova i la Geltrú |
| <p>Habitants</p> | <p>160.000 hab(2019)</p> | <p>Aquesta és la quantitat total de persones que hi vivim, comptades fins al 2019</p>  |

| | | |
|--------------------------|-------------------------------|---|
| <p>Superfície</p> | <p>185 km²</p> | <p>Aquesta quantitat és el tros de terra del món que ocupem. Es compta dibuixant els quadrats de Km de costat que hi caben </p> <p>Hi caben 185 quadrats de 1km de costat dibuixats al damunt.</p>  |
| <p>Densitat</p> | <p>815 hab/km²</p> | <p>Aquesta quantitat vol dir que en cada quadrat de km hi poden viure 815 persones</p>  <p>A vegades estem més apretats o no tant. Això és la densitat. Depèn de la quantitat del terreny(Km²) i de la quantitat de persones(habitants) que l'omplen(hab/km²).</p> <p>Mira aquest vídeo d'un minut i tindràs més idees sobre què és la densitat de població:</p> <p>https://www.youtube.com › watch</p> |

Si agafem les dades de la comarca que tenim al costat de la nostra, el Baix Llobregat, hi veiem diferències importants:



| | |
|------------|---------------------------|
| Habitants | 826.000hab. (2019) |
| Superfície | 486 km ² |
| Densitat | 1.700 hab/km ² |

ARA CONTESTA I FES:

Tenint en compte tota la informació anterior contesta:

- ✓ En quina comarca viuen més apretades les persones, al Baix Llobregat o al Garraf?
- ✓ Busca una manera de demostrar quines persones viuen més apretades o menys, les que vivim al Garraf o les que viuen al Baix Llobregat. Pots fer-ho dibuixant, amb una taula de proporcionalitat, amb material. Fes la foto de tot allò que vagis fent. Pots utilitzar qualsevol material: fulls quadriculats, cartró, cartolines, xinxetes, ninos, peces, paper transparent, blanc, de colors... També pots arrodonir les dades de cada comarca o posar altres exemples. **No hi ha una sola manera de resoldre-ho. Tot allò que facis estarà ben fet. Ens agradarà veure les teves idees que et permetran trobar un “mesurador de densitat”.**
- ✓ A l'acabar, argumenta el que has descobert. Aprofita totes les fotos que tinguis per tal de comunicar-ho millor.
- ✓ Hi ha motius doncs, per fer el desconfinament per separat al Baix Llobregat i al Garraf? Argumenta la teva resposta.