



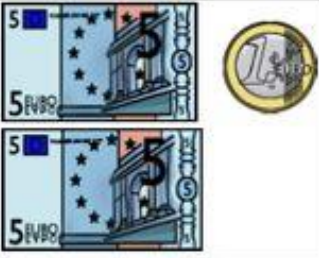





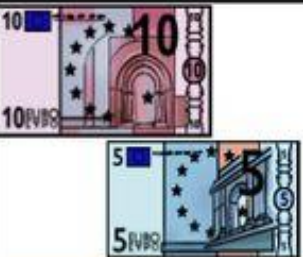



Els euros






TREBALLEM AMB ELS EUROS...

<https://www.youtube.com/watch?v=ZJJimVmqqjA>

Escolta aquest video i després fes les activitats.

 5 € 7 € 9 €	 5 € 7 € 9 €	 5 € 7 € 9 €
 11 € 12 € 13 €	 11 € 12 € 13 €	 11 € 12 € 13 €
 14 € 15 € 16 €	 14 € 15 € 16 €	 14 € 15 € 16 €
 14 € 15 € 16 €	 14 € 15 € 16 €	 14 € 15 € 16 €

Quants euros hi ha a cada requadre?

		
€	€	€
		
€	€	€
		
€	€	€
		
€	€	€

CÀLCUL RÀPID:

20 + 10 + 5 =

10 + 10 + 5 =

5 + 5 + 20 =

100 + 20 + 2 =

50 + 20 + 5 =





















100 + 50 + 10 =

50 + 50 + 10 + 5 =

100 + 100 + 50 =

20 + 20 + 20 =

Le marché – les articles à vendre

 2€	 2€	 2€	 2€	 3€
 3€	 2€	 1€	 8€	 4€
 4€	 3€	 4€	 7€	 2€
 2€	 2€	 3€	 3€	 3€

QUANT VAL?

Fixa't en les imatges i respon:

1. Quant valen 3 trossos de formatge?.....
2. Quan val 1 dotzena d'ous?.....
3. Quant valen 6 hamburgueses?.....
4. Quant valen 3 salsitxes?.....
5. Quant valen 2 bosses de taronges?.....
6. Quan valen 6 ampolles de llet?.....
7. Quant valen 2 pinyes i 1 enciam?.....
8. Quant val mig pollastre?.....
9. Quan valen 4 iogurts i 2 litres de llet?.....
10. Quant val tot el peix que surt a les imatges?.....

TENGO	COMPRO	ME QUEDA
		
		
		
		
		

Relaciona les quantitats que siguin iguals:

2 bitllets de 5eur/1 moneda de 2eur/ 1 bitllet de 10eur 70 EUR

3 bitllets de 10eu/2 monedes de 1eur/ 1 bitllet de 5eur 19 EUR







1 bitllet de 20eur/2 bitllets de 10eur/ 3 monedes de 2eur 22 EUR

2 bitllets de 20eur/ 2 bitllets de 5eur/ 2 monedes de 1eur 52 EUR

1 bitllet de 50eur/1 bitllet de 10eur/2 bitllets de 5eur 46 EUR

3 bitllets de 5eur/1 moneda de 2eur/ 2 monedes de 1eur 37 EUR



POTS FER L'ACTIVITAT D'AQUESTA PÀGINA MANIPULANT EUROS DE VERITAT.

 <p>..... € c</p>	 <p>..... € c</p>	 <p>..... € c</p>
 <p>..... € c</p>	 <p>..... € c</p>	 <p>..... € c</p>

REPTE MATEMÀTIC

 + 8 = 13

25 -  = 11

 -  =