

Hola Coales i Lleopards!

Comencem de nou una altra setmana. Aquesta vegada treballarem el circ en castellà.

El circo es un lugar divertido en el que la gente se lo pasa bien y se ríe. Es un lugar grande que podemos visitar con nuestra familia. Hay muchos personajes como: payasos, artistas, domadores, trapecistas, magos... También hay animales: leones, elefantes, monos...

Os proponemos unas actividades para trabajar el circo.

- ¿Sabéis que cada circo tiene un nombre? Podéis inventar el nombre de vuestro circo y escribirlo en esta etiqueta. Se puede decorar con rotuladores, colores...



Aquesta activitat s'ha de retornar per correu electrònic.


- Para resolver esta actividad tendr is que relacionar estos nombres con la imagen que le corresponda.

payaso malabarista, carpa de circo, mago, domador, foca,
zancudo malabarista, equilibrista, forzudo,



- Aquí tenéis una sopa de letras.

EL CIRCO



www.educima.com

AROS	CUERDAFLOJA
DANZA	DIÁBOLO
DOMADOR	ELEFANTE
LEÓN	MALABARES
MAZAS	MONOCICLO
PAYASO	PEDALOS
PELOTAS	RULOS
TIGRE	TRAPECISTA

- Frase escondida

Busca las palabras en el recuadro, cópialas donde corresponda, lee la frase escondida y dibújala.

4 animales:

5 instrumentos:

2 partes del circo:

4 artistas:

magó	trompeta	bailarina	platillos	elefante	los niños
bombo	pista	caballo	comen	payaso	tambor
mono	algodón	domador	trombón	bastidores	oso

Dibujo de la frase escondida.

Aquesta activitat s'ha de retornar per correu electrònic.

- Adivinanzas

Bajo mi carpa gigante,
acojo a chicos y grandes,
payasos y trapevistas
son típicos en mis pistas.



Solución :

Lleva unos grandes
zapatones, con los que se
pega tropezones, los chicos y
grandes ríen con sus chistes
y canciones.

Solución :

Matemàtiques


Us presentem una sèrie d'activitats variades, Esperem que us agradin.

Cuenta de 2 en 2. Pulsa cada par de patines de cuchilla para llevar la cuenta según avanzas.



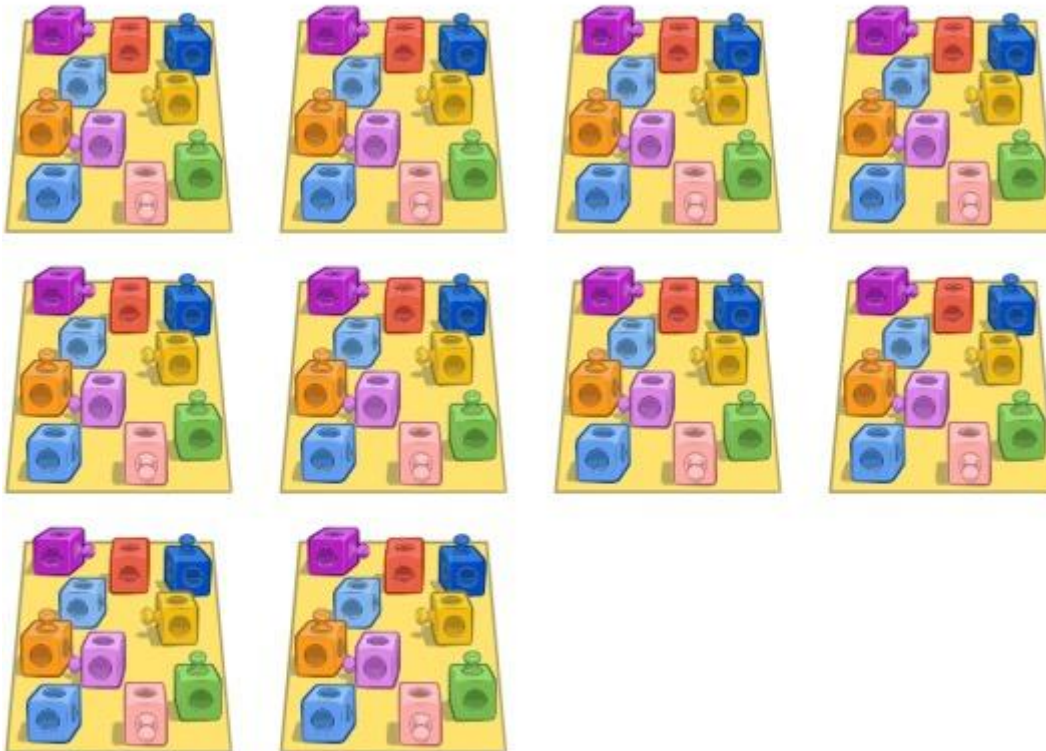
¿Cuántos patines de cuchilla hay?

Cuenta los bloques de 10 en 10.



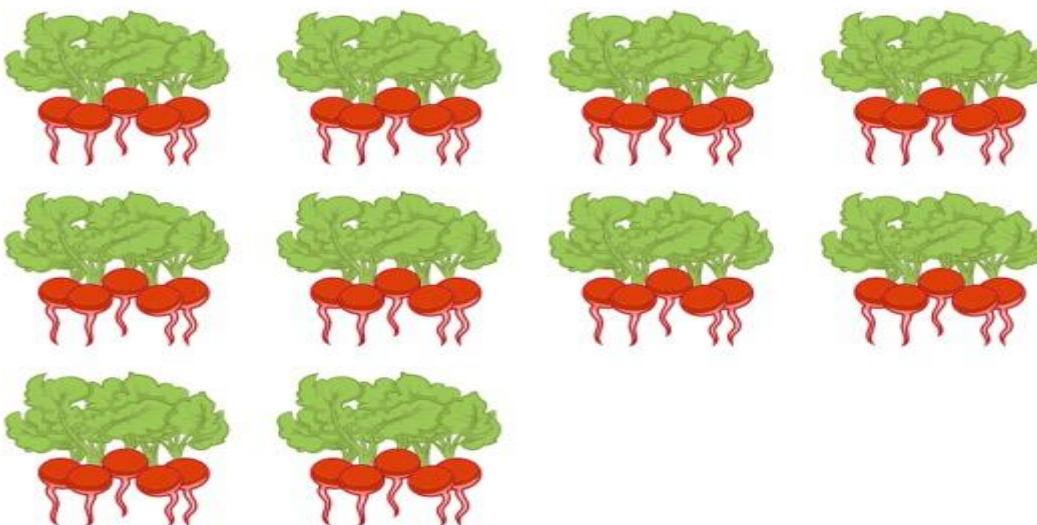
¿Cuántos bloques hay?

Cuenta de 10 en 10. Pulsa cada grupo de policubos para llevar la cuenta según avanzas.



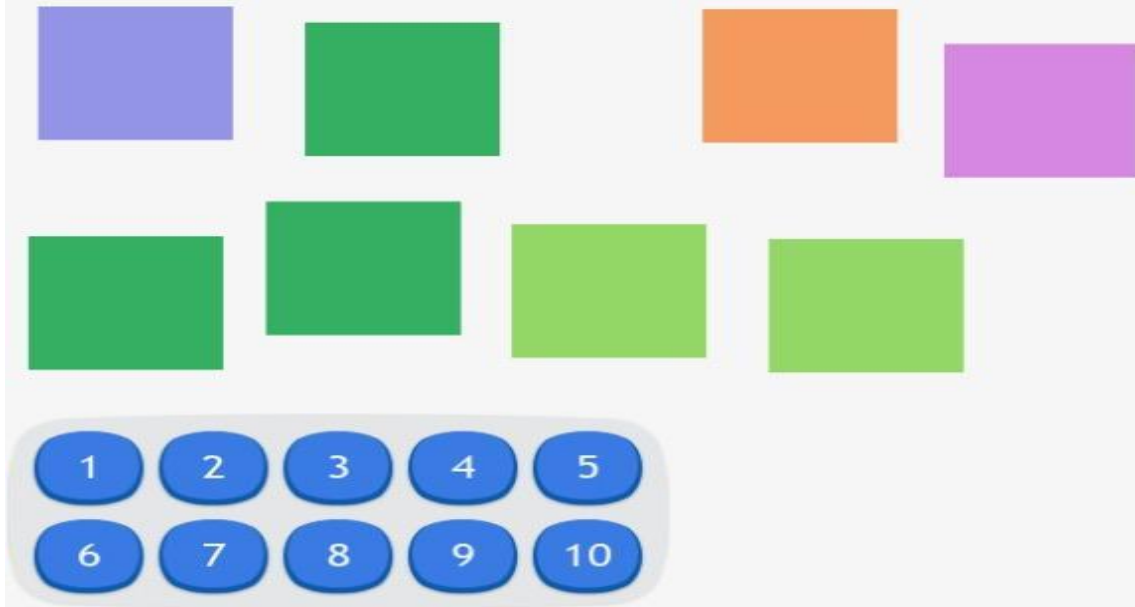
¿Cuántos policubos hay?

Cuenta de 5 en 5. Pulsa cada grupo de rábanos para llevar la cuenta según avanzas.

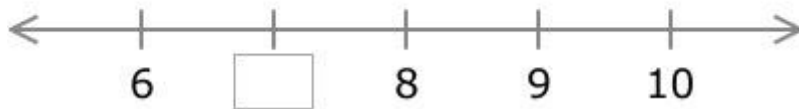


¿Cuántos rábanos hay?

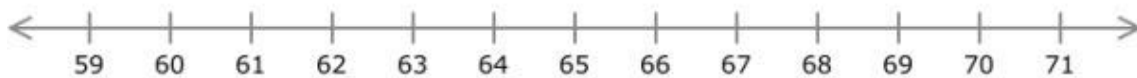
¿Cuántos cuadrados hay?



Escribe el número que falta.



¿Qué número aparece justo después del 61?



¿Qué signo hace que esta expresión sea correcta?

$26 \text{ ? } 26$

¿Qué signo hace que esta expresión sea correcta?

$53 \text{ ? } 52$

Suma:

$40 + 30 = \square$

Suma:

$$\begin{array}{r} 33 \\ + 64 \\ \hline \square \end{array}$$

Resta:

$$\begin{array}{r} 28 \\ - 12 \\ \hline \square \end{array}$$

Escribe el número que falta en esta serie:

$\square, 12, 11, 10, 9$


Escribe el número que falta en esta serie:

55, , 65, 70, 75, 80

Escribe el número que falta en esta serie:

80, 70, 60, , 40, 30


Cuenta los bloques:



Ahora, rellena los números que faltan:

decenas + unidades = 16

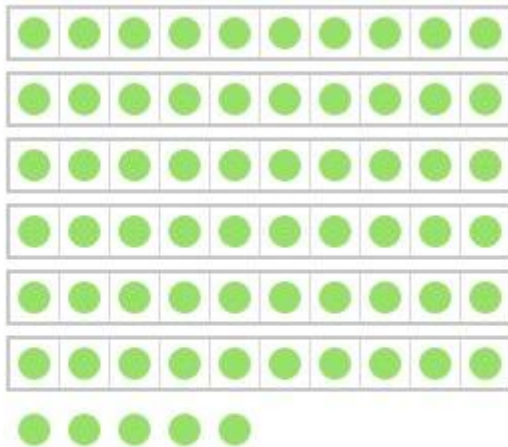
Cuenta los bloques:



Ahora, rellena los números que faltan:

decenas + unidades =

Cuenta los puntos:



Ahora, rellena los números que faltan:


decenas + unidades = 65

Escribe los números que faltan.

16 = decenas + unidades

Totes les activitats de les desenes i unitats (4) s'han de retornar per correu electrònic.

¿Qué temperatura hace?



30°C

25°C

15°C

20°C

RÚBRICA

TASQUES SETMANA 11-15 de maig	HE FET LES TASQUES? (Omple amb sí o no)	COM M'HA ANAT LA SETMANA? M'ha agradat? Quines dificultats he tingut? Si no has fet alguna tasca, per què?
Nom del teu circ i decoració amb retoladors o colors de fusta.		
Relacionar els noms amb les imatges.		
Sopa de lletres.		
Oració amagada.		
Endevinalles.		
Problemes matemàtics		
Anglès		

La rúbrica també s'ha de retornar per correu electrònic.

Molts petons i abraçades!!!