



1. Quantes potes tenen en total aquestes 9 gallines?



El doble de 9 és

2. Quantes gallines hi ha amagades rere la tanca?



La meitat de 12 és

34 trenta-quatre

Data:




3. Quantes rodes tenen 5 bicicletes?

El doble de 5 és

I si tenim 8 bicicletes?

El doble de 8 és



4. Quantes monedes de 2 € necessites per pagar 4 €?

La meitat de 4 és

I per pagar 14 €?

La meitat de 14 és

