

6 Llegeix i contesta:

Aquestes vacances l'Anna i el Pol han anat junts de càmping. Volen fer un herbari, per això l'Anna ha collit 13 plantes diferents i el Pol n'ha collit 17.

- ▶ Quantes plantes han collit entre tots dos?

L'Anna i el Pol han collit plantes diferents.

- ▶ Si volen que en l'herbari hi hagi 50 plantes diferents, quantes els en falten?

Els falten plantes.

7 Escriu el nombre anterior i el nombre posterior:

28 20 96

43 64 80

6) Aquestes vacances l'Anna i el Pol han anat junts de càmping. Volen fer un herbari per això l'Anna ha collit 13 plantes diferents i el Pol n'ha collit 17.
Quantes plantes han collit entre tots dos?

Dades	Operacions	Solució
• Anna \rightarrow 13 plantes	13	R = Han collit 30 plantes entre els dos
• Pol \rightarrow 17 plantes	$\begin{array}{r} +17 \\ \hline 30 \end{array}$	

L'Anna i el Pol han collit 30 plantes diferents.
Si volen que en l'herbari hi hagi 50 plantes diferents, quantes els en falten

Dades	Operacions	Solució
• Tenen 30 plantes	$\begin{array}{r} -30 \\ \hline 20 \end{array}$	R = Els falten 20 plantes
• En volen 50		

Els falten 20 plantes

7) Escric el nombre anterior i el posterior

27, 28, 29;
42, 43, 44;

19, 20, 21;
63, 64, 65;

95, 96, 97
79, 80, 81

8 Resol les restes següents:

$$\begin{array}{r} 58 \\ - 35 \\ \hline \end{array}$$

$$\begin{array}{r} 87 \\ - 63 \\ \hline \end{array}$$

$$\begin{array}{r} 73 \\ - 51 \\ \hline \end{array}$$


$$\begin{array}{r} 49 \\ - 18 \\ \hline \end{array}$$

$$\begin{array}{r} 56 \\ - 23 \\ \hline \end{array}$$


$$\begin{array}{r} 90 \\ - 70 \\ \hline \end{array}$$

9 Dibuixa aquestes formes geomètriques:


Un quadrat vermell



Un triangle verd

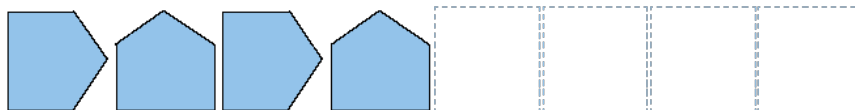
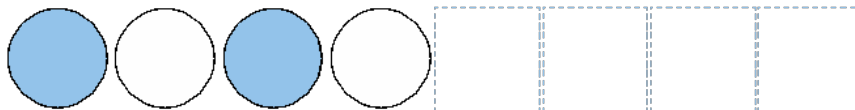


Un rectangle groc



NOM:

10 Completa les sèries:



. CORRECCIÓ

8 23 24 22
31 33 20

9 Resposta procedimental.

10 bola blava – bola blanca – bola blava – bola blanca
punta dreta – punta dalt – punta dreta – punta dalt