

**6 Llegeix i contesta:**

Aquestes vacances l'Anna i el Pol han anat junts de càmping. Volen fer un herbari, per això l'Anna ha collit 13 plantes diferents i el Pol n'ha collit 17.

- ▶ Quantes plantes han collit entre tots dos?

L'Anna i el Pol han collit ..... plantes diferents.

- ▶ Si volen que en l'herbari hi hagi 50 plantes diferents, quantes els en falten?

Els falten ..... plantes.

**7 Escriu el nombre anterior i el nombre posterior:**

<input type="text"/>	28	<input type="text"/>	<input type="text"/>	20	<input type="text"/>	<input type="text"/>	96	<input type="text"/>
<input type="text"/>	43	<input type="text"/>	<input type="text"/>	64	<input type="text"/>	<input type="text"/>	80	<input type="text"/>

8 Resol les restes següents:

$$\begin{array}{r} 58 \\ - 35 \\ \hline \end{array}$$

$$\begin{array}{r} 87 \\ - 63 \\ \hline \end{array}$$

$$\begin{array}{r} 73 \\ - 51 \\ \hline \end{array}$$


$$\begin{array}{r} 49 \\ - 18 \\ \hline \end{array}$$

$$\begin{array}{r} 56 \\ - 23 \\ \hline \end{array}$$


$$\begin{array}{r} 90 \\ - 70 \\ \hline \end{array}$$

9 Dibuixa aquestes formes geomètriques:


Un quadrat vermell



Un triangle verd

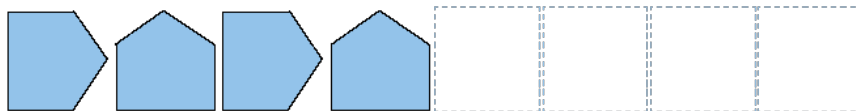
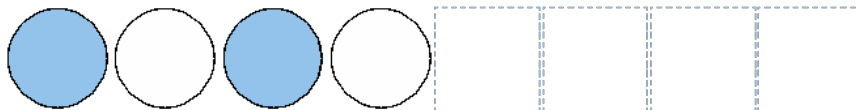


Un rectangle groc



NOM: .....

10 Completa les sèries:



6  $13 + 17 = 30$

L'Anna i el Pol han collit trenta plantes diferents.

$50 - 30 = 20$

Els falten 20 plantes.

7  $27 - 28 - 29$      $19 - 20 - 21$      $95 - 96 - 97$   
 $42 - 43 - 44$      $63 - 64 - 65$      $79 - 80 - 81$

8  $23$      $24$      $22$   
 $31$      $33$      $20$

9 Resposta procedimental.

10 bola blava – bola blanca – bola blava – bola blanca  
punta dreta – punta dalt – punta dreta – punta dalt