


LÒGICA, ENIGMES I JEROGLÍFICS



Us deixem una sèrie **d'activitats de lògica, enigmes i jeroglífics** per a que resolgueu aquesta setmana. La setmana vinent publicarem els resultats!


Un granger té 20 porcs, 40 vaques i 60 cavalls. Però si li diem cavalls a les vaques, quants cavalls tindria?



$$11+2= 1$$

En quin cas aquesta operació és correcta?

Quan de temps fa que vius aquí?




La Maria té un germà anomenat Joan.
En Joan té tants germans com germanes.
La Maria té el doble de germans que de germanes.
Quants nois i noies hi ha a la família?



En Pere i en Josep tenien unes taronges. En Pere li diu a en Josep:

- Dóna'm una taronja i així tindrem igual!

- No! - li contesta en Josep - Millor dóna'm tu una taronja a mi i així en tindrè el doble.



Seguim en contacte boniques i bonics!