

## COMPRESIONS LECTORES

### La lliga

Jornada 18 (Última jornada jugada)					<< jornada anterior	
Data	Hora	Equip Local	Equip Visitant	Resultat		
28/05/2011	09:30	C.B. TONA 2	C.B. LA ROCA	72	22 [H]	
28/05/2011	11:00	C.N. SABADELL 2	C.B. MATADEPERA B	75	53 [H]	
28/05/2011	10:30	CREU ALTA SABADELL - 2	U.E.B. MARTORELLES	72	30 [H]	
28/05/2011	11:00	AEC COLLBLANC-TORRASSA BLAU	C.B. OPALO CERDANYOLA C	63	56 [H]	

Classificació a la jornada							
Equip	J	G	P	NP	TF	TC	Punts
1 C.B. OPALO CERDANYOLA C	16	13	3	0	994	599	29
2 C.N. SABADELL 2	16	12	4	0	940	671	28
3 CREU ALTA SABADELL - 2	16	11	5	0	938	758	27
4 C.B. TONA 2	16	11	5	0	849	636	27
5 AEC COLLBLANC-TORRASSA BLAU	16	10	6	0	795	497	26
6 A.E.E. REGINA CARMELI BLANC	16	5	11	0	655	864	21
7 C.B. MATADEPERA B	16	5	11	0	680	879	21
8 U.E.B. MARTORELLES	16	4	12	0	670	905	20
9 C.B. LA ROCA	16	1	15	0	307	1019	17

**LLEGENDA:** J partits jugats, G guanyats, P perduts, TF tirs a favor, TC tirs en contra

PREGUNTES:

1- Quin dia va ser l'última jornada de la lliga?

---



---

2- Quin és l'equip que ha fet més punt en tota la lliga? Quants?

---



---

3- Quin equip ha rebut menys punts a la lliga? Quants?

---



---

4- Quina és la diferència de punts entre els dos equips?

---



---

## LA CURSA


**CURSA DE  
CAMPRODON-MOLLÓ-PRATS DE MOLLÓ****LA CURSA DE L'ESTIU. CADA ESTIU VINE A *CÓRRER!***

**SORTIDA: A LES 10H. DE LA PLAÇA SANTA MARIA.  
INSCRIPCIÓ: 10€ (samarreta de la cursa. Record. Aperitiu i  
Trasllat amb bus).**

**PREMIS:**  
1er- 150€ Categories Masculina i Femenina  
2on- 100€ Categories Masculina i Femenina  
3er- 50€ Categories Masculina i Femenina  
I Trofeus per les categories.

ARRIBADA A PRATS DE MOLLÓ I ENTREGA DELS PREMIS I APERITIU  
PELS PARTICIPANTS I AUTOBÚS PER TORNAR.

PER MÉS INFORMACIÓ: Sr. Roig **9371830014**



ORGANITZEN:



AJUNTAMENT DE  
PRATS DE MOLLÓ



AJUNTAMENT DE  
CAMPRODON



AJUNTAMENT DE  
MOLLÓ

1- La sortida és des de la Plaça Santa Maria, però de quin poble?

---

---

2- Ens volem apuntar tota la família a la cursa, en total som 7 persones, quants diners haurem de pagar?

---

---

3- Què inclou la nostra preinscripció?

---

---

4- Si necessito més informació, que puc fer?

---

---

5- Quin tipus de roba recomaneu per fer aquesta cursa?

---

---

## AL CINEMA!

**PIRATAS DEL CARIBE: EN MAREAS MISTERIOSAS (ANALÓGICA)**

Jack Sparrow surt a la recerca de la llegendaria Font de la Joventut. En el seu camí es creua amb l'Angèlica, una enigmàtica pirata amb qui comparteix passat.

Web Oficial:

**Sala:** 3

**Duración:** 141 min.

**Nacionalidad:** USA

**Director:** Rob Marshall

**Intèrpretes:** Johnny Depp, Geoffrey Rush, Penélope Cruz, Ian McShane.

**Gènere:** Aventura

**Clasificación:** No Recomendada per menors de 7 anys

CÒMPRA LES TEVES ENTRADES  
Prement sobre l'horari



1- Aquesta pel·lícula és apta per als narvals i les guineus?

---

---

2- Pots dir el nom d'un actor i d'una actriu que participin en la pel·lícula?

---

---

3- Si la pel·lícula comença a les 16:00 h, a quina hora acabarà?

---

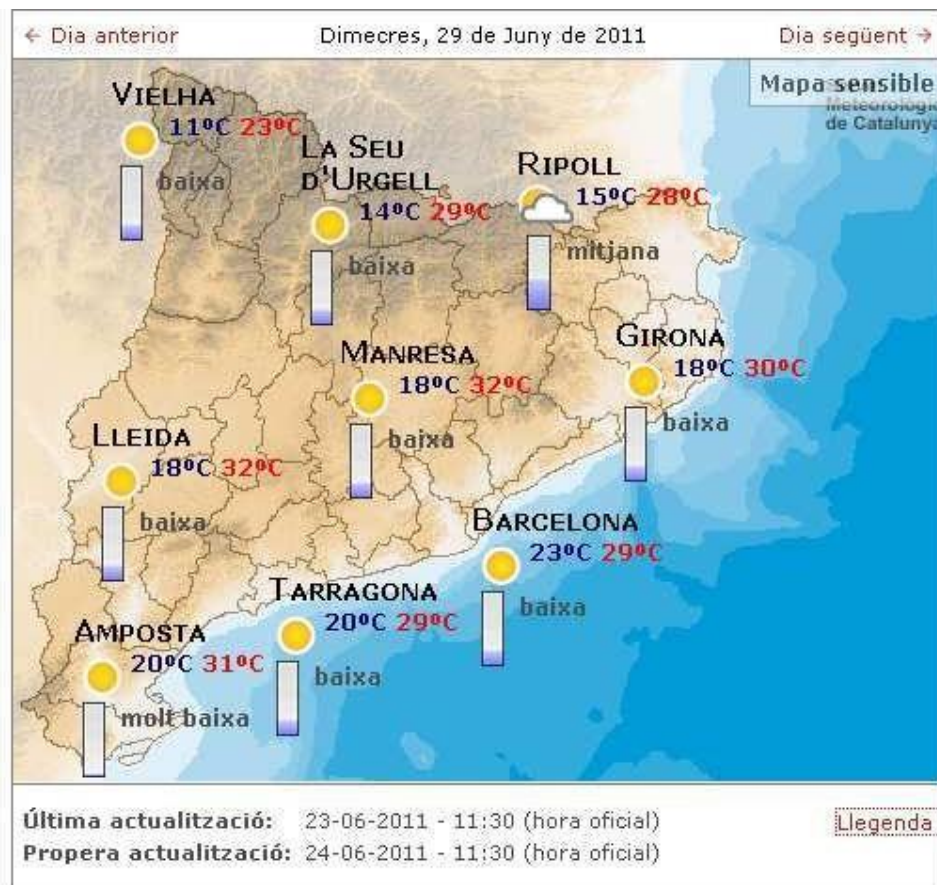
---

4- De quin gènere és? Comèdia, drama...

---

---

QUIN TEMPS FA?



1- Reconeixeu aquest mapa? És de \_\_\_\_\_

2- De quina data és aquest mapa meteorològic?

\_\_\_\_\_

3- En quina ciutat farà més calor?

\_\_\_\_\_

4- Escriu una ciutat del mapa de: Costa, interior i muntanya

\_\_\_\_\_

## EL CONTE




Escriu a dins de cada imatge el número que li correspon :

1. El nen es troba una flor pansida al mig del camí. Es pregunta què li està passant. Serà que té molta calor? I si li porto aigua




2. Després de molt caminar, troba un riu i agafa aigua per la flor. La rega i espera a veure què passa. La flor reviu. El nen, cansat s'estira a dormir a prop seu.




3. El nen mira per sobre la tanca de casa seva amb molt d'interès té moltes ganes de sortir a conèixer el món. I si vaig a fer un tomb?

Quin títol li posaries?


A- El nen perdut al desert

B- La rosa del Tibet

C- La flor més gran del món

Si has escrit correctament el títol i l'escrius en el Youtube podràs veure el curt sencer del conte.

## DICTATS

- A continuació teniu diferents propostes de diferents dictats, encercleu les paraules que creieu que són més difícils i feu una foto  mental . Les heu de lletrejar cap endavant i cap enrere.

### DICTAT 1

Potser he deixat l'estoig al prestatge roig.

La remolatxa i el formatge són dins la motxilla.

Els gossos del barri porten morrió.

Nosaltres toquem la guitarra asseguts a la sorra de la platja.

Separa les paraules per síl·labes (enrecorda't dels **dígrafs** que vam treballar en el taller de llengua amb els ordinadors)

---

---

---

---

---

---

---

---

### DICTAT 2

A casa tinc un gat, un gos, un peix i un canari. El gat és blanc, suau i carinyós. El gos és de color marró i té la cua blanca, tacada, llarga i estreta. El meu canari és groc, petit i xiulador. El peix és carbassa, petit, bellugadís i un gran nedador.

Quin tipus de text és? Pensa que ens dóna molts detalls de les seves mascotes.

---

---

---

---

---

---

---

---

### DICTAT 3

La cirera del cistell de l'avi és molt dolça.

En Patufet és un nen petit com un pèsol però espavilat i llest.

Demà serà l'aniversari dels bessons i els estem preparant una festa sorpresa.

Tria 3 paraules del dictat i inventa una frase amb cadascuna:

---

---

---

---

---

---



---

---

---

---

---

---

---

---

DICTAT 4

**Aquesta beguda té gust de regalèssia.**

En **Guim** i el **Gorka reguen** el jardí i s'han mullat les **mànigues**.

La **Gabriela** i l'**Agustina** són **amigues** i **juguen a hoquei**.

Ei! Fixeu-vos en la **g, gu i la qu**, són paraules pactades, les teníem penjades a la classe!

---

---

---

---

---

---

---

---

Te proponemos este crucigrama de sinónimos. Utiliza el diccionario si es necesario.

## SINÓNIMOS

**HORIZONTALES:**

- 1.-Gigante
- 2.-Cifra
- 3.-Puntiagudo
- 4.-Intimidar
- 5.-Embarcación
- 6.-Notoriedad

**VERTICALES:**

- 1.-Vago
- 2.-Costoso
- 3.-Maestro
- 4.-Pequeña
- 5.-Malvado

Ayuda al pirata Garfiel a encontrar los sinónimos de las siguientes palabras. Puedes ayudarte del diccionario y de las palabras que tienes dentro del pergamino.

Quando acabes, completa la frase del pirata Garfiel con sinónimos de palabras que te sobren del pergamino

ENORME  
TIMONEL  
HOLGAZÁN  
CIFRA  
NAVEGA  
COSTOSO  
AGUDO  
MAR  
PROFESOR  
ENANA  
APOGEO  
BRAVA  
RUÍN  
BARCO  
LLEGAR  
ASUSTAR  
PIRATA

Completa la frase con sinónimos de las palabras que te han sobrado en el pergamino.

" \_\_\_\_\_, \_\_\_\_\_ con \_\_\_\_\_ que  
la mar está \_\_\_\_\_ y quiero \_\_\_\_\_  
tierra a salvo. ¡¡¡ \_\_\_\_\_ !!!

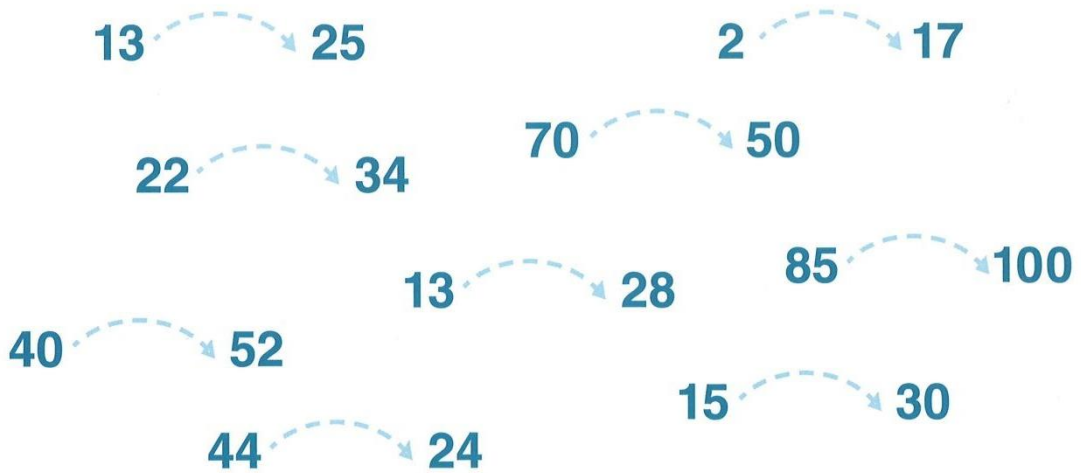
*Una pequeña ayuda:*  
rema, fuerte, alcanzar, marinero, bucanero, cuidado

## Càlculs amb fletxes

En aquesta pàgina el valor de les fletxes és:



1 Dibuixa i escriu cada vegada la fletxa necessària.



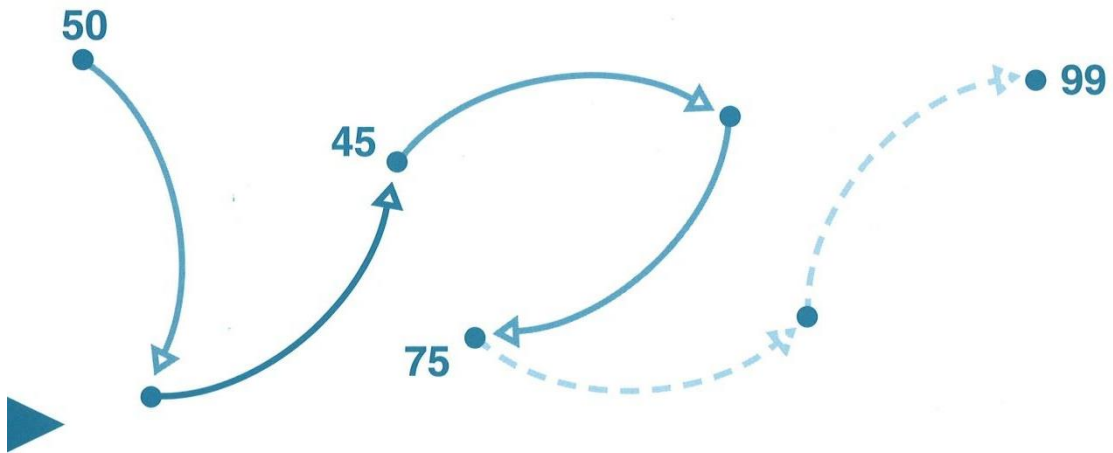
2 En una cinta numèrica, quina distància creus que és més llarga?

Del 2 al 17 o del 85 al 100? \_\_\_\_\_

Del 70 al 50 o del 44 al 24? \_\_\_\_\_

Del 15 al 30 o del 40 al 52? \_\_\_\_\_

3 Descobreix les fletxes que falten i el valor de tots els punts negres.



## Un problema per pensar solucions diverses

Pensa tot el que va passant en cada part d'aquest problema. Si vols, pots anar fent dibuixos o senyals per recordar cada cosa. Al final explica el que creguis més convenient per resoldre la situació.

- La Maria va al mercat a comprar taronges, perquè la seva mare vol fer molt suc per convidar uns amics.
- Les taronges les venen en bosses com les del dibuix. La Maria en compra tres bosses.
- Pel camí se li trenca una bossa, i perd tres taronges.
- No té prou diners per comprar una altra bossa.
- A la butxaca només porta el mòbil i els diners per a l'autobús.
- La Maria viu molt lluny d'on es troba en aquest moment.
- Està trista perquè pensa que la seva mare ha de fer molt suc.



- 1 Què li proposes a la Maria que faci per resoldre aquesta situació?  
(resposta personal i lliure) \_\_\_\_\_

---

---

---

---

---



## Busquem números amb pistes

- 1 Busquem un número entre 100 i 120 que compleixi tres pistes.
  - S'escriu sense cap zero.  
Escrivim una fila de tots els números possibles.

111	112	113	114	115	116	117	118	119
-----	-----	-----	-----	-----	-----	-----	-----	-----

- És un número imparell.  
Elimina en aquesta llista tots els que ja no serveixen.
  - Les seves xifres sumen 9.  
Torna a ratllar tots els que no ho compleixin.  
Escriu-ho i pinta-ho de color \_\_\_\_\_
- 2 Busquem un número de tres xifres que compleixi altres pistes.  
Per trobar-lo fes una activitat amb les mateixes consignes que abans.
- És més gran que 102 i més petit que 115.

--	--	--	--	--	--	--	--	--	--	--

- S'escriu amb dues vegades l'1 i no té cap zero.
- Les seves xifres sumen 5.  
Escriu-lo i pinta'l de color \_\_\_\_\_

- 3 Ara busquem un número de dues xifres amb altres pistes.
- És més petit que 55 i més gran que 45.

--	--	--	--	--	--	--	--	--

- És un número parell.
- Les seves dues xifres sumen més de 10.  
Escriu-lo i pinta'l de color \_\_\_\_\_



Números fins al 200

1 Escriu els números anterior i posterior de cada un.

_____	156	_____
_____	170	_____
_____	139	_____
_____	114	_____
_____	161	_____
_____	131	_____
_____	143	_____
_____	149	_____
_____	199	_____
_____	200	_____

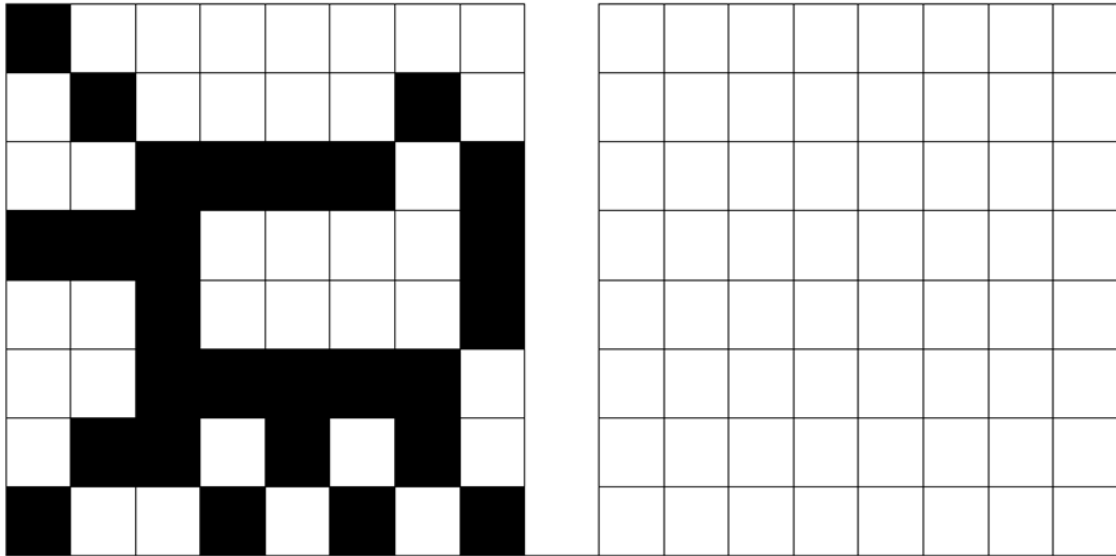
2 Escriu des del 187 fins al 200 ordenats de baix a dalt.

3 Compta de 10 en 10.

100  $\oplus 10 \rightarrow$

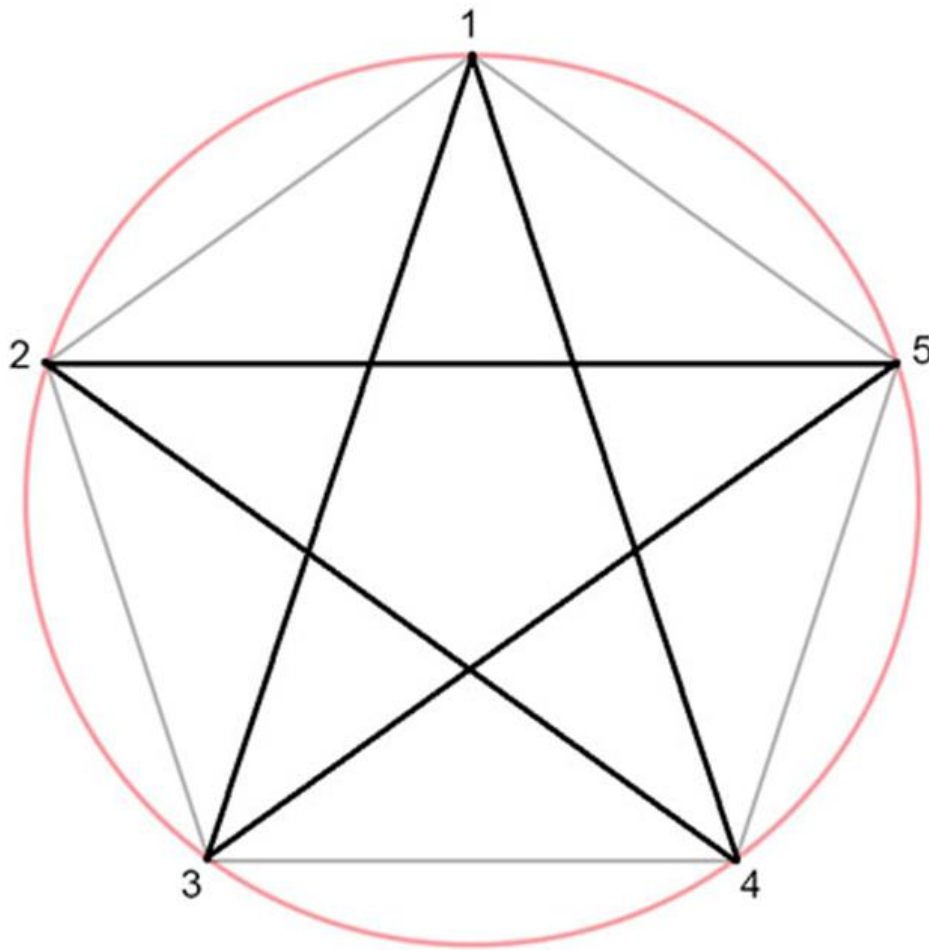
$\leftarrow \ominus 10$  200

## Simetria



## GEOMETRIA

- Aparentment hi ha cinc triangles que es veuen a simple vista, sabries trobar-ne d'altres?
- Quants n'has trobat en total? \_\_\_\_\_
- Sabries trobar quadrilàters?  
Quants? \_\_\_\_\_
- Un pentàgon és una figura poligonal de cinc costats. Series capaç de trobar-ne algun més?
- Observa com està formada l'estrella de cinc puntes. Series capaç de dibuixar-ne una a dintre del pentàgon més petit que trobis?



**Recursos webs:**

[www.cavallfort.cat](http://www.cavallfort.cat)

[www.edu365.cat](http://www.edu365.cat)

[clic.xtec.cat](http://clic.xtec.cat)