

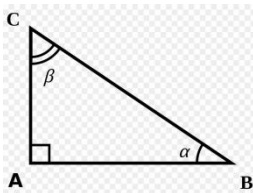
TRIANGLES RECTANGLES, TRIANGLES ACUTANGLES I TRIANGLES OBTUSANGLES:

Clica en l' enllaç de sota (triangle s segons els angles) i mira el video


[TRIANGLES SEGONS ELS SEUS ANGLES](#)

ACTIVITAT 1. Fes una foto i envia per Dinantia

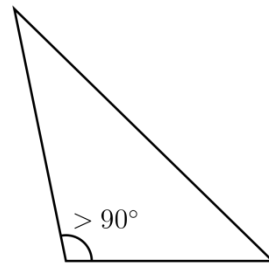
Pels coneixements que tens , digues quin triangle és l' acutangle, l'obtusangle i el rectangle.



A



B



C

ACTIVITAT 2 . Fes una foto i envia per Dinantia

Dibuixa o construeix amb material que tinguis per casa els triangles de l' exercici de dalt i posa el nom que lis correspongui.

Contesta a les preguntes següents

A- Quants angles aguts té un triangle acutangle?

B- Quants angles rectes té un triangle rectangle?

C- Quants angles obtusos té un triangle obtusangle?

ACTIVITAT 3

Resol aquests problemes . fes una foto i envia per Dinantia

A-) En la guardiola tinc 108 euros i la meva germana té el triple que jo. Quants euros tinc jo?. Quants euros té la meva germana

Que em demanen

Esquema

Operacions

Resultat

B-) Avui he comprat a la botiga 678 plantes pel meu jardí, però com són moltes 275 les aniré a buscar demà perquè no em caben a la furgoneta. Quantes plantes he portat al meu jardí?. Quantes plantes he d' anar a buscar demà a la botiga?

Que em demanen

Esquema

Operacions

Resultat

C-) Tinc 32 cromos, i els haig de guardar en 4 capsas. Quants cromos hauré de guardar en cada capsas?. Em sobrar'a algun?

Que em demanen

Esquema

Operacions

Resultat

Aquí et deixo unes activitats voluntàries per fer (no són obligatòries)

4-En aquest enllaç hi trobaràs varis jocs matemàtics, si jugues diguem quin t' agradat més:

<http://www.edu365.cat/primaria/matematiques/index.html>

5-resol aquestes operacions: (no fa falta enviar-ho)

$$234 + 678 + 891 =$$

$$456 + 400 + 981 =$$

$$986 - 398 =$$

$$345 - 165 =$$

$$345 \times 4 =$$

$$567 \times 63 =$$

$$23 : 4 =$$

$$81 : 9 =$$

