

SETMANA 7 MATES

AQUESTA SETMANA PARLAREM DE POLÍGONS , REGULARS, IRREGULARS, REPASSAREM CONCEPTES ANTERIOS I COMENÇAREM A FER DIVISIONS FACILETES.

AQUESTA SETMANA HI HA MÉS FEINA, TRANQUILS SINO US DÓNA TEMPS , L' ENVIEU MÉS TARD)


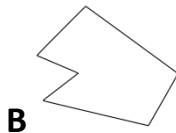
POLÍGONS(PG 142 DEL LLIBRE)

Mira aquest vídeo , clica damunt de polígons regulars

<https://www.youtube.com/watch?v=ZITekXAUVpA>

ACTIVITAT 1:

Digues quins polígons són regulars i quins irregulars. No cal que els dibuixis, posa la lletra i al cantó de quin tipus són. Si vols els dibuixes, escull tú.




ACTIVITAT 2:

Dibuixa dos polígons regulars i dos irregulars, que siguin diferents als de l' exemple. Recorda utilitzar el regle.

ANEM A REPASSAR CONCEPTES ANTERIORS




ACTIVITAT 3:

Digues quins angles li corresponen a cada polígon (angle agut, angle obtús, angle recte)



ACTIVITAT 4 :

Omple aquesta taula:

	Nº de costats	Nº de vèrtexs	Nº d' angles
			
			
			

ACTIVITAT 5:

Col.loca i fes les operacions :

1- $234 + 456 + 561 =$

2- $456 + 678 + 344 =$

3- $789 - 457 =$

4- $981 - 395 =$

5- $234 \times 9 =$

6- $498 \times 7 =$

7- $430 \times 35 =$

8- $745 \times 24 =$

VOLS APENDRE A DIVIDIR?. ESTIC SEGURA QUE SI.

MIRA AQUEST VIDEO. CLICA EN EL DIBUIX DE LA DIVISIÓ

<https://www.youtube.com/watch?v=9QFj4-oERlc>

ACTIVITAT 6:

Practica el que has après:

$6 \overline{) 2}$

$5 \overline{) 5}$

$10 \overline{) 2}$

$18 \overline{) 2}$

$15 \overline{) 3}$

$21 \overline{) 5}$

$17 \overline{) 4}$

$32 \overline{) 5}$

