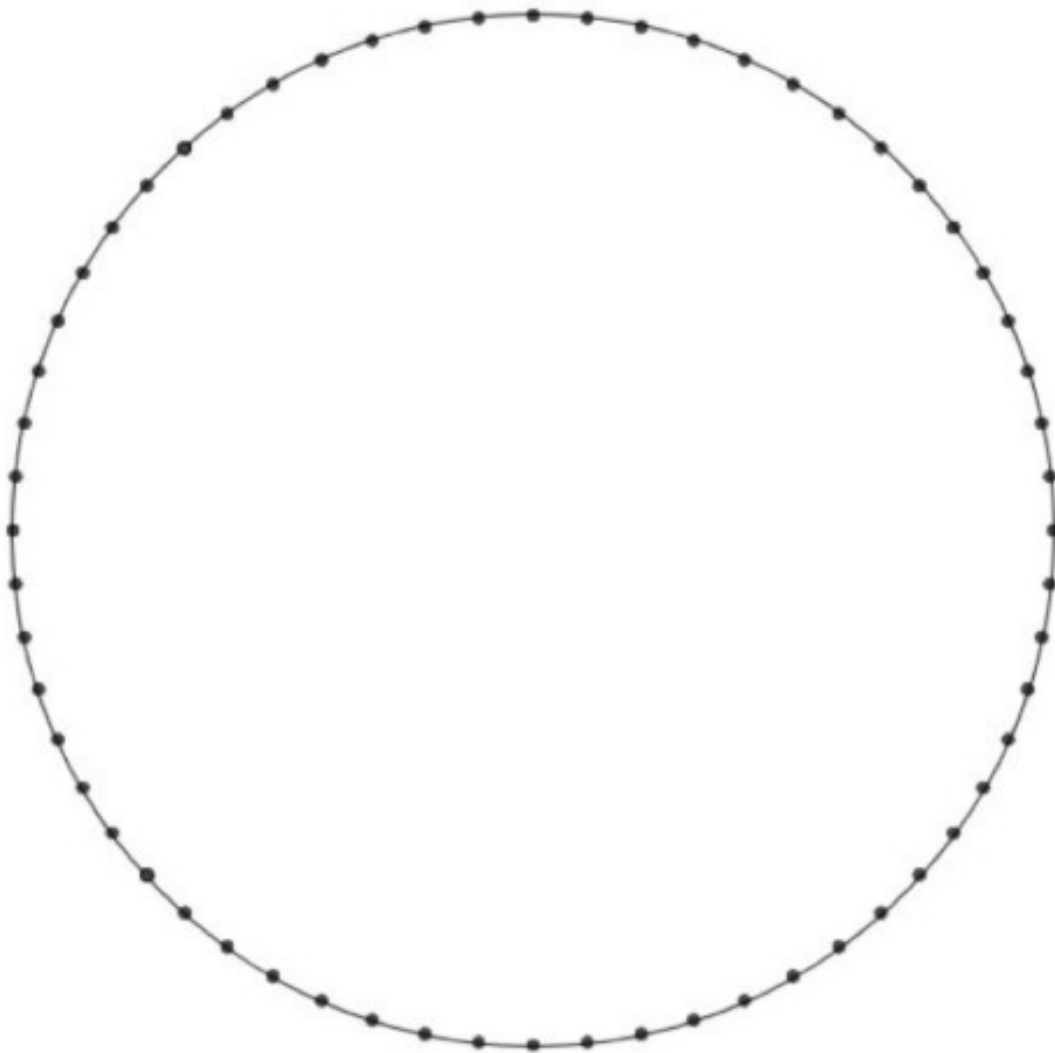


Segueix les instruccions i aconseguiràs diferents figures

Comença numerant tots els punts de la figura de manera consecutiva. Des de l'1 fins al 60 i....prepara un regle



Uneix cada nombre amb el resultat de multiplicar-ho per 2

I si el resultat és més de 60.. com es fa?




Com per exemple el $32 \times 2 = 64$

Com per exemple $53 \times 2 = 106$

Hem de restar 60 i el resultat serà el punt amb que l'haurèm d'unir.

$106 - 60 = 46$

Unirem el 53 amb el 46



Ho has aconseguit?

Pots descobrir, si vols la figura que surt si multipliques per 3, o per 4...etc

També surten dibuixos si sumes la mateixa quantitat?

Ja ens direu!!

Anima't a enviar fotos de les figures que t'han sortit.