

Nom _____

Data _____

Recorda

- Una **divisió** és un repartiment en parts iguals.
- Els termes d'una divisió són: **dividend**, **divisor**, **quocient** i **residu**.

1 Fes grups de 5 i contesta.

- Quants gossos hi ha en total?

- Quants gossos hi ha a cada grup?

- Quants grups has format?

- Quants gossos sobren?

■ Ara, escriu el repartiment que has fet en forma de divisió i completa.


$$D \text{ _____ } \triangleright 11 \mid \square \triangleleft d \text{ _____}$$

$$r \text{ _____ } \triangleright \square \square \triangleleft q \text{ _____}$$

2 Dibuixa els repartiments i calcula.

Reparteix en parts iguals
15 bolígrafs en 3 estoigs.

Divideix 15 entre _____ \triangleright _____ : 3 = _____



Reparteix en parts iguals
17 flors en 4 gerros.

Divideix _____ entre _____ \triangleright _____ : _____ = _____



- Quantes flors et sobren? _____

Nom _____ Data _____


RecordaUna **divisió** és **exacta** si el **residu** és zero.**1** Calcula aquestes divisions exactes.

$54 \overline{) 9}$	$24 \overline{) 4}$	$18 \overline{) 2}$	$72 \overline{) 8}$
$27 \overline{) 3}$	$14 \overline{) 7}$	$35 \overline{) 5}$	$48 \overline{) 6}$

■ Per què aquestes divisions són exactes? Contesta.


2 Llegeix, resol i escriu la solució.

En Cesc fica 36 plàtans en 6 bosses, i posa el mateix nombre de plàtans a cada bossa. Quants plàtans posa a cada bossa?



Solució: _____

La Laia desa 24 mocadors en 3 calaixos, i posa el mateix nombre de mocadors a cada calaix. Quants mocadors posa a cada calaix?



Solució: _____

Nom _____ Data _____

RecordaUna **divisió** és **entera** si el **residu** és **diferent de zero**.

- 1**
- Calcula les divisions següents i encercla les divisions enteres.

$51 \overline{)7}$

$28 \overline{)3}$

$30 \overline{)5}$

$19 \overline{)9}$

$36 \overline{)4}$

$65 \overline{)8}$

$24 \overline{)6}$

$15 \overline{)2}$

-
- En què es diferencia una divisió entera d'una divisió exacta? Explica-ho.

- 2**
- Llegeix, resol i escriu la solució.

L'Eva reparteix en parts iguals 21 llibres en 7 prestatgeries. Quants llibres posa a cada prestatgeria?

Solució: _____

En Jan reparteix en parts iguals 60 nous entre 7 amics. Quantes nous dona a cadascun? Quantes li'n sobren?

Solució: _____
