

Nom: .....

Data: .....



## Cicle Mitjà

### Petits textos de comprensió lectora

Jornada 18 (Última jornada jugada)				<< jornada anterior		
Data	Hora	Equip Local	Equip Visitant	Resultat		
28/05/2011	09:30	C.B. TONA 2	C.B. LA ROCA	72	22	[+]
28/05/2011	11:00	C.N. SABADELL 2	C.B. MATADEPERA B	75	53	[+]
28/05/2011	10:30	CREU ALTA SABADELL - 2	U.E.B. MARTORELLES	72	30	[+]
28/05/2011	11:00	AEC COLLBLANC-TORRASSA BLAU	C.B. OPALO CERDANYOLA C	63	56	[+]

Classificació a la jornada								
	Equip	J	G	P	NP	TF	TC	Punts
1	C.B. OPALO CERDANYOLA C	16	13	3	0	994	599	29
2	C.N. SABADELL 2	16	12	4	0	940	671	28
3	CREU ALTA SABADELL - 2	16	11	5	0	938	758	27
4	C.B. TONA 2	16	11	5	0	849	636	27
5	AEC COLLBLANC-TORRASSA BLAU	16	10	6	0	795	497	26
6	A.E.E. REGINA CARMELI BLANC	16	5	11	0	655	864	21
7	C.B. MATADEPERA B	16	5	11	0	680	879	21
8	U.E.B. MARTORELLES	16	4	12	0	670	905	20
9	C.B. LA ROCA	16	1	15	0	307	1019	17

### Preguntes:

1. Quin dia es va jugar l'última jornada de lliga?
2. Quin equip va aconseguir la diferència més gran de punts en l'última jornada de lliga? I quins equips van acabar l'últim partit amb una diferència més ajustada de punts?
3. Quin és l'equip que ha fet més punts a la lliga? Quants punts ha fet?
4. Quin equip ha rebut menys punts a la lliga?
5. A quina hora va jugar l'últim partit el primer classificat i l'últim?

Llegenda: J = Partits jugats, G = Guanyats, P = Perduts, TF = tirs a favors, TC = Tirs en contra.

Nom: .....

Data: .....



## Cicle Mitjà

### Petits textos de comprensió lectora



La imatge mostrada pertany al teletext d'una televisió pública. Aquest és un instrument **que** serveix per consultar informació de molts tipus. L'eina que fem servir per moure'ns i consultar la informació és el comandament del televisor.

### Preguntes

1. Què haig de fer si vull saber informació sobre el futbol?
2. Quin descompte et fan si "truques ara" al telèfon 902.123.077? Creus que és veritat?
3. Quins números haig de premer si vull saber informació sobre els ral·lis?
4. Saps perquè el futbol, bàsquet, formula 1 i el "minut a minut" tenen colors diferents que la resta de pàgines a consultar? Veus alguna relació entre aquests colors i els colors del comandament?
5. Quina pàgina web puc consultar per trobar més informació?

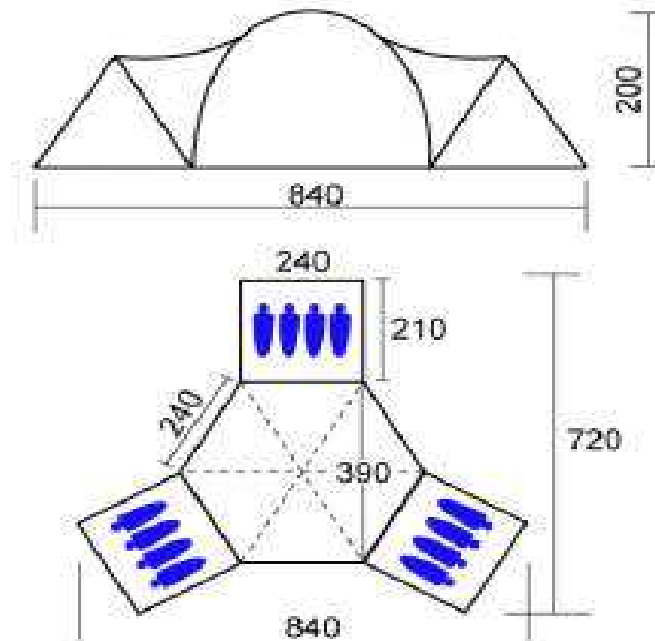
Esports		www.elsesports.cat
Futbol.....	201	LINEA DIRECTA MOTOS
Futbol-Flash....	222	20% de descompte
Bàsquet.....	230	al contractar-lo
Handbol.....	240	per Internet
Hoquei patins..	245	TRUCA ARA !!
Waterpolo....	250-51	902 123 077
Rugbi.....	252	Pàgina..... 598
Voleibol.....	253	
Hoquei herba..	255-56	
Tenis taula....	257	Hoquei gel..... 263
Futbol sala..	258-259	Ral·lis..... 264
Korfbal.....	268	Retransmissions.. 266
Fórmula 1.....	261	Minut a minut
Motociclisme..	262	Barça/Espanya1.. 270
Notícies esportives..... 150		

Nom: .....

Data: .....

## Cicle Mitjà

### Petits textos de comprensió lectora



*Les dades que veiem en aquesta imatge pertanyen a la informació que hem trobat quan hem anat a comprar una tenda de campanya i estan en Cm.*

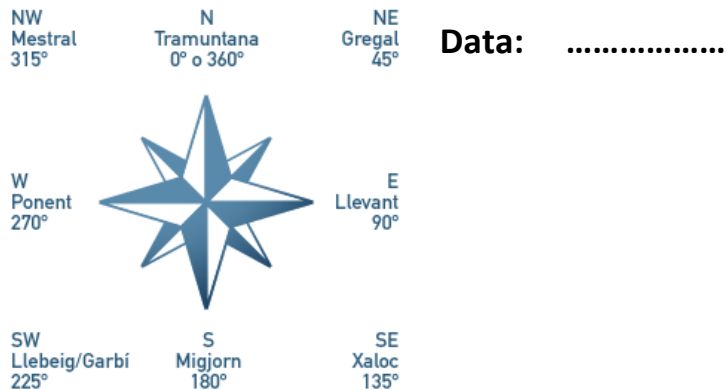
## Preguntes

1. Quina amplada i quina llargada té en total la tenda de campanya?
2. Quantes persones hi caben en total? Quantes persones caben a cada habitacle?
3. Quina alçada màxima pot tenir una persona que vulgui dormir a una de les 3 habitacions quan estigui estirat sense encongir-se?
4. Si, a la parcel·la on vull instal·lar la tenda per passar la nit, hi ha la branca d'un arbre a 180 cm del terra, puc muntar la tenda?
5. L'espai que hi ha entre cada habitació queda cobert? Què hi podem fer?

Nom: .....

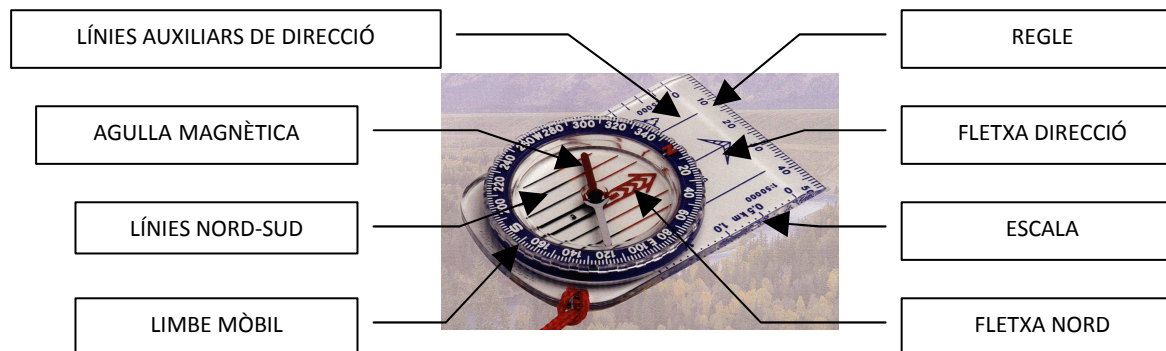
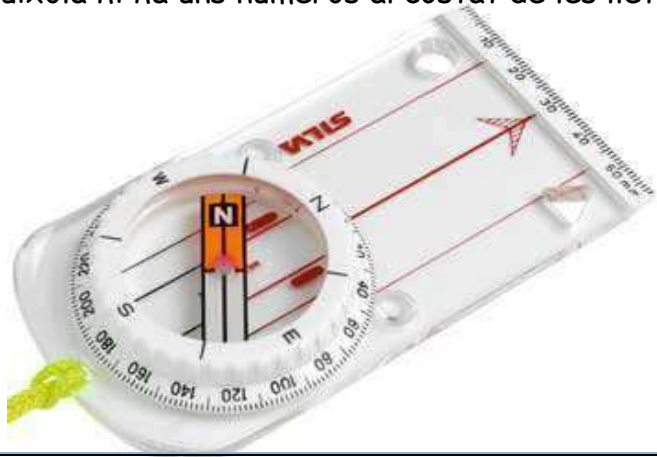
## Cicle Mitjà

### Petits textos de comprensió lectora



La brúixola o búixola és un aparell de mesura i de navegació que serveix per determinar qualsevol direcció de la superfície terrestre per mitjà d'una agulla imantada lliure que sempre s'alinea amb el camp magnètic terrestre. A la brúixola hi ha marcats els punts cardinals: Nord, Sud, Est i Oest. Tots aquests imants directors són units a una rosa dels vents que gira conjuntament amb ells (Nord, Sud, Est i Oest.). Tenint en compte que la brúixola ha d'estar plana per funcionar... respon a les preguntes següents:

1. Com podem saber quant mesura la nostra sabata?
2. L'agulla magnètica ha d'assenyalar el nord. Hi ha alguna de les imatges on estigui ben posada?
3. Segons on senyala l'agulla magnètica a la brúixola de l'esquerra i prenent com a referència les lletres de la roda "N (nord), W (oest), E (est), S (sud)". Com és diria el vent que bufes des d'aquesta direcció?
4. A la brúixola hi ha uns números al costat de les lletres "N, W, S, E". Quins són? Coincideix amb els números i la lletra de la rosa dels vents?







Nom: .....

Data: .....



## Cicle Mitjà

### Petits textos de comprensió lectora

#### Inscripció a la cursa.

1. A quin poble hi ha la sortida de la plaça Santa Maria? A quina hora?
2. La inscripció és gratuïta? Que et donen per participar-hi?
3. A quin número haig de trucar per tenir més informació.
4. Quan és fan aquestes curses?
5. Hi ha premis a totes les categories?
6. Com podem tornar a Camprodon?
7. De quines modalitats d'esports es fan les curses?

## CURSA DE CAMPRODON-MOLLÓ-PRATS DE MOLLÓ


LA CURSA DE L'ESTIU. CADA ESTIU VINE A **CÓRRER!**

**SORTIDA: A LES 10H. DE LA PLAÇA SANTA MARIA.**  
**INSCRIPCIÓ: 10€ (Samarreta de la cursa. Record. Aperitiu i Trasllet amb bus).**

PREMIS:  
1er- 150€ Categories Masculina i Femenina  
2on- 100€ Categories Masculina i Femenina  
3er- 50€ Categories Masculina i Femenina  
I Trofeus per les categories.

ARRIBADA A PRATS DE MOLLÓ I ENTREGA DELS PREMIS I APERITIU PELS PARTICIPANTS I AUTOBÚS PER TORNAR.

PER MÉS INFORMACIÓ: Sr. Roig **9371830014**



ORGANITZEN:



AJUNTAMENT DE  
PRATS DE MOLLÓ



AJUNTAMENT DE  
CAMPRODON



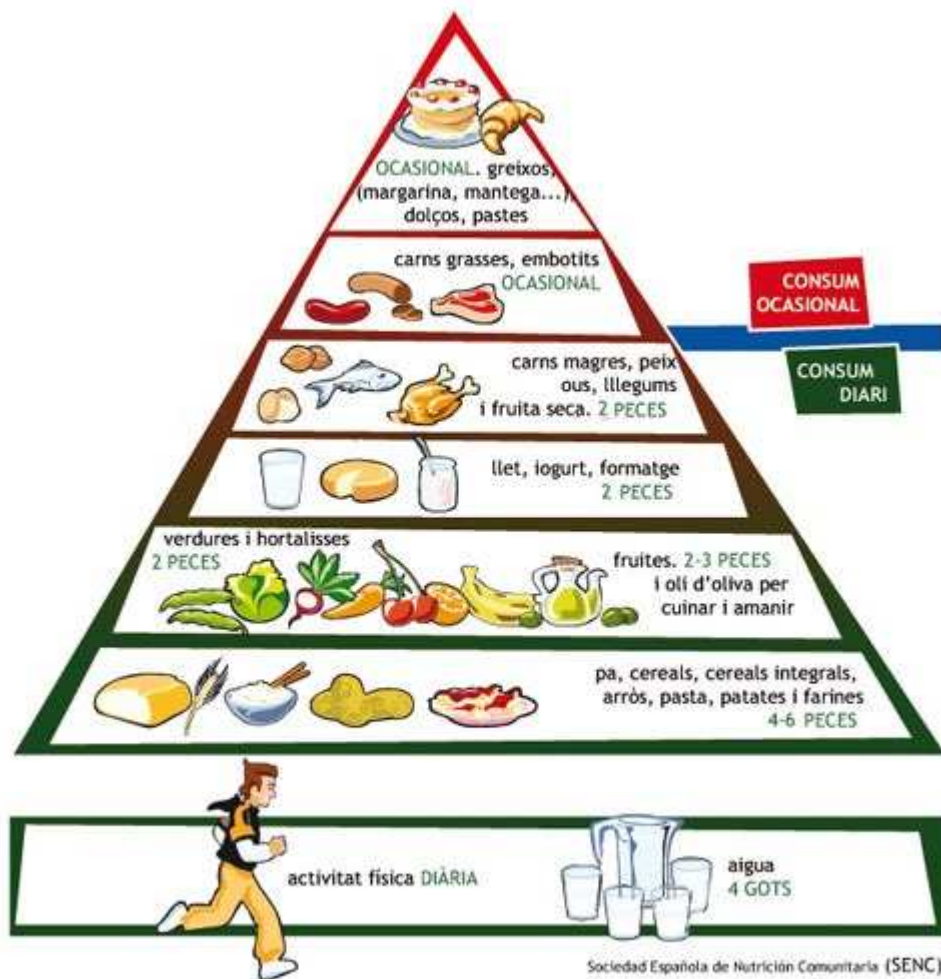
AJUNTAMENT DE  
MOLLÓ

Nom: .....

Data: .....

## Cicle Mitjà

### Petits textos de comprensió lectora



## Com hem d'alimentar-nos?

1. Quins aliments només podem menjar ocasionalment? És a dir, de tant en tant?
2. Si una peça és de la mida de la mà pels aliments i un got si és líquid, quants gots de llet podem beure al dia?
3. Quants trossets de pa hem de menjar al dia?
4. Cada quant de temps hem de fer esport o activitat física?
5. Quanta aigua hem de veure cada dia?

Nom: .....

Data: .....



## Cicle Mitjà

### Petits textos de comprensió lectora

#### ACTIVITATS DIRIGIDES

1. Quins dies de la setmana no hi ha pilates?
2. Quan són les jornades de portes obertes?
3. Quins dies i a quina hora es fan les activitats de gimnàstica postural? Qui fa aquestes activitats?
4. A quina hora s'acaben les activitats?
5. Al matí hi ha activitats?



AGRUPACIÓ ESPORTIVA FORNELLS DE LA SELVA

III Jornades de portes obertes  
Dies: 10, 11, 12, 13 Gener

No t'ho pensis **MÉS!**  
Passa a l'acció.



HORARIS	DILLUNS	DIMARTS	DIMECRES	DIJOUS
13:15 / 14:15		Gim Postural Rosa		Gim Postural Rosa
	Pilates Maite	Pilates Maite	Pilates Maite	Pilates Maite
15:30 / 16:30	GAC / TAB Susanna		X training / TBC Susanna(rotació)	
19:00 / 20:00	Pilates Maite		Pilates Maite	
20:00 / 21:00	Aero-tono Rosa	GAC / TAB Susanna i Magda	Step-tono Rosa	X training Susanna i Magda
21:00 / 22:00	Gim Global	Cardio Susanna i	TBC	GAC / TAB Susanna i



Nom: .....

Data: .....



## Cicle Mitjà

### Petits textos de comprensió lectora

#### PIRATAS DEL CARIBE: EN MAREAS MISTERIOSAS (ANALÓGICA)



Jack Sparrow surt a la recerca de la llegendaria Font de la Joventut. En el seu camí es creua amb l'Angèlica, una enigmàtica pirata amb qui comparteix passat.

Web Oficial:

**Sala:** 3

**Duració:** 141 min.

**Nacionalidad:** USA

**Director:** Rob Marshall

**Intèrpretes:** Johnny Deep, Geoffrey Rush, Penélope Cruz, Ian McShane.

**Gènere:** Aventura

**Clasificación:** No Recomendada per menors de 7 anys

COMPRA LES TEVES ENTRADES  
Prement sobre l'horari



Com es titula la pel·lícula?

---

Qui és el protagonista de la pel·lícula?

---

Què busca en Jack Sparrow?

---

Amb qui es trobarà a la seva aventura?

---

A quina sala he d'anar per veure aquesta pel·lícula?

---

Quant durarà el film?

---

Pertany al gènere de la comèdia?

---

Podré veure la pel·lícula si tinc 9 anys?

---

Nom: .....

Data: .....



## Cicle Mitjà

### Petits textos de comprensió lectora



1. Quina dia és avui?

\_\_\_\_\_

2. Quina serà la temperatura mínima a Barcelona?

\_\_\_\_\_

3. Quina serà la temperatura màxima a Ripoll?

\_\_\_\_\_

4. Entre quins valors es mourà la temperatura a Manresa?

\_\_\_\_\_

5. Quines poblacions es troben als Pirineus?

\_\_\_\_\_

Nom: .....

Data: .....



## Cicle Mitjà

### Petits textos de comprensió lectora



1. Quin és el preu del menú del dia?

\_\_\_\_\_

2. Per què hi ha tres primers, tres segons i tres postres?

\_\_\_\_\_

3. Tria el menú que menjaràs avui?

\_\_\_\_\_

\_\_\_\_\_

\_\_\_\_\_

4. El preu del menú inclou el pa i la beguda?

\_\_\_\_\_

5. Què és una macedònia?

\_\_\_\_\_



Nom: .....

Data: .....

## Cicle Mitjà

### Petits textos de comprensió lectora



Escriu a cada imatge el número que li correspon:

1. El nen es troba una flor pansida al mig del camí. Es pregunta què li està passant. Serà que té molta calor? I si li porto aigua?
2. Després de molt caminar, troba un riu i agafa aigua per la flor. La rega i espera a veure què passa. La flor reviu. El nen, cansat, s'estira a dormir a prop seu.
3. El nen mira per sobre la tanca de casa seva amb molt d'interès. Té moltes ganes de sortir a conèixer el món. I si vaig a fer un tomb?



Quin penses que pot ser el títol del conte?

- a) El nen perdut al desert.
- b) La rosa del Tibet.
- c) La flor més gran del món.

**Posa el títol al youtube i podràs veure la pel·lícula del conte.**



Nom: .....

Data: .....



## Cicle Mitjà

### Petits textos de comprensió lectora

**Top Pizza**

**100% Artesanal**

**A domicili 2x1**

Tipus	Preu	Ingredients
PETITA	11,60	<b>Alemanya:</b> massa fresca, salsa de carbonara, 100% doble de mozzarella, mostassa, bacó i frankfurt.
MITJANA	15,45	<b>Vegetal:</b> massa fresca, salsa de tomàquet, 100% mozzarella, olives negres, xampinyons, ceba, pebrot verd i vermell.
FAMILIAR	22,35	<b>Mexicana:</b> massa fresca, salsa mexicana, vedella, pebrot vermell, ceba, olives negres i extra de formatge.
		<b>4 estacions:</b> massa fresca, salsa de tomàquet, 100% mozzarella, tonyina, olives negres, pebrot verd xampinyons i pemil dolç.
		<b>Carbonara:</b> massa fresca, salsa carbonara, 100% mozzarella, xampinyons, doble bacó, ceba o extra de formatge.
		<b>Bonapizza:</b> massa fresca, salsa de tomàquet, 100% mozzarella, pebrot vermell, pemil, bacó, cam, xampinyons o ceba.
		<b>Tropical Chic:</b> massa fresca, doble salsa barbacoa, 100% mozzarella, bacó, pinya i pollastre.
		<b>Barbacoa Kebab:</b> massa fresca, salsa barbacoa, 100% mozzarella, pollastre, tomàquet natural, ceba i formatge de cabra.
		<b>Mar i Muntanya:</b> massa fresca, salsa de tomàquet, 100% mozzarella, pollastre, ceba, gambes i tonyina amb all i julivert.

\*NOMÉS DE DILLUNS A DIJOUS.

L'Oriol fa 10 anys i ha decidit fer una festa a la pizzeria del barri.

1. Quina pizza escolliries tu? \_\_\_\_\_  
Perquè? \_\_\_\_\_

2. Quins ingredients no t'agraden?  
\_\_\_\_\_

3. A l'Oriol li agrada molt formatge a la pizza.  
Quines pizzas pot escollir?  
\_\_\_\_\_  
\_\_\_\_\_

4. Els noms de les pizzas tenen a veure amb els ingredients que porten. Com anomenaries una pizza que portés aquests ingredients: poma, mango i pinya?  
\_\_\_\_\_

5. Què creus que vol dir "100% massa fresca"? \_\_\_\_\_



Nom: .....

Data: .....



## Cicle Mitjà

### Petits textos de comprensió lectora

1. Què anuncia aquest cartell?
  - a) Una exposició de quadres de cavalls.
  - b) Una fira d'atraccions per nens.
  - c) Una fira de cavalls pels nens.
  - d) Una fira de flors.

1. A quina època de l'any es celebrà aquesta festa?
  - a) Tardor.
  - b) Hivern.
  - c) Primavera.
  - d) Estiu.

2. Quines activitats creus que es faran en aquesta fira?

---

---



4. Quin tipus d'animal és un cavall?
  - a) Mamífers.
  - b) Rèptils.
  - c) Aus.
  - d) Amfibis.

5. Per què?

---

---

6. Dibuixa el cartell de la fira que t'agradaria organitzar? (Pensa bé el text que escriuràs)

Nom: .....

Data: .....



## Cicle Mitjà

### Petits textos de comprensió lectora



Jennifer Yuh  
Animació

	Sessió matí	Sessió tarda	Sessió golfa
23/06 dijous		16.10 18.10 20.10 22.20	
24/06 divendres		16.10 18.10 20.10 22.20	00.30
25/06 dissabte		16.10 18.10 20.10 22.20	00.30
26/06 diumenge	11.50	16.10 18.10 20.10 22.20	
27/06 dilluns		16.10 18.10 20.10 22.20	
28/06 dimarts		16.10 18.10 20.10 22.20	

93

**Preus:**

Nens menors de 12 anys 5€  
Adults 7,50€  
Dia de l'espectador 4,50€  
(dimarts)

1. A quins cinemes podem anar a veure aquesta pel·lícula?

---

2. Quanta estona dura aquesta pel·lícula?

- a) 1 hora
- b) 1 hora i 30 minuts
- c) 33 minuts.
- d) 1 hora i 33 minuts

3. Per què la sessió de nit es diu "sessió golfa"?

---

4. Avui vull anar al cinema i la mare m'ha dit que haig de ser a casa a les 8. Quina sessió hauré de triar?

---

Nom: .....

Data: .....



## Cicle Mitjà

### Petits textos de comprensió lectora

El proper 31 d'octubre hi haurà una cursa al Pont de Vilomara i Rocafort.

1. Si volguessis participar-hi, què hauries de fer?

---

---

2. Qui organitza i patrocina aquesta cursa?

Organitzador: \_\_\_\_\_

Patrocinador: \_\_\_\_\_

**V CURSA EL PONT DE VILOMARA I ROCAFORT**  
**MEMORIAL ALCALDE EVARISTO**  
**31 D'OCTUBRE DE 2010**

**INSCRIPCIONS:**  
[WWW.ATLETISME.COM](http://WWW.ATLETISME.COM)

**INFORMACIÓ:**  
[WWW.ELPONT.CAT/CURSA](http://WWW.ELPONT.CAT/CURSA)

**ORGANITZA:**  
Ajuntament  
El Pont de Vilomara i Rocafort

**PATROCINADOR OFICIAL**  
**CURSES DE PROMOCIÓ:**  
**MANRESA**

**12€**

**Cursa Solidària:**  
2€ de cada inscripció  
aniran a l'Associació  
d'Amics Unesco  
Manresa  
Projecte YEMESSOA  
(CAMERUN)

3. Si 320 persones s'han inscrit en aquesta cursa, quants diners s'obtindran en total?

- a) 23 €
- b) 1324 €
- c) 3.840 €
- d) 1.583.320 €

Calcula-ho aquí:

Calcula-ho aquí:

4. Si 2€ de cada inscripció es donen a un projecte solidari, quants diners es recolliran per la donació? \_\_\_\_\_

Nom: .....

Data: .....

## Cicle Mitjà

### *Petits* textos de comprensió lectora



#### *Punts de llibre amb feltre*

*Agafa un tros de feltre i retalla'n dos rectangles.*

*Després decora un dels rectangles cosint-hi botons i d'altres elements de decoració.*

*Per últim, ja només queda unir els dos rectangles entre ells. Pots fer-ho cosint les vores o enganxant-ho amb cola.*

1. Quin material necessites per fer aquest punt de llibre?

---

2. Què passaria si uníssim els dos rectangles abans de cosir-hi les decoracions?

---

3. Quins elements de decoració li posaries al teu punt de llibre?

---



Nom: .....

Data: .....

## Cicle Mitjà

### Petits textos de comprensió lectora

#### OBSERVO I CONTESTO:

1. Quina és la marca d'aquest producte?
2. Sabem que està fabricat per COVAP, però, què signifiquen aquestes sigles?
3. Quina és la data de caducitat d'aquest producte?
4. Quina capacitat té aquest recipient?
5. Quins són els seus dos principals components?
6. Quines vitamines conté?
7. Si desitjo fer una consulta, a quin telèfon trucaré?





Nom: .....

Data: .....



## Cicle Mitjà

### Petits textos de comprensió lectora



1. Quin dia se celebra el sorteig?

2. El bitllet va costar:

3 €    6 €    10 €    20 €

3. El bitllet és de:

Loteria – Cupó de la ONCE - Rifa d'una panera

4. A quina ciutat es va comprar el bitllet?

5. El premi especial és de:

12.000 €    600.000 €    2.940.000 €    60 €

Nom: .....

Data: .....



## Cicle Mitjà

### Petits textos de comprensió lectora

#### NENA

- Samarretes de diferents colors **7,20 €**
- Pantaló llarg de cotó **12 €**
- Camisa de màniga curta **6,50 €**
- Pantaló texà llarg **13,90 €**

#### NEN

- Samarretes de màniga curta de diferents colors **7,20 €**
- Pantaló curt de cotó **12 €**
- Banyador **10,20 €**

#### NENA/NEN

- Mocador **3,90 €**
- Barret **8 €**
- Xancletes **9,90 €**

#### OBSERVO I CONTESTO:

La Clara i l'Eugeni van a uns magatzems a comprar-se roba. La Clara, es vol comprar una samarreta de color vermell, un pantaló llarg de cotó i unes xancletes. L' Eugeni vol comprar-se una samarreta de màniga curta, un banyador i unes xancletes. Porten 80 € per comprar-se roba.

Quants diners gastarà la Clara?

Quants diners gastarà l' Eugeni?

Els hi sobran diners? Quants?



Nom: .....

Data: .....



## Cicle Mitjà

### *Petits textos de comprensió lectora*

## HORÒSCOPS

**ÀRIES** (21/03-20/04) Heu d'aprendre a administrar millor el vostre temps: d'aquesta manera us podreu treure del damunt la feina endarrerida i també dedicar-vos una estona per a vosaltres. D'acord?

**BALANÇA** (24/09-23/10) Avui podríeu aconseguir guanys en feines relacionades amb l'intercanvi o amb els transports. Us sentireu més competitiu i lluitador que mai. Exploreu el vostre camp social i mental.

**TAURE** (21/04-20/05) Podríeu tenir problemes relacionats amb les qüestions materials, i potser manteniu un enfrontament amb la vostra família. Tranquil·litzeu-vos i intenteu buscar solucions a tot.

**ESCORPIÓ** (24/10-22/11) Tot i que la vostra situació financera pugui millorar, passeu per un mal moment econòmic i això provoca desavinences amb la vostra parella a causa de criteris oposats. No sempre teniu raó.

**BESSONS** (21/05-21/06) Avui el dia es presenta força complicat. Esteu molt intransigents i voleu tenir la raó en tot. Mireu de relaxar-vos i penseu que els altres també poden dir-hi la seva.

**SAGITARI** (23/11-21/12) Sentireu una lluita interna bastant forta. Per una banda estimeu la seguretat i, per l'altra, voleu viure aventures i realitzar somnis. Però us falta voluntat per canviar. Reflexioneu-hi.

**CRANC** (22/06-22/07) Teniu uns dies molt inquietos i això us provoca alteracions gens habituals en el vostre comportament. Si ho penseu detingudament veureu que tot us ha anat força bé aquests últims dies. Oi?

**CAPRICORN** (22/12-20/01) El malestar que avui sentiu es pot fer insuportable. Potser heu estat massa tensos o bé no us heu procurat una alimentació adequada. Cuideu-vos i intenteu canviar d'hàbits.

Nom: .....

Data: .....



## Cicle Mitjà

### **Petits textos de comprensió lectora**

**LLEÓ** (23/07-23/08) Avui tindreu un rebombori d'emocions i sentiments, i seria bo que els deixeu sortir a fora. Intenteu obrir-vos una mica més: no passa res perquè expresseu el que sentiu.

**AQUARI** (21/01-18/02) Avui us en espera una de freda i una de calenta. Passeu per moments de cansament i tendiu a la inestabilitat que us provoca la incertesa. Però també sou molt forts per afrontar els mals moments.

**VERGE** (24/08-23/09) La vostra vida social s'estancarà temporalment. Esteu massa rígids i demostreu massa fredor. Heu deixat les emocions més tendres a un segon pla.

**PEIXOS** (19/02-20/03) Si avui teníeu previst reunir-vos per parlar de negocis o d'algun tema familiar serà millor que ho deixeu per a un altre dia. No estareu gaire àgils mentalment i podríeu perdre credibilitat.

**Per Víctor Catarcos**

#### **OBSERVO I CONTESTO:**

1. Si he nascut el 12 de desembre, a quin signe del zodíac pertanyo?
2. Qui són del signe Taure?
3. Qui és l' autor de les previsions de l' horòscop?
4. Quin signe acaba el 23 d' octubre?

Nom: .....

Data: .....



## Cicle Mitjà

### *Petits* textos de comprensió lectora

#### OBSERVO I CONTESTO:

Llegeix atentament les preguntes del joc i respon-les.

Controla el temps que tardes.

1. Falta una de les cinc vocals. Quina és?
2. Quin número es repeteix tres vegades?
3. Quines tres lletres veus dues vegades?
4. Dos números apareixen dues vegades. Quins són?

Temps: \_\_\_\_\_ Encerts: \_\_\_\_\_





Nom: .....

Data:

.....

## Cicle Mitjà

### Petits textos de comprensió lectora

#### ELS BARRUFETS

Omple les bafarades i inventa't els diàlegs:



Nom: .....

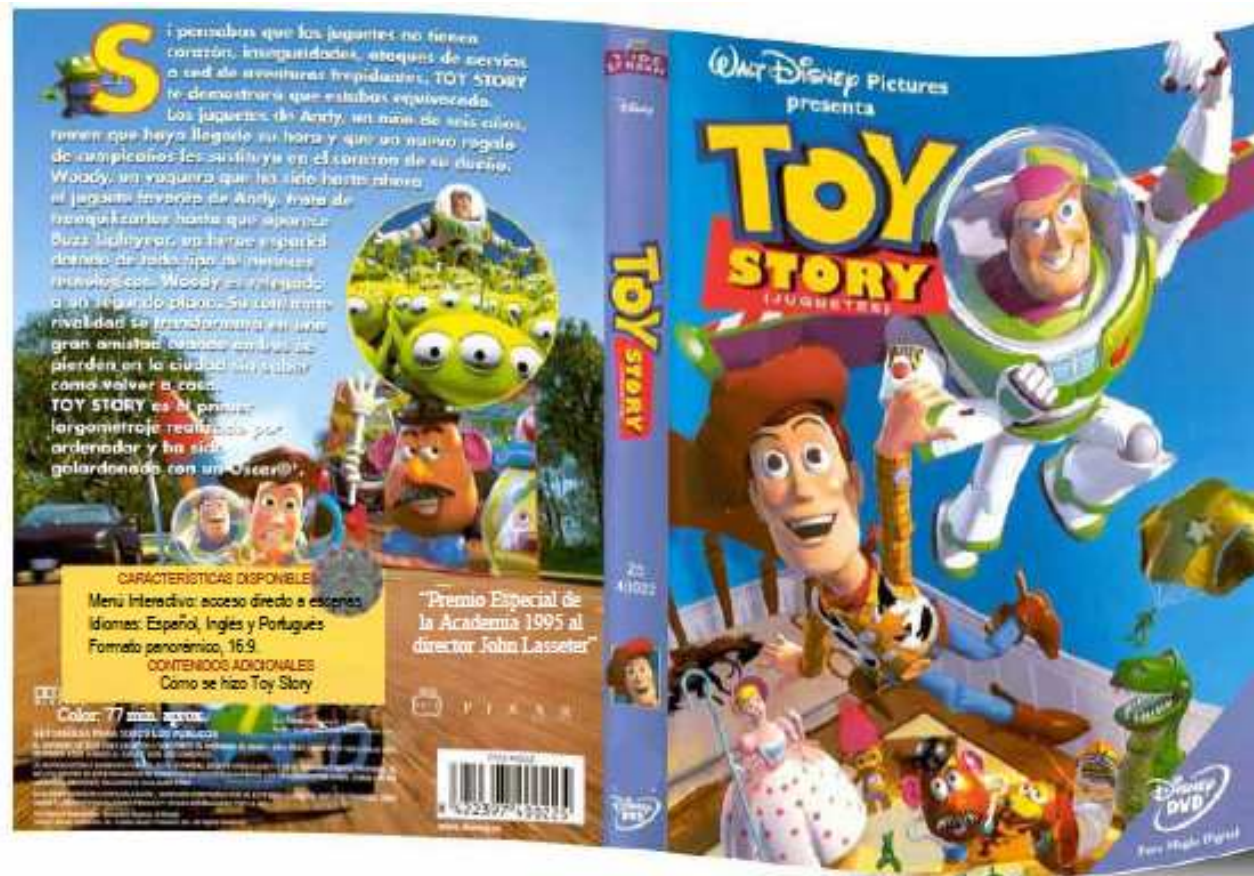
Data: .....

## Cicle Mitjà

### Petits textos de comprensió lectora

#### OBSERVO I CONTESTO:

1. Quin és el títol de la pel·lícula?
2. Quins premis ha rebut?
3. Aproximadament , quant creus que dura?
4. En quants idiomes s'ha traduït?
5. En quin format es presenta?



Nom: .....

Data: .....



## Cicle Mitjà

### Petits textos de comprensió lectora

#### TV3

06:00 NOTÍCIES 3/24  
08.00 ELS MATINS  
13.20 BOCAMOLL  
14.00 TELENOTÍCIES COMARQUES  
14.20 EL MEDI AMBIENT  
14:30 TELENOTÍCIES MIGDIA  
15.40 CUINES  
15.50 LA RIERA  
16.40 DIVENDRES  
18.35 LES GERMANES MCLEOD  
20.15 ESPORT CLUB  
20.35 ESPAI TERRA  
21.00 TN VESPRE+ EL TEMPS  
21.50 HAWTHORNE  
23.35 SENSE FICCIÓ  
00.50 ELS MILLORS DIRECTORS DE HOLLYWOOD  
01.45 JAZZ A L'ESTUDI  
03.45 DIVENDRES  
05.30 NOTÍCIES 3/24

#### CANAL 33

08.00 LA SABA I EL SECRET DEL RINOCERONT  
09.00 EL REGNE DE WALLIS  
10.00 UN TAST PEL MÓN  
10.25 CUINER SOTA PRESSIÓ  
10.50 RETALLS DE MÓN  
11.00 EL DOCUMENTAL  
12.00 GUIES DE VIATGES  
12.50 BON VIATGE  
13.00 BATECS DE NATURA  
13.15 EXTREMADURA SALVATGE  
13.45 VIATGES PER LA NATURA  
14.30 PARANYS DE LA NATURA  
15.10 LA SABA I EL SECRET DEL RINOCERONT  
16.00 EL REGNE DE WALLIS  
17.00 NYDIA  
17.25 PREMIS NACIONALS DE CULTURA  
17.30 COMPTE ENRERE, DE 5 EN 5  
18.00 VALOR AFEGIT  
18.25 GENERACIÓ DIGITAL  
18.50 L'ÀNIMA DEL 33  
19.00 GUIES DE VIATGES  
19.50 BON VIATGE  
20.05 UN TAST PEL MÓN

#### OBSERVO I CONTESTO:

1. Si vols veure “El regne de Wallis”, a quina hora hauràs d'encendre la televisió? Quin canal hauràs de sintonitzar?
2. Si connecto la televisió a les 13:20h a TV3, quin programa veuré?
3. Quants programes de televisió fan des de les 18:00h fins a les 22:00h a TV3?
4. Quants minuts dura el programa “Extremadura salvatge” del Canal 33?
5. Hi ha algun programa d'esports? I de cuina? Com es diuen?

Nom: .....

Data: .....

## Cicle Mitjà

### Petits textos de comprensió lectora



1. Quin tipus de carnet és aquest?
1. Com es diu la propietària d'aquest carnet?
2. Quin número de DNI o de carnet de conduir té aquesta persona?
3. Aquesta persona està habilitada per conduir una motocicleta?
4. Pot conduir legalment camions?
5. Quan va ser tramitat aquest permís?
6. Fins quina data té validesa?
7. Quins elements del carnet identifiquen la seva propietària?
8. En quin territori permet conduir el carnet de la fotografia?

Nom: .....

Data: .....



## Cicle Mitjà

### Petits textos de comprensió lectora



1. De què és aquesta invitació?
2. Com es diuen els nuvis?
3. On es casen?
4. Quin dia es casen?
5. A quina hora serà la cerimònia?
6. És un casament civil o per l'església?
7. Hi haurà convit?
8. Demanen confirmar l'assistència o no?
9. Si vols fer més... tradueix aquesta invitació al català.



Nom: .....

Data: .....



## Cicle Mitjà

### Petits textos de comprensió lectora

Calendari d'obertura del Parc 2011  
del 21 de maig a l'11 setembre



Horari d'obertura del parc  
de 10:00 a 19:00h

Preus			
Dia sencer		Migdia a partir de les 14:00h.	
Adult +1,40m. (alçada)	20,50€	Adult +1,40m. (alçada)	16,50€
Nen de 1m a 1.40m. (alçada)	15,00€	Nen de 1m a 1.40m. (alçada)	13,00€
Nen -1,00m. (alçada)	Gratuït	Nen -1,00m. (alçada)	Gratuït
+65 anys	15,00€	+65 anys	13,00€
Carnet Jove	18,00€	Carnet Jove	18,00€
Carnet de temporada			
Adult +1,40m. (alçada)	90,00€	Nen de 1m a 1.40m. (alçada)	70,00€

#### Ofertes especials per a grups

Només amb reserva prèvia. Mínim de 25 persones. Informeu-vos al 93 751 45 53  
Oferta no acumulable amb altres promocions

#### Oferta escolar 2011

Oferta escolar fins el 23 de juny de 2011 amb reserva prèvia.

Per a més informació truqueu al 93 751 45 53 o demaneu informació a [info@illafantasia.com](mailto:info@illafantasia.com)

VOLEM ANAR AL PARC AQUÀTIC ILLA FANTASIA:

1. Quina és l'adreça del parc?
2. Està obert tot l'any? Què t'ho fa pensar?
3. Quin és l'horari d'obertura?
4. Si hi vull anar a celebrar el meu aniversari, que és el 20 de maig, estarà obert?
5. Hi vull anar amb el meu pare, la meua mare, el meu germà gran que té 12 anys i mesura 1'5m, i la meua germana petita que té 5 anys i mesura 1,2m. Jo tinc 11 anys i faig 1,5m d'alçada. Quin import haurem de pagar per les entrades?
6. El meu àvi també vol venir, ell té 70 anys. Quant val la seva entrada si només ve per la tarda?
7. Si tingués un carnet de temporada hi podria anar tots els dies que està obert. Els caps de setmana no tanquen. Quants dies són això?

Nom: .....

Data: .....

## Cicle Mitjà

### Petits textos de comprensió lectora



Tarifes	Anada i Tornada		Un trajecte	
	Núria/Ribes	Núria/Queralbs	Núria/Ribes	Núria/Queralbs
<b>T ALTA</b>				
Bitllet adult	21,25€	19,15€	13,25€	11,95€
Bitllet nen	12,75€	11,50€	7,95€	7,15€
+ 65 anys	18,10€	16,25€	11,30€	10,20€
C. Jove	19,15€	17,30€	11,95€	10,75€
<b>T BAIXA</b>				
Bitllet adult	17,75€	15,95€	11,10€	9,95€
Bitllet nen	10,65€	9,55€	6,65€	6,00€
+ 65 anys	15,05€	13,55€	9,40€	8,50€
C. Jove	16,00€	14,35€	9,95€	8,95€
<b>BITLLET TEMPORADA</b>			<b>Adult 120,05€</b>	<b>Infantil 66,05€</b>

## ANEM A LA VALL DE NÚRIA I AGAFEM EL FUNICULAR

1. Quin és el bitllet més car?  
Quant val?
2. Quin és el bitllet més econòmic?  
Quant val?

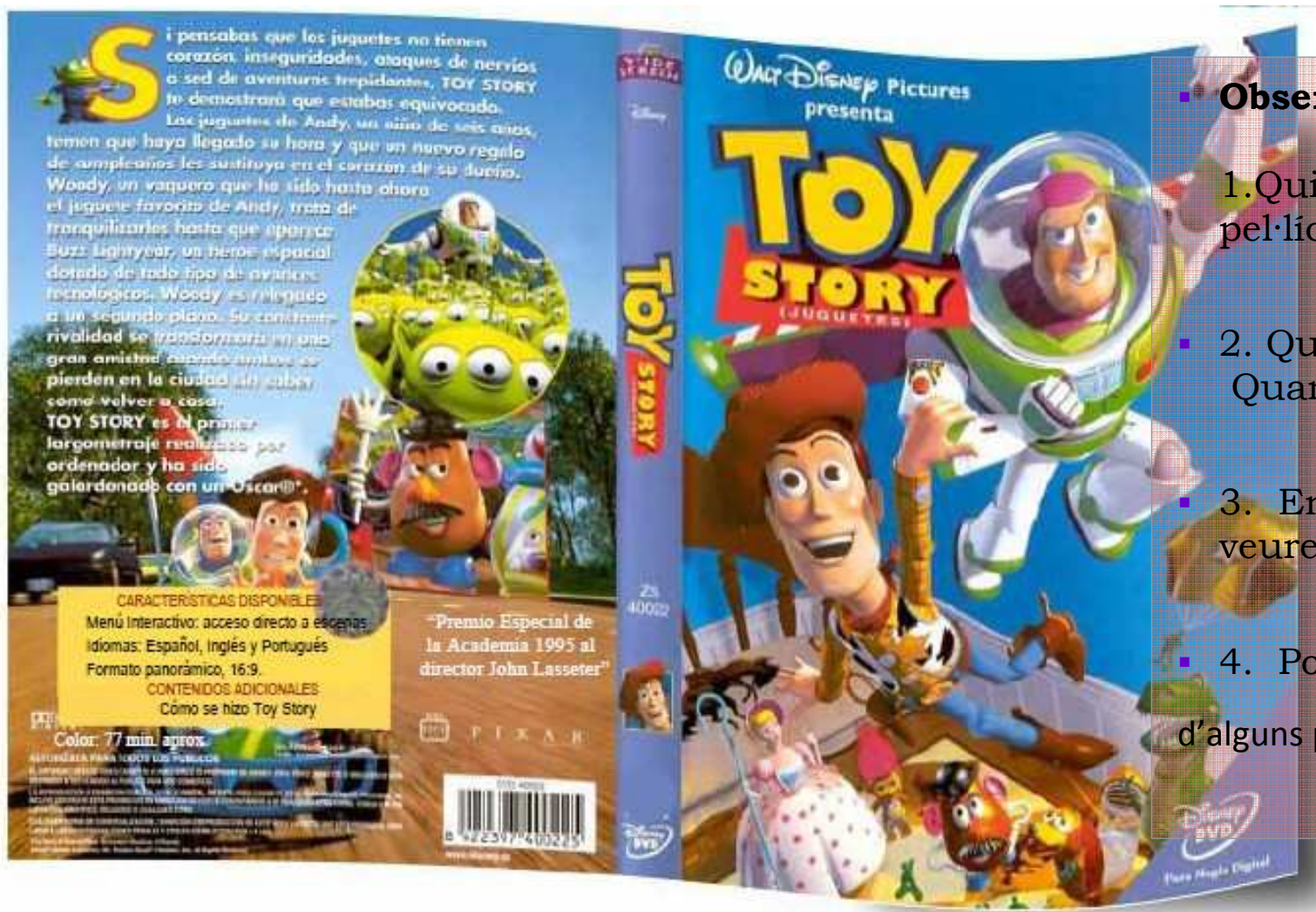
Nom: .....

Data: .....



## Cicle Mitjà

### Petits textos de comprensió lectora



#### ■ Observa i contesta

1. Quin és el títol de la pel·lícula?
2. Quins premis ha rebut?  
Quanta estona dura?
3. En quants idiomes es pot veure?
4. Podries dir-me el nom d'alguns personatges?