

ACTIVITAT 2 | LA CAPSA

9. Per decorar la capsa, en Pere ha dibuixat en una cara 4 triangles rectangles iguals.

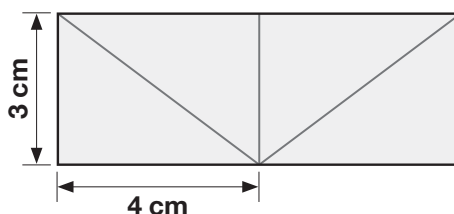
En Pere sap que 2 dels costats del triangle mesuren 3 cm i 4 cm i que la superfície de cada triangle és de 6 cm².

Quina és la superfície total d'aquesta cara?

12 cm²

24 cm²

Justifica com ho has calculat.

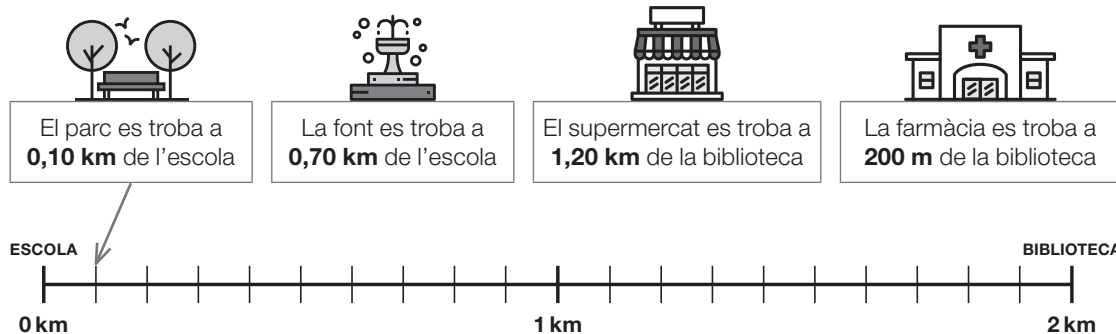


CORRECCIÓ MANUAL

0-1-2
i

ACTIVITAT 3 | PER ARRIBAR A L'ESCOLA

13. Entre l'escola i la biblioteca hi ha un parc, una font, un supermercat i una farmàcia.
Dibuixa una fletxa que surti de cada requadre i que indiqui el punt on es troba.



0-1-2
m

ACTIVATAT 5 | ELS SUCS DE FRUITA

18. La Laura compra 2 bosses de taronges, a 2,80 euros cadascuna, i en Joan compra 4 quilos de taronges a pes, a 1,70 euros el quilo. Encara que tots dos han comprat 4 quilos de taronges, qui ha pagat més diners?

La Laura

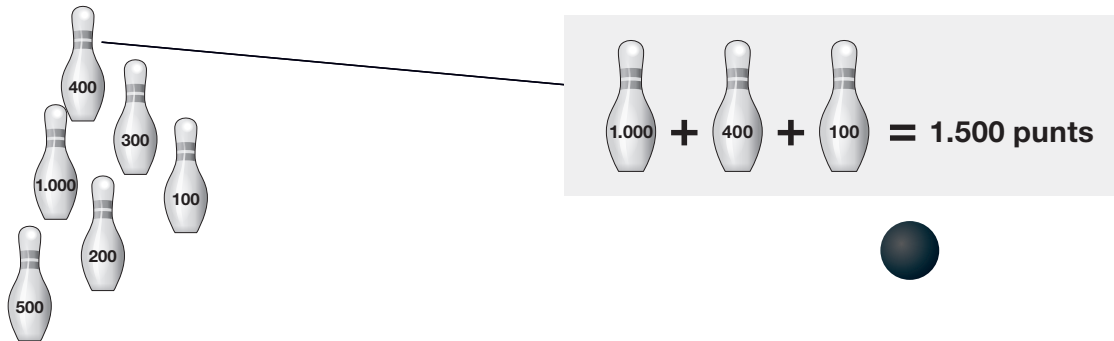
En Joan

Fes els càlculs i justifica la teva resposta.

0-1-2
r

ACTIVATAT 6 | EL JOC DE BITLLES

21. La Clara ha aconseguit 1.500 punts en una tirada. Ha pogut aconseguir aquesta puntuació tombant 3 bitlles: una de 1.000, una de 400 i una altra de 100 punts.



Escriu TRES opcions més per aconseguir aquesta puntuació. Pensa que pot haver tombat dos, tres o més bitlles per aconseguir-la.

0-1-2
u