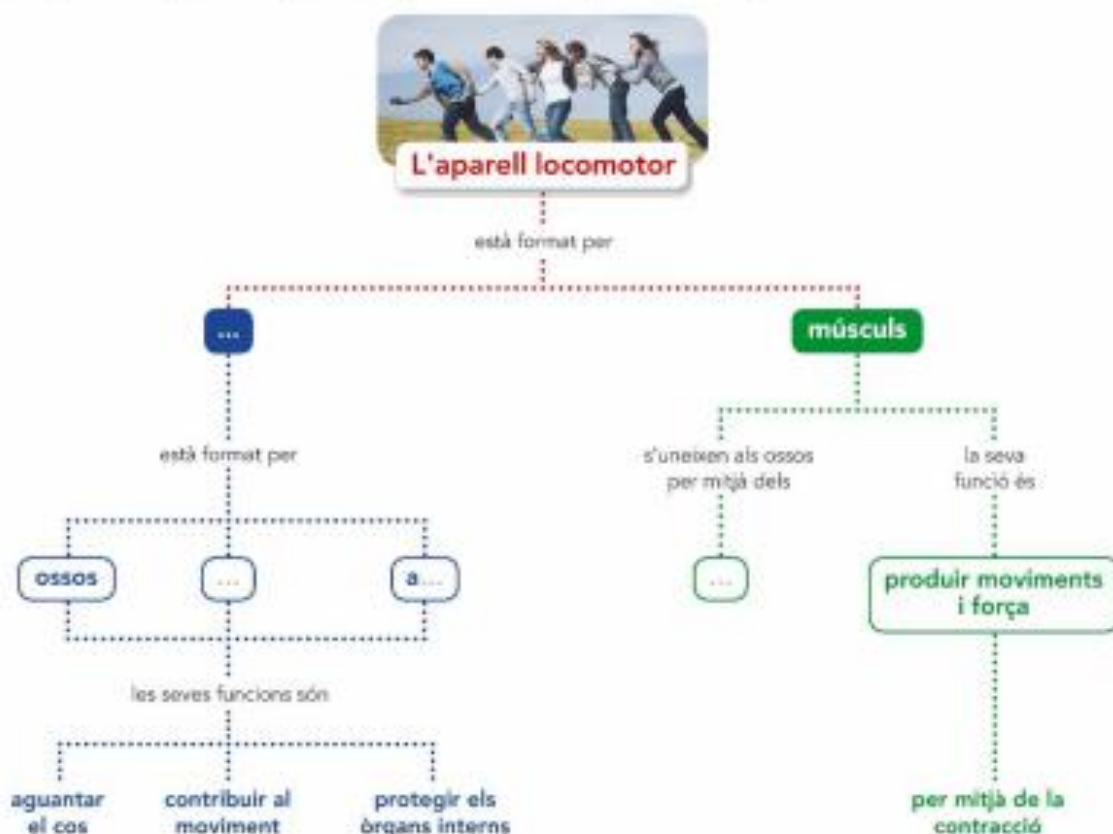


# Repaso el que he après

1. Copia aquest mapa conceptual al quadern i completa'n els espais.



2. Copia i completa al quadern.

- L'esquelet està format pels ..., els cartilags i les ...
- L'... serveix per ... el cos, per facilitar-ne els moviments i per ... els òrgans interns.
- Al cap hi ha els ossos del ... i els ossos de la cara.
- El lloc on s'uneixen dos ossos s'anomena .... Poden ser mòbils, ... o fixes.
- Les articulacions ... ens permeten realitzar moviments amplis, i les ..., moviments petits.
- Els ... generen moviment en ....
- Els músculs estan agafats als ossos per mitjà dels ....
- El músculs que fan moviments contraris s'anomenen ....

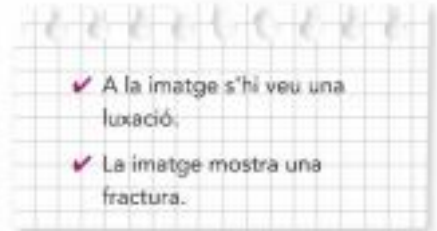
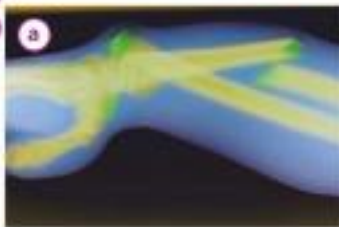
3. Veritable o fals.



Copia les afirmacions següents. Indica quines són falses i escriu-les correctament:

- Els lligaments uneixen els músculs en una articulació mòbil.
- Les últimes vèrtebres estan soldades de manera que formen dos ossos: el sacre i el còccix.
- El conjunt format per les vèrtebres lumbars, les costelles i el peroné forma la caixa toràcica.
- El bíceps, el tríceps i el quàdriceps són músculs de les extremitats.
- Tots els ossos del cos són de la mateixa grandària amb forma diferent.

● 4. Mira les imatges, llegeix les frases i contesta.



- Quina diferència hi ha entre el que s'hi veu a cadascuna?
- Amb quina frase relacionaries cada imatge?
- Quin os o quins ossos estan trencats en la imatge de la fractura?
- Quina articulació està afectada en la imatge de la luxació?