

Proposta d'activitats - Curs 1r - Setmana 4/05/20-11/05/20

Àmbits		Tasca 1	Tasca 2	Tasca 3	Tasca 4
Àmbit matemàtic		Les monedes	Els bitllets	El peu de la compra	Problemes de comprar i vendre
Àmbit lingüístic	Català	Les botigues de Sant Guim	La llista de la compra	Lectura	
	Castellà	Adivinanzas	CH	Leo el tiquet de la compra	
	Anglès	The babby triplets.	Song.	Enllaç on line.	Gogo's i altres dibuixos
Àmbit medi social i natural		On ho comprem?	El tiquet de compra	Endrecem la compra	
Àmbit educació física	Educació física	Repte dels girs			
Àmbit valors	Valors	Som superestrelles			
Àmbit artístic	Música	Conte musical	Ens movem!		
	Plàstica	Construïm reciclant deixalles: tirador ("tirachinas")			

Per fer el retorn de les tasques si voleu a través del correu escanejant i penjant el full on hagi fet la tasca o podeu enviar una foto pel mòbil de la tasca feta. També les podeu guardar en una carpeta i les porteu quan recomencem les classes.

Les tasques d'Àmbit matemàtic, llengua catalana, Plàstica i àmbit medi social i natural podeu enviar-les al meu correu del mvilardo@xtec.cat

EXPLICACIÓ DE LES TASQUES

Matemàtiques

- Tasca 1:

Dibuixa en mig full les monedes (1,2,5,10, 20 i 50 cèntims i les d'1€ i 2 €.

Han d'estar ordenades de menys a més valor i mantenir les proporcions en la mida (la de dos cèntims no pot ser més gran que la de 5). Si les tens a mà et pot anar bé resseguir-les amb el llapis damunt del paper.

També les has de pintar del seu color.

- Tasca 2:

En l'altra meitat de full hi dibuixes els bitllets de 5, 10, 20 i 50 €. Recorda també guardar la proporció i pintar-los del seu color.

- Tasca 3:

Enganxa en un full dos tiquets de la compra de la setmana i a sota hi dibuixes els bitllets i/o monedes que cal donar per pagar el total exacte (sense canvi)

Exemple: si el tiquet te un total de 19 euros amb 21 cèntims (19'21 €)

total19'21 €

<i>EUROS</i>	<i>CÈNTIMS</i>
	

- Tasca 4:

ANNEX 1 : Fes els problemes de comprar i vendre

Català

- Tasca 1:

Has comprat mai a les botigues de Sant Guim?

Dibuixa en un full una taula de tres columnes i tantes files com botigues puguis recordar, així:

NOM DE LA BOTIGA	QUINA BOTIGA ÉS?	QUE HI VENEN?
Cal Gomà	forn	Pa i pastes

Recorda utilitzar el regle per fer la taula.

- Tasca 2:
Pregunta als pares que cal comprar i escriu la llista de la compra per a la teva família fes-li una foto i me l'envies.
- Tasca 3:
Lectura del text de l'ANNEX 2 . Contesta tot sol les preguntes si pots.

Castellà

- Tasca 1
ANNEX 3 Lee las adivinanzas y intenta solucionarlas
- Tasca 2
ANNEX 4 Busca palabras que se escriben con CH
- Tasca 3
ANNEX 5 Lee el tiquet de la compra y contesta las preguntas

Coneixement del medi

- Tasca 1
ANNEX6 6 Els noms i els productes de les botigues
- Tasca 2.

La informació de tiquet de la compra. Fixa't en tota la informació que es dona un tiquet de compra d'una fruiteria:

FRUITS DONDARA		
C/ LLIBERTAT 28 BAIJOS		
tel. 973533083		
CERVERA		
24/03/2020 13:55		
No.	0	VI NT 13
kg	€/kg	€
2.220	2.50	5.55
1.495	1.60	2.39
1.770	3.95	6.99
0.660	2.50	1.65
0.965	5.95	5.74
0.495	2.95	1.46
E		1.60
E		1.60
0.545	2.50	1.36
0.080	3.99	0.32
E		3.50
0.485	3.75	1.82
0.340	2.99	1.02
0.370	6.95	2.57
1.110	2.10	2.33
Operaciones 15		
TOTAL €		39.90
TOTAL PTA		6639
#000020		
AGRAITS PER LA VISITA		

NOM DE LA BOTIGA - ADREÇA I TELÈFON - DIA I HORA DE LA COMPRA - PESOS DELS DIFERENTS PRODUCTES - PREUS DELS DIFERENTS PRODUCTES PER QUILOS O PAQUETS - PREU DE CADA PRODUCTE COMPRAT - PREU TOTAL A PAGAR

Enganxa en un full un tiquet de la compra i ves anotant tota la informació que hi vegis. Pots demanar ajuda a algun adult.

- Tasca 3

Ajuda al pare o a la mare a endreçar la compra. Fes un llistat dels productes comprats i al costat escrius on s'ha de guardar. Per exemple:

-iogurts → a la nevera

Plàstica

- Tasca 1



Necessites dos rotlles de paper de vàter i dos globus

Podràs construir aquest tirador.

En l'enllaç de sota veuràs com es fa.

Després pots jugar a fer punteria

Si et falta algun material, pots inventar la teva joguina de reciclatge i enviar-me'n una foto.

<https://www.youtube.com/watch?v=K5dfDuQf2ZQ>

Música

TASCA 1 : Conte “La flautista d’Hamelín i la flauta travessera”.

Mira ben atentament el vídeo del conte i després m’escrius una petita nota explicant-me el que més t’ha agradat.

<https://youtu.be/mNWIVGnSTUM>

TASCA 2: Ens movem! Sóc un mico (Pot Petit)

Escolta la cançó i balla com vulguis al ritme de la música. Prova de fer respondre els ecos que fa el mico. Segur que et surt genial!

<https://youtu.be/NJSDfeWP9Wc>

Espero els vostres vídeos! mgabrie8@xtec.cat

Anglès:

1.-Visionat vídeo: (Es pot visionar més d’un cop al llarg dels dies)

The babby triplets: Mine or yours ?

****Potser haureu d’Obtenir Flash Player clicant . (En color blau a la part superior esquerra de la pàgina)

http://www.edu3.cat/Edu3tv/Fitxa?p_id=26958&p_ex=triplets

2.- Escoltar i aprendre la cançó.(Es pot escoltar més d'un cop al llarg dels dies)

Walking, walking song

<https://www.youtube.com/watch?v=fPMjnITEZwU>

4.- Anar a aquest enllaç I fer el nivell 1. Si es vol fer el 2, endavant.

http://concurso.cnice.mec.es/cnice2005/132_English_for_Little_children/presentacion/presentacion.html

5.- Visionar vídeos GOGO'S (Es poden visionar més d'un cop al llarg dels dies)

Anar a google or youtube i cercar per exemple: **Gogo's Unit 4**

6.- Recordatori programació infantil matinal **en anglès** de 9'25 h a 10'10 h.al Super 3.

7.-Recordatori vídeos infantils animats **en anglès** de POCOYO, PEPPA PIG, DORA THE EXPLORER, CALLIOU. (Anar a Google, cercar els dibuixos i anar a vídeos)

Educació física

Per aquesta setmana us proposo el repte dels girs.

En aquest repte no hi ha vídeo per mostrar exemple, ja que hi ha moltes varietats de girs que podem fer: longitudinals, transversals i sagitals.

En els girs longitudinals podeu fer girs sobre vosaltres mateixos com podria fer un gegant, en ambdós sentits, o també fer la croqueta per damunt de la superfície que preferiu. També podeu fer girs executant un salt al mateix moment.

En els girs transversals podeu realitzar tot tipus de tombarelles endavant, endarrera... amb les varietats que vosaltres vulgueu.

I finalment els girs sagitals podríem dir que seria practicar la roda lateral.

Podeu anar enviant-me els vídeos de tot el que heu fet. Benvingut serà i molt content de poder veure-us almenys a través d'una foto o d'un vídeo. Així que us animo a que ho proveu i m'ho envieu.

Sergi: sserra26@xtec.cat

Valors / religió

Som superestrelles.

Tots tenim característiques úniques i especials, alguna cosa que fem bé, alguna cosa amb la qual gaudim o alguna característica del nostre cos que ens agrada. Es tracta


de pensar molt bé com ets, quines característiques defineixen la teva personalitat i escriure-les. Les escriuràs en una estrella que podràs penjar a la teva habitació, d'aquesta manera sempre podràs llegir-la i així no oblidar mai que ets una persona única i especial, com les estrelles que hi ha al cel.

Imprimeix, dibuixa, calca, copia, l'estrella que trobaràs al document o qualsevol altra que t'agradi.

A les puntes de l'estrella has d'escriure aquestes característiques que et fan ser tan especial.

Acaba decorant l'estrella al teu gust.

Retalla l'estrella, fes un foradet en una de les puntes i penja-la en qualsevol lloc de la teva habitació o casa.



© www.PheeMcFaddell.com

Podeu fer el retorn a ialonso7@xtec.cat

ANNEX 1

Nom:..... Data:

PROBLEMES DE COMPRAR I VENDRE. Fes un petit esquema, escriu l'operació i escriu el resultat

- Si compro dos quilos de patates i cada quilo costa 1€ i cinquanta cèntims, quant hauré de pagar?

ESQUEMA	OPERACIÓ
RESULTAT	

- He comprat maduixes i cireres. Les maduixes m'han costat 3 € i les cireres 8. Quants euros hauré de pagar?

ESQUEMA	OPERACIÓ
RESULTAT	

- La mare del Roc ha anat a comprar amb un bitllet de 20 euros. La compra li ha costat 17€ . quants diners li han sobrat ?

ESQUEMA	OPERACIÓ
RESULTAT	


- El pare del Roc va a comprar amb un bitllet de 10 € i un de 5 €. A l'hora de pagar veu que el que ha comprat costa 19 €. Quants diners li faltaran per poder pagar tot el que ha comprat?

ESQUEMA	OPERACIÓ
RESULTAT	


- A la venedora del forn de pa se li ha espatllat la calculadora i ha de cobrar la compra de la Senyora Maria que s'emporta un barra de pa que val 2 € i 20 cèntims i 2 panets que valen 1€ cadascun. Quan li haurà de cobrar?

ESQUEMA	OPERACIÓ
RESULTAT	


- Posa a cada guardiolar la quantitat que hi diu a sota:



18 €



54 €



25 €

En Manel surt a comprar

En Manel surt a comprar. Primer, va al forn de pa i compra una barra de pa i un croissant. A la fruiteria agafa pomes, peres, préssecs enciam, tomàquets i cebes. Després, va a la carnisseria i compra un bistec. Al final, a la peixateria troba peix.

Llegeix i contesta tot sol si pots:

- A on vas si vols comprar un bistec?
- Diques cinc coses que podem comprar a la fruiteria.
- Com t'agraden les pomes, grosses o petites?
- De quin color són els pèsols?, i les pastanagues?
- Anomena tres productes que es poden comprar a la farmàcia.
- Escribeu per ordre el nom de totes les botigues on compra en Manel.

ANNEX 3

LEE Y PIENSA LAS ADIVINANZAS.

Las letras te dan pistas de la solución y todos son alimentos que comparamos y comemos

Choco me dice la gente,
late mi corazón.

El que no sepa mi nombre, C _ _ C _ _ _ _ E
es un gran tontorrón.

Blanca por dentro, verde por fuera.
Si quieres que te lo diga, espera. _ _ _ _ A

¿Quieres té? ¡Pues toma té!

¿Sabes ya qué fruto es? T _ _ _ T _

*Oro parece y plata no es,
¡y no lo adivinas de aquí a un mes!* P _ _ _ _ _ _

Zorra le dicen, aunque siempre del revés.
Se lo come el japonés y plato muy rico es. _ _ _ _ _ Z

Tengo capa sobre capa;
Y si me las quieren quitar nadie de llorar se escapa. C _ _ O _ _ A

Dibuja las respuestas



ANNEX 4

Nombre: Fecha:

SOPA LETRAS CH

Busca en la sopa de letras ocho palabras con el dígrafo CH:

W	C	U	C	H	A	R	A	S	M	T
C	W	C	W	O	C	A	S	D	O	G
H	E	H	S	I	H	V	B	N	C	Q
O	R	U	D	C	O	C	H	E	H	W
C	T	P	F	U	R	A	S	D	I	E
O	Y	E	G	Y	I	C	R	F	L	R
L	U	T	H	T	Z	H	U	I	A	T
A	I	E	K	R	O	F	G	H	F	Y
T	O	C	Q	D	F	R	G	H	R	U
E	C	H	A	Q	U	E	T	A	E	I
V	B	N	M	D	F	G	H	J	D	O
C	S	X	C	B	O	C	H	O	X	P



ANNEX 5

TIQUET DE LA COMPRA

HOY LA MAMÁ DE AZUCENA HA IDO A LA COMPRA. ESTE ES SU TIQUET DE LA COMPRA EN EL SUPERMERCADO:

VITROCLEN CREMA 45	4,45
DANONINO DUO FRESA	1,00
JUDIAS VERDES PLAN	1,65
GALLETAS CHOCOBISC	2,55
ACEITUNAS VERDE PART	1,09
TOMATE TRITURADO CRF	0,40
TOMATE TRITURADO CRF	0,40
CEREALES CORN FLAK	1,99
MANZANA GOLDEN	1,19
HOGAZA GALLEGA	1,50
PAN S/CORTEZA BIMBO CD04	1,97
GALLETAS MARIA 800GR	0,99
GALLETA TABLETA CHOC	0,88

13 ART TOT COMPRA:	20,06

1. ¿CUÁNTOS PRODUCTOS HA COMPRADO?.....
2. ESCRIBE EL NOMBRE DE LO QUE HA COMPRADO EN LA SECCION DELA PANADERIA.
.....
3. ¿CUÁNTOS TIPOS DE GALLETAS HA COMPRADO?.....
4. EN LA SECCION DE FRUTAS Y VERDURAS HA COMPRADO
..... Y.....
5. ¿CUÁNTOS BOTES DE TOMATE TRITURADO HA COMPRADO?.....
6. EL ÚNICO PRODUCTO LÁCTEO QUE HA COMPRADO SE LLAMA
..... Y TIENE SABOR A
7. EL PRODUCTO MAS CARO ES EL ÚNICO QUE NO ES COMESTIBLE,
¿CUÁNTO CUESTA?.....
8. EL PRODUCTO MAS BARATO ES.....

ANNEX 6

Escriu a la taula el nom de tots els productes que veus a les fotos i fes anar cadascun a la botiga on l'aniries a comprar, suposant que no hi hagués SUPERMERCATS, es clar



PRODUCTES	BOTIGUES
<p>paella</p>	fruiteria i verduleria
	carnisseria
	peixateria
	quiosc i papereria
	ferreteria
	adrogueria