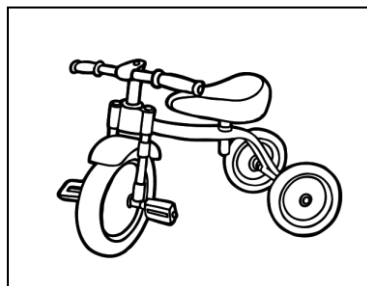




SITUACIÓ MATEMÀTICA

En aquest pàrquing hi poden aparcar tres tipus de vehicles:
cotxes, bicicletes i tricicles.



L'encarregada del pàrquing ha comptat que dins el garatge
hi ha en aquest moment 12 rodes.

T'atreveixes a imaginar quins i quants vehicles hi ha dins el pàrquing?

Quantes respostes pots donar?

I si l'encarregada del pàrquing diu que ha vist 15 rodes?

Quants i quins vehicles hi ha dins el pàrquing?

Quantes solucions has trobat?

Hi ha més o menys combinacions possibles