

Nom \_\_\_\_\_ Data \_\_\_\_\_

Jordi es va gastar 1.769 € en un televisor i Teresa 675 € en una llavadora. Quants diners es va gastar Jordi més que Teresa?

### 1. Comprén.

Pregunta: \_\_\_\_\_

\_\_\_\_\_


Dades: \_\_\_\_\_

\_\_\_\_\_

### 2. Pensa què cal fer.

- una suma.  
 una resta.  
 una suma i resta.


### 3. Calcula.



Solució:

\_\_\_\_\_

Elvira i Carme han participat en una tómbola. Quants punts més que Elvira ha aconseguit Carme en la tómbola?



### 1. Comprén.

Pregunta: \_\_\_\_\_

\_\_\_\_\_


Dades: \_\_\_\_\_

\_\_\_\_\_

### 2. Pensa què cal fer.

- una suma.  
 una resta.  
 una multiplicació.

### 3. Calcula.



Solució:

\_\_\_\_\_