

# DOSSIER d'estiu recuperació de 2n ESO

## Ed. Visual i plàstica

nom i cognom:

estiu 2014

<http://blocs.xtec.cat/zonavip/>

o entrant per lla web de l'institut, per sota el calendari

## **TEMA 1: LA PERCEPCIÓ**

### **Veure el Power Point de la PERCEPCIÓ**

Pots veure altres Presentacions amb més il·lusions òptiques

#### **ACTIVITAT 1.1**

Contesta :

1. Què necessitem per veure-hi?

2. Què és la PERCEPCIÓ?

3. Defineix:

Il·lusions òptiques

Imatges ambigües

Figures impossibles





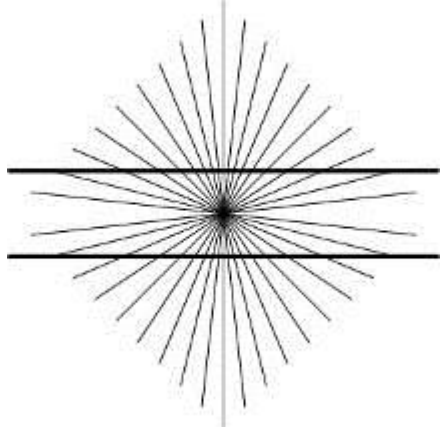

#### **ACTIVITAT 1.2**

Dibuixa resseguint i posa el nom de l'objecte que pots veure-hi.



### ACTIVITAT 1.3

Què és? una il·lusió òptica, una imatge ambigua, una figura impossible o un enganyatall?

	 <p>Ànec o conill?</p>	
 <p>ALL IS VANITY</p>	 <p>Les línies horitzontals són rectes o corbes?</p>	

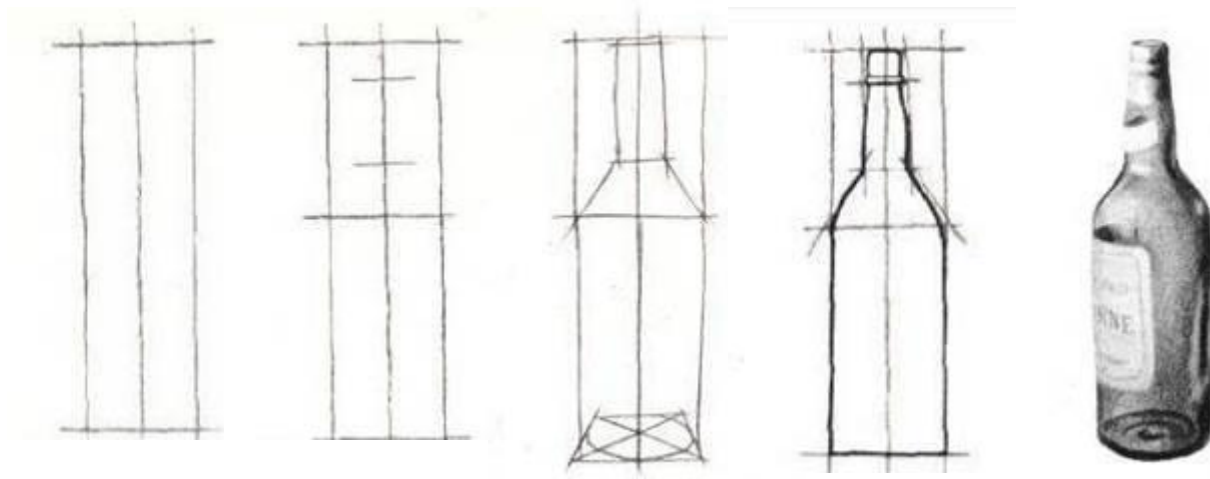

### ACTIVITAT 1.4

Dibuixa una il·lusió òptica.

## TEMA 2: EL DIBUIX

### ACTIVITAT 2.1

Recorda com dibuixar una ampolla.



1. eix de simetria i encaix

2. línies horitzontals

3. esquema

4. dibuix sense ombres

- Dibuixa dues ampolles ben diferents del natural seguint els mateixos passos.

- Tècnica: llapis de grafit nº2 o nº1  
sobre paper **BASIK DINA4**

### ACTIVITAT 2.2: SIMETRIA

Dibuixa simètricament. Primer fes l'encaix, després l'eix de simetria i les línies horitzontals que et serviran de guia.









### TEMA 3: LA FORMA

Veure el Power Point sobre LA FORMA

#### ACTIVITAT 3.1

Quins tipus de formes hi ha en cada imatge?

1. segons el què hi ha representat: FIGURATIVA, ABSTRACTA O SIMBÒLICA
2. segons el seu contorn: RECTILÍNIA, CURVILÍNIA O MIXTA
3. segons si té o no un eix de simetria: SIMÈTRICA O ASIMÈTRICA

		
<ol style="list-style-type: none"><li>1.</li><li>2.</li><li>3.</li></ol>	<ol style="list-style-type: none"><li>1.</li><li>2.</li><li>3.</li></ol>	<ol style="list-style-type: none"><li>1.</li><li>2.</li><li>3.</li></ol>
		
<ol style="list-style-type: none"><li>1.</li><li>2.</li><li>3.</li></ol>	<ol style="list-style-type: none"><li>1.</li><li>2.</li><li>3.</li></ol>	<ol style="list-style-type: none"><li>1.</li><li>2.</li><li>3.</li></ol>

#### ACTIVITAT 3.2: Formes ABSTRACTES

Dibuixa sis formes abstractes ben diferents. N'hi ha d'haver de rectilínies, curvilínies, mixtes, simètriques i asimètriques.


### **ACTIVITAT 3.3**

De quines maneres es poden **relacionar** les formes en una composició?

- 1.
- 2.
- 3.
- 4.
- 5.

Fes una petita composició amb dues de les formes abstractes que has dibuixat que siguin ben diferents. Han de relacionar-se **de totes les maneres possibles** (5).



Com fer-ho:

Fes-te un requadre, no cal que ocupi tot el full.

Primer dibuixa-ho en llapis.

Repassa-ho amb cal·librat i borra el llapis

Pinta-ho amb un màxim de **cinc** colors, el fons inclòs.





### **ACTIVITAT 3.3: Formes FIGURATIVES**

Dibuixa l'esquema de la figura humana al costat de cada fotografia







## TEMA 4: LA GRANDÀRIA

### ACTIVITAT 4.1

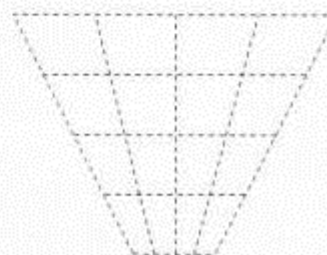
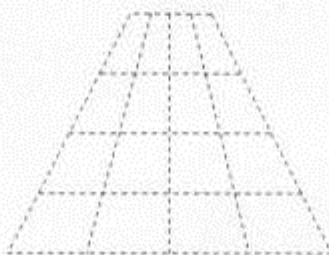
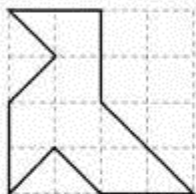
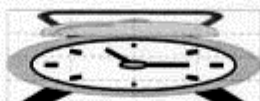
#### **AMPLIACIÓ**

Amplia aquest dibuix



**ACTIVITAT 4.2**  
**DEFORMACIÓ**

Observa en l'exemple com la figura s'adapta a les proporcions de la quadrícula.  
Dibuixa les còpies deformades de l'ocellet en cada una de les quadrícules proposades.



### ACTIVITAT 4.3 **DESPROPORCIÓ**

#### **Veure Power Point sobre LA DESPROPORCIÓ**

Tria i retalla un dels objectes de la pàgina següent o algun altre que a tu t'agradi.

Has de fer una composició on aquesta imatge estigui **desproporcionada** o per **massa gran** o per **massa petita** respecte a la resta del dibuix que tu inventaràs.

Has de pensar una situació divertida i sobretot molt exagerada.

Tècnica : Collage retallant i enganxant l'objecte


Dibuixa a llapis tota la resta. No cal que ocupi tot el full.

Repassa'l a cal·librat i pinta'l a llapis de colors


### **DESPROPORCIÓ**

Exemples





LA DESPROPORCIÓ



OBJECTES PER FER LA DESPROPORCIÓ



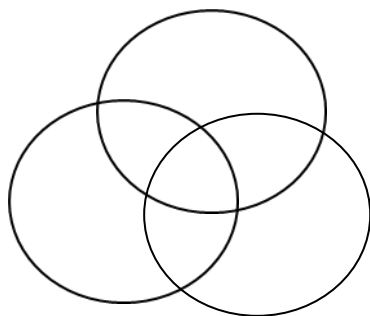
## TEMA 6: EL COLOR

### Veure el Power Point sobre EL COLOR

#### ACTIVITAT 6.1: EL COLOR

1. Què és el que fa possible que veiem els colors?
2. De què està composta la llum blanca?
3. Com es pot descomposar la llum blanca? Fes el dibuix il·lustratiu.
4. Qui va fer aquest experiment per primera vegada i a quin any?
5. Quins són els colors de l'arc de sant Martí? ESCRIU-LOS ordenadament.
6. Quines són les llums que l'ull humà no veu i que estan als extrems de l'espectre visible?
7. Quan els raigs de llum incideix sobre un objecte, què és el que fa que determinades ones de color les absorbeixi i altres les refusi?
8. Quines ones de color veiem, les que absorbeix l'objecte o les que refusa quan la llum blanca l'il·lumina?
9. Com és que veiem un tomàquet de color **vermell**? Explica-ho ben explicat i fes el dibuix
10. Com és que veiem un ou de color **blanc**? Explica-ho ben explicat i fes el dibuix

11. Com és que veiem un gat **negre**?
12. Per què preferim el color blanc per els vestits d'estiu ?
13. Per què diem que els vestits negres fan calor?
14. On trobem **colors-llum**?
15. Quins són els colors-llum **primaris** ?
16. Com s'anomena la mescla dels tres colors-llum primaris?
17. De quin color és la suma des tres colors-llums primaris?
18. Quins són els colors-llum secundaris?
19. Posa color a la suma de **colors-llum**.



20. Quan es barregen diferents colors-llum, la mescla cada vegada és més clara o és més fosca?



## ACTIVITAT 6.2

1. Què és el **color-pigment** ?
2. De què està composta **la pintura**??
3. Què és **el pigment**?
4. Què és l'**aglutinant** ?

5. Posa els noms



6. Com es diu la mescla dels colors-pigment?
7. Quins són els **colors-pigment primaris**?
8. La barreja dels colors-pigment donarà un color més clar o més fosc?
9. Què és el cercle cromàtic?
10. Amb quins colors primaris es fa el color...

Verd :

Taronja:

Lila:

Verd fosc:

Blau fosc:

Violeta:

Vermell:

Groc fosc:

11. Amb quins **colors primaris** es fan els **colors-terra o marrons** ?

12. Quins tres tipus de colors-terra hi ha?

13. Què hem de fer per donar **lluminositat** a un color?

14. Quin és el color més lluminós?

I el menys lluminós?

15. Què són els colors harmònics?

16. Són harmònics? SI o NO ?

El groc i el taronja:

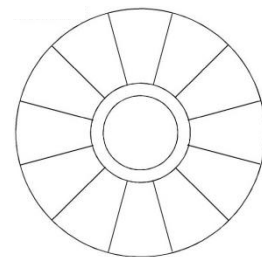
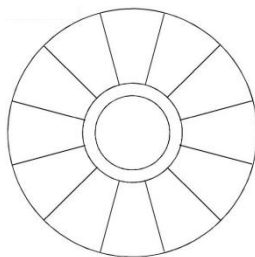
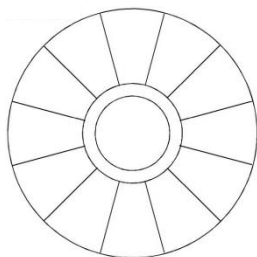
El vermell i el cian:

El blau i el verd fosc:

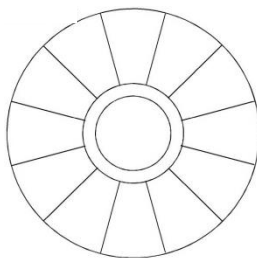
El verd clar i el lila:

17. Què són els colors complementaris?

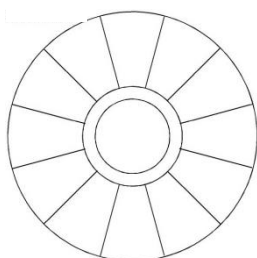
18. Pinta 3 parelles de colors complementaris



19. Pinta els colors freds



20. Pinta els colors càlids






### ACTIVITAT 6.3 EL CERCLE CROMÀTIC



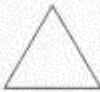






Pinta el cercle cromàtic amb llapis de colors. Si pintes suaument els podràs barrejar bé. **Només pots fer servir els tres colors primaris.**

Pinta el cercle cromàtic.

Colors primaris


	groc
	cian
	magenta

Colors secundaris

	+		=	
groc		magenta		vermell-taronja
	+		=	
magenta		cian		blau-violeta
	+		=	
cian		groc		verd

### **ACTIVITAT 6.4**

Pinta els tres tipus de marrons o terres. Ho pots fer en pintures o amb llapis de colors.  
Posa-hi en nom a sota



### **ACTIVITAT 6.5** **COLORS FREDS I COLOR S CÀLIDS**

Veure el Power Point de CÀLIDS i FREDS



Pinta NOMÉS amb colors CÀLIDS



Pinta només amb colors FREDS

**ACTIVITAT 6.6**  
**L'EXPRESSIVITAT DEL COLOR**

**Veure el Power Point sobre LA EXPRESSIVITAT DEL COLOR**

Què expressa cada color?

blanc	
Vermell	
Blau	
Groc	
Lila	
Rosa	
Verd	
Taronja	
Negre	

Pinta cada cartell amb colors diferents segons el que vulguin expressar



pel·lícula de por



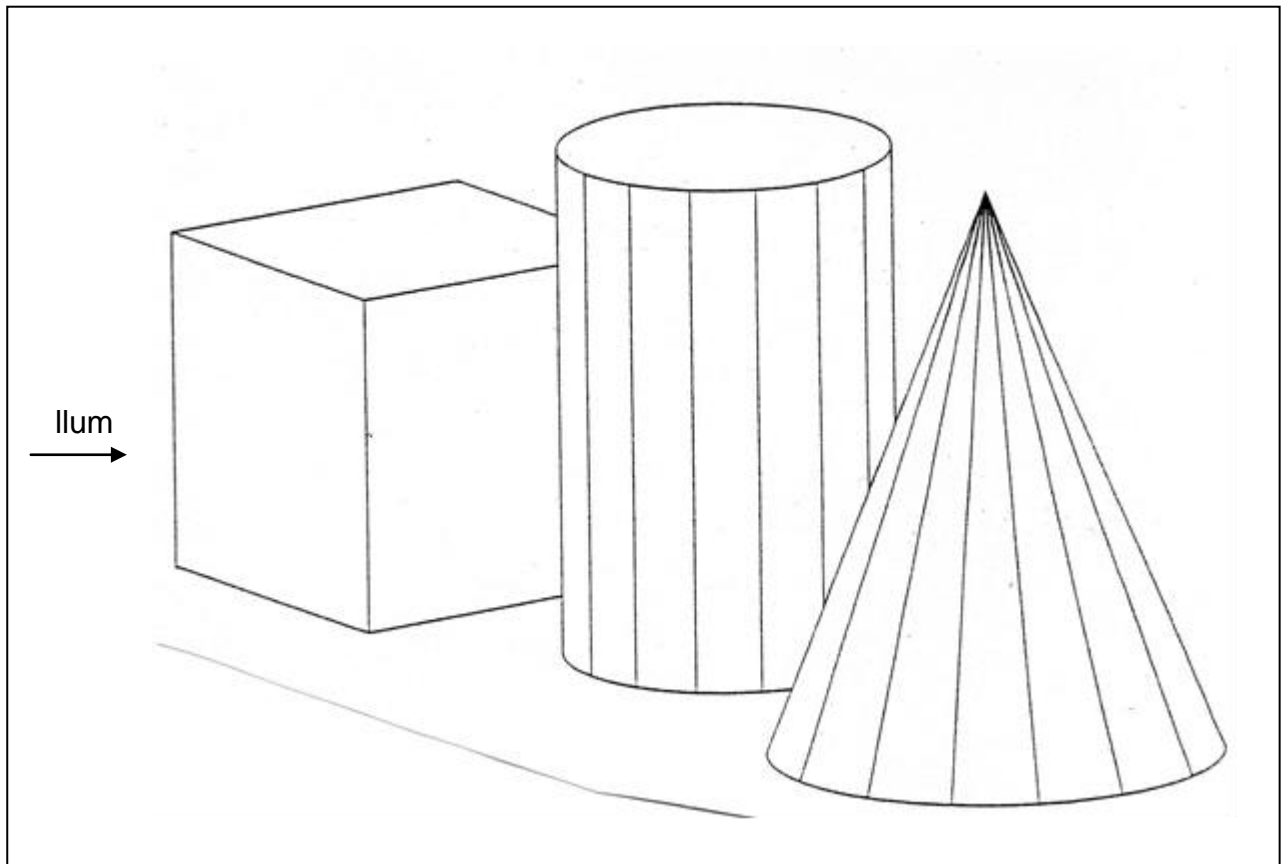
pel·lícula romàntica

## TEMA 7: LES OMBRES

Veure el Power Point LLUM i OMBRES

### ACTIVITAT 7.1 OMBRES PROPIES

Aplica la tècnica del clarobscur en la següent composició de figures geomètriques



- Quines són les ombres pròpies?
- Quines són les ombres projectades?
- Com es dibuixen les ombres pròpies d'una superfície corba?
- Com es dibuixen les ombres pròpies d'una superfície plana?

## **TEMA 8: LA REPRESENTACIÓ DE LA PROFUNDITAT**

**Veure el Power Point .**

### **ACTIVITAT 8.1**

Explica en què consisteix cada recurs per representar la profunditat

- Superposició:
- Grandària:
- Perspectiva
- Canvi de color
- Posició
- Ombres pròpies:

### **ACTIVITAT 8.2**

Fes una composició on la profunditat estigui representada pels sis recursos:

TEMA: el meu carrer

TÈCNICA: llapis de colors i calibrat.



## TEMA 9: DIBUIX GEOMÈTRIC

En aquest enllaç hi ha explicat els exercicis del dibuix geomètric

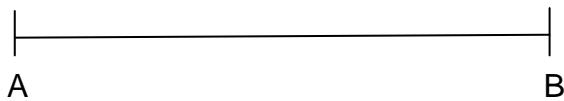
<http://www.educacionplastica.net>

També hi pots accedir des del bloc zona ViP i allà hi ha els enllaços més concrets.

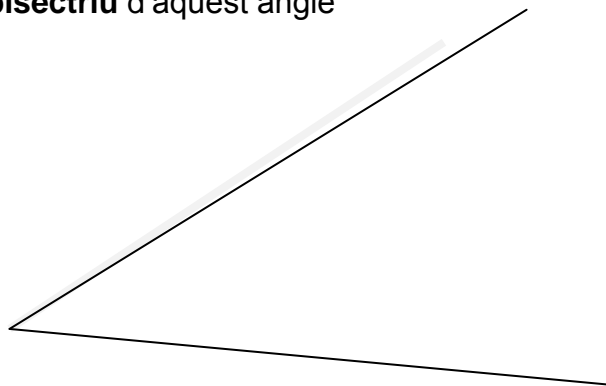
### ACTIVITAT 9.1

#### TRAÇATS BÀSICS

- Dibuixa **la mediatriu** d' aquest segment



- Dibuixa **la bisectriu** d'aquest angle



- Divisió d'un angle recte en **tres parts iguals**.





## **ACTIVITAT 9.2**

### **DIVISIÓ D'ANGLES IGUALS: el ventall**

**Veure Power Point de treballs d'altres alumnes**

- Traça un semicercle
- Divideix-lo en 8, 9 o 12 angles iguals amb el regle i el compàs
- Decora amb elements geomètrics com si fos un ventall
- Totes les decoracions han de ser fetes amb regle o en compàs
- Cada angle ha d'estar decorat simètricament al del seu costat
- Com més decorat estigui, millor serà el teu ventall
- Passa-ho a calibrat o punta fina negra
- Acoloreix amb llapis de colors



### ACTIVITAT 9.3

#### ELS POLÍGONS

Dibuix de polígons donat el radi de la circumferència circumscribita

- Dibuix d'un **triangle equilàter** inscrit en una circumferència

- Dibuix d'un **quadrat** inscrit en una circumferència

- Dibuix d'un **pentàgon** inscrit en una circumferència

- Dibuix d'un **hexàgon** inscrit en una circumferència

- Dibuix d'un **octògon** inscrit en una circumferència

- Dibuix d'un polígon estrellat

- Afageix al teu dossier la "teva mandala" que has fet durant el curs. Si no la tens feta fes-la en PAPER BASICK DIN A4

**ACTIVITAT 9.4**  
**ENLLAÇOS**

- Dibuix d'un **oval**

- Dibuix d'un **ovoide**

- Dibuix d'**una espiral**