
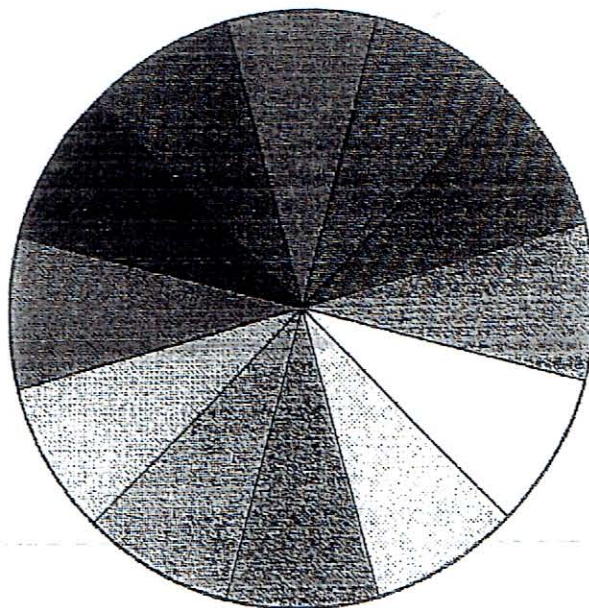


3. RECOPILA TEXTURES QUE TROBES AL TEU VOLTANT I, COM EN EL DOSSIER FET A CLASSE, REALITZA UNA COMPOSICIÓ (quadres de 6x6 cm) ON CLASSIFIQUES TEXTURES PER L'ORIGEN I PEL SENTIT DE PERCEPCIÓ (no oblidis escriure els títols i centrar be els quadres) DE LA SEGUENT MANERA:

- 1 LÀMINA AMB 6 TEXTURES NATURALS (3 VISUALS I 3 TÀCTILS)
- 1 LÀMINA AMB 6 TEXTURES ARTIFICIALS (3 VISUALS I 3 TÀCTILS)

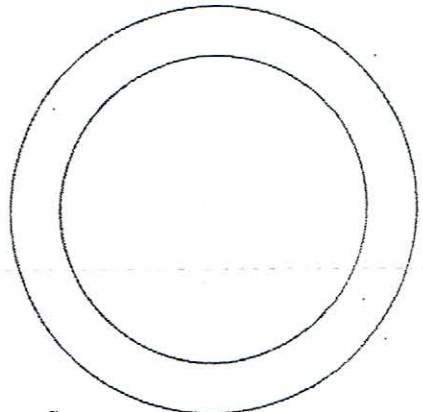
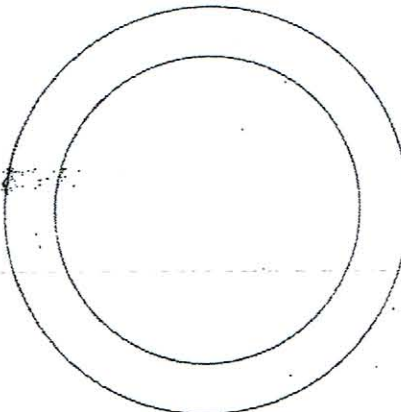

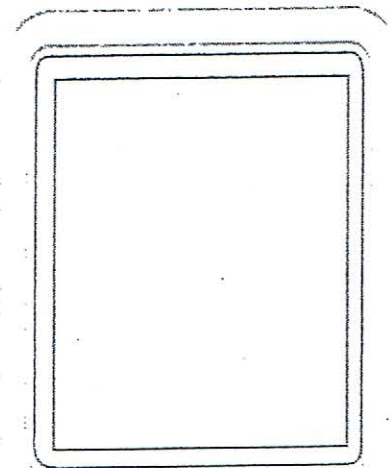
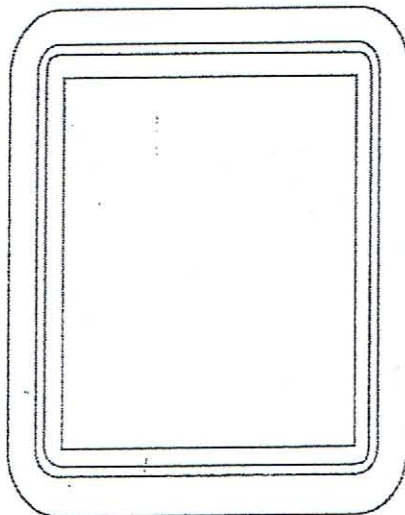
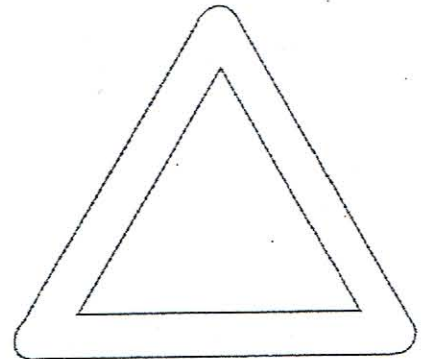
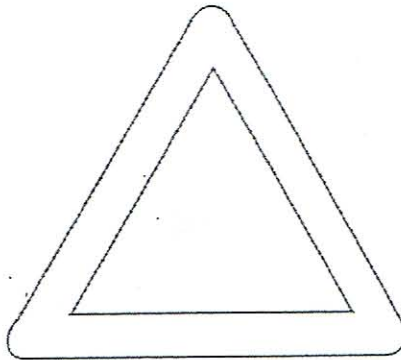



4. REALITZA UN CERCLE CROMÀTIC COM EL QUE HAS FET A CLASSE. EL RADI DEL CERCLE SERÀ DE 10 CM I RECORDA QUE HAS DE DIVIDIR CORRECTAMENT LES SEUES SECCIONS. Aprofita el següent cercle per a escriure sobre ell tot el que conegues sobre la classificació dels colors.



El código de circulación emplea las figuras y los colores para darnos información. Una señal triangular nos está avisando de algún peligro, las señales cuadradas o rectangulares suelen ser azules y simplemente son informativas y las circulares obligatoriedad (si llevan azul) o prohibición (si llevan rojo). Aquí tienes unos ejemplos de señales de tráfico, nos avisan de posibles desprendimientos en los alrededores de la carretera, de que hay un parking cercano y de prohibida la circulación para camiones.

Diseña más señales, puedes inspirarte en tu vida cotidiana, en circunstancias con tus amigos o en problemas o normas del instituto...



ACTIVITAT 5

L'onomaticó d'exemple és un dibuix fet amb formes orgàniques.


Ara tu dibuixa i pinta un nou onomaticó dins la circumferència, utilitzant **formes geomètriques**.

- Recorda que les formes geomètriques es dibuixen utilitzant el regle, l'escaire, el cartabó i/o el compàs.

- Després de fer el teu dibuix respon a la següent qüestió:

Les dues imatges són formes iguals o formes semblants?

Per què?



Representació objectiva. Dibuix tècnic

Fes les activitats següents:

1. Dibuixa rectes paral·leles separades un centímetre amb una inclinació de 45° .
2. Dibuixa rectes paral·leles separades un centímetre amb una inclinació de 30° .

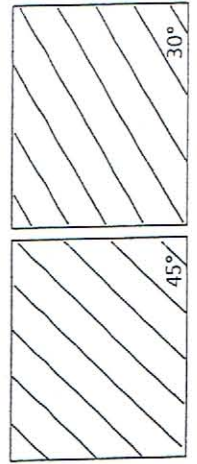
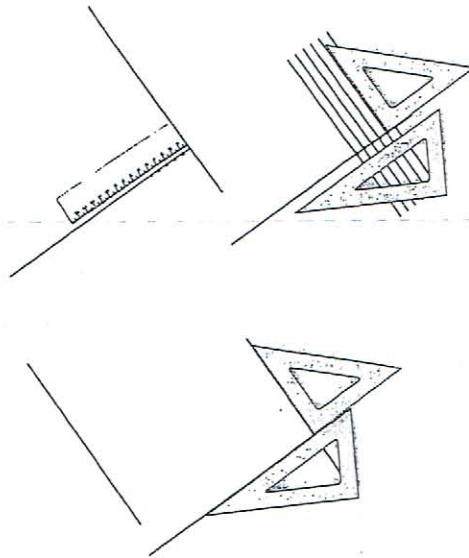
Nom: _____ Cognoms: _____

Data: _____ Curs: _____ Grup: _____

Recordia

Traçat de rectes paral·leles a una recta donada i separades una distància determinada

1. Fem una recta perpendicular a la recta donada.
2. A sobre d'aquesta recta perpendicular mesurem i marquem amb el regle les distàncies de separació de les paral·leles que hem de fer.
3. Fem les paral·leles per cada punt dels que hem marcat.



Exemple d'activitat


Fixa't que s'han fet les rectes paral·leles amb les inclinacions indicades.

ACTIVITAT 7

Acoloreix les figures seguint les indicacions. Pots utilitzar colors i/o retoladors.

Pinta cada peix amb
un color primari + el seu complementari

Pinta les anemones amb colors càlids





Pinta les dues fulles amb dos colors freds

5. UTILITZA LA SEGÜENT IMATGE O BUSCA UNA QUE T'AGRADE O INVENTA UNA PRÒPIA PER A PINTAR-LA AMB DIFERENTS GAMES CROMÀTIQUES BASADES EN LA SEUA TEMPERATURA, UNA CÀLIDA I L'ALTRA FREDA. Ambdues estaràn a la mateixa làmina, ben retallades, com a classe. Pots traure idees d'internet.



6. INVESTIGA EN UNA LÀMINA 6 DIFERENTS TÈCNiques PICTÒRIQUES (làmina 15 del dossier) COM LES PINZELLADES, EL SALPICAT, L'ESTAMPAT... DESPRÉS, RETALLA ELS MILLORS RESULTATS EN QUADRES DE 6X6 cm I ENGANXAL'S EN UNA LÀMINA BEN CENTRATS, ESPECIFICA LA TÈCNICA UTILITZADA.



DOSSIER RECUPERACIÓ

1r ESO

Visual i Plàstica

Alumne/a:

Professor/a:

Data: